

**Р. К. Гордин**

---

# **ЕГЭ 2010**

## **Математика**

**C1**

**C2**

**C3**

**C4**

**C5**

**C6**

### **Задача C4**

---

**Геометрия  
Планиметрия**

Под редакцией  
**А. Л. Семенова и И. В. Яценко**

---

**Разработано МИОО**

ГОТОВИМСЯ К ЕГЭ

---

Р. К. Гордин

ЕГЭ 2010. Математика  
Задача С4

Под редакцией А. Л. Семенова и И. В. Ященко

Москва  
Издательство МЦНМО  
2010

УДК 373:51  
ББК 22.1я72  
Г68

**Гордин Р. К.**

Г68 ЕГЭ 2010. Математика. Задача С4 / Под ред. А. Л. Семенова и И. В. Яценко. — М.: МЦНМО, 2010. — 148 с.

ISBN 978-5-94057-594-8

Пособия по математике серии «ЕГЭ 2010. Математика» ориентированы на подготовку учащихся старшей школы к успешной сдаче Единого государственного экзамена по математике. В данном учебном пособии представлен материал для подготовки к решению задачи С4.

На различных этапах обучения пособие поможет обеспечить уровень подготовки к организации повторения, осуществить контроль и самоконтроль знаний по планиметрии.

Пособие предназначено для учащихся старшей школы, учителей математики, родителей.

ББК 22.1я72

ISBN 978-5-94057-594-8



© Гордин Р. К., 2010.  
© МЦНМО, 2010.

## Предисловие

Это учебное пособие предназначено для подготовки к решению задач С4 из Единого государственного экзамена.

Предполагается, что школьник освоил школьный курс планиметрии с оценкой не ниже 4. Перед работой с этим задачником необходимо повторить основные определения и теоремы из школьного учебника. Это также полезно делать и в процессе работы с книгой.

Пособие начинается с диагностической работы. В ней 15 задач на различные темы. Если в течение двух-трёх часов вы решите не менее половины задач этой работы, то можно приступать к работе с основными разделами задачника. Если же большинство задач окажется вам не по силам, то, скорее всего, за оставшееся до экзамена время вам не удастся достигнуть уровня, необходимого для успешного решения задачи С4. В этом случае разумнее использовать это время для подготовки к другим задачам ЕГЭ по математике.

По какому принципу устроены разделы задачника? Прежде всего рассматриваются геометрические конфигурации, наиболее часто встречающиеся в задачах школьного курса: касающиеся окружности, пересекающиеся окружности, вписанные и описанные окружности треугольника и четырёхугольника и т. д., способы нахождения различных элементов геометрических фигур — медиан, высот, биссектрис треугольника, радиусов вписанных и описанных окружностей и т. д., а также некоторые общеизвестные методы решения геометрических задач — метод площадей, метод вспомогательной окружности, удвоение медианы и т. п.

Каждый из 15 разделов начинается с разбора соответствующей задачи диагностической работы (если вы решили эту задачу не тем способом, который приводится нами, это тоже хорошо: главное, что задача решена правильно). Затем формулируются некоторые утверждения, помогающие решить задачи данного раздела. Во многих случаях это факты, которые не рассматриваются в школьных учебниках в качестве основных, но часто содержатся после соответствующих глав учебника в качестве задач. После этого приводятся примеры решения задач с использованием этих фактов.

Раздел заканчивается списком задач для самостоятельного решения. Первая часть списка — подготовительные задачи — состоит из относительно простых задач, решаемых в два-три хода. Вторая часть — тренировочные задачи — состоит из более сложных задач, уровень которых, за исключением задач со «звёздочкой», примерно

соответствует уровню задач С4. Задачи со «звёздочкой» выше этого уровня. Решив по 6-7 тренировочных задач, вы можете приступить к диагностическим работам, расположенным в конце пособия. В каждой такой работе 6 задач. Работа рассчитана примерно на 2 часа. Если за это время вы решаете не менее пяти задач — это отличный результат. Если менее четырёх, рекомендуем ещё порешать тренировочные задачи, а после этого возвратиться к диагностическим работам.

Напомним, что задача считается решённой, если найдены все её решения и даны обоснования всех использованных утверждений. Разумеется, при этом можно ссылаться на теоремы из школьного учебника. Обратите внимание, что многие из задач С4 имеют более одного решения.

Ко всем задачам даются ответы, а к некоторым наиболее трудным — и указания.

В приложении приводятся различные интересные и полезные факты элементарной геометрии. Их можно использовать при решении задач на экзамене, но при этом если они не входят в школьный учебник, то в экзаменационной работе необходимо привести их доказательства.

## Диагностическая работа

1. В прямоугольном треугольнике  $ABC$  гипотенуза  $AB$  равна  $c$  и  $\angle ABC = \alpha$ . Найдите все медианы в этом треугольнике.

2. В треугольнике  $ABC$  проведена медиана  $BM$ . Известно, что  $\frac{\sin \angle ABM}{\sin \angle CBM} = \frac{1}{2}$ . Найдите отношение  $\frac{BC}{AB}$ .

3. В выпуклом четырёхугольнике  $ABCD$  отрезки, соединяющие середины противоположных сторон, пересекаются под углом  $60^\circ$ , а их длины относятся как  $1 : 3$ . Чему равна меньшая диагональ четырёхугольника  $ABCD$ , если большая равна  $\sqrt{39}$ ?

4. Найдите площадь трапеции с основаниями 18 и 13 и боковыми сторонами 3 и 4.

5. Стороны треугольника равны 3 и 6, а угол между ними равен  $60^\circ$ . Найдите биссектрису треугольника, проведённую из вершины этого угла.

6. Точки  $M$  и  $N$  — середины сторон соответственно  $BC$  и  $CD$  параллелограмма  $ABCD$ . Отрезки  $AM$  и  $BN$  пересекаются в точке  $O$ . Найдите отношение  $\frac{MO}{OA}$ .

7. В треугольнике  $ABC$  медиана  $AD$  и биссектриса  $BE$  перпендикулярны и пересекаются в точке  $F$ . Известно, что площадь треугольника  $DEF$  равна 5. Найдите площадь треугольника  $ABC$ .

8. Из точки  $M$ , лежащей вне окружности с центром  $O$  и радиусом  $R$ , проведены касательные  $MA$  и  $MB$  ( $A$  и  $B$  — точки касания). Прямые  $OA$  и  $MB$  пересекаются в точке  $C$ . Найдите  $OC$ , если известно, что отрезок  $OM$  делится окружностью пополам.

9. Окружности с центрами  $O_1$  и  $O_2$  касаются внешним образом в точке  $C$ . Прямая касается этих окружностей в различных точках  $A$  и  $B$  соответственно. Найдите угол  $AO_2B$ , если известно, что  $\operatorname{tg} \angle ABC = \frac{1}{2}$ .

10. На катетах прямоугольного треугольника как на диаметрах построены окружности. Найдите их общую хорду, если катеты равны 3 и 4.

11. Найдите радиусы вписанной и описанной окружностей треугольника со сторонами 13, 13, 24 и расстояние между центрами этих окружностей.

12. На продолжении диаметра  $AB$  окружности отложен отрезок  $BC$ , равный диаметру. Прямая, проходящая через точку  $C$ , касается окружности в точке  $M$ . Найдите площадь треугольника  $ACM$ , если радиус окружности равен  $R$ .

13. Окружность  $S_1$  проходит через центр окружности  $S_2$  и пересекает её в точках  $A$  и  $B$ . Хорда  $AC$  окружности  $S_1$  касается окружности  $S_2$  в точке  $A$  и делит первую окружность на дуги, градусные меры которых относятся как  $5 : 7$ . Найдите градусные меры дуг, на которые окружность  $S_2$  делится окружностью  $S_1$ .

14. На стороне  $AB$  треугольника  $ABC$  отмечена точка  $D$ , причём  $\angle BCD = \angle BAC$ . Известно, что  $BC = a$ ,  $AC = b$ ,  $AB = c$ . Найдите  $CD$ .

15. Углы при вершинах  $A$  и  $C$  треугольника  $ABC$  равны  $45^\circ$  и  $60^\circ$  соответственно;  $AM$ ,  $BN$  и  $CK$  — высоты треугольника. Найдите отношение  $\frac{MN}{KN}$ .

## § 1. Медиана прямоугольного треугольника. Решение задачи 1 из диагностической работы

1. В прямоугольном треугольнике  $ABC$  гипотенуза  $AB$  равна  $c$  и  $\angle ABC = \alpha$ . Найдите все медианы в этом треугольнике.

*Ответ:*  $\frac{c}{2}, \frac{c}{2} \cdot \sqrt{1+3\cos^2\alpha}, \frac{c}{2} \cdot \sqrt{1+3\sin^2\alpha}$ .

**Решение.** Поскольку медиана прямоугольного треугольника, проведённая из вершины прямого угла, равна половине гипотенузы, медиана  $CM$  равна  $\frac{c}{2}$ .

Пусть  $K$  — середина  $BC$ . Тогда  $CK = \frac{1}{2}BC = \frac{1}{2}AB \cos \alpha = \frac{1}{2}c \cos \alpha$ . По теореме Пифагора из прямоугольного треугольника  $ACK$  находим, что

$$\begin{aligned} AK &= \sqrt{AC^2 + CK^2} = \sqrt{(AB \sin \alpha)^2 + \left(\frac{1}{2}AB \cos \alpha\right)^2} = \\ &= \frac{c}{2} \sqrt{4\sin^2 \alpha + \cos^2 \alpha} = \frac{c}{2} \sqrt{4\sin^2 \alpha + 1 - \sin^2 \alpha} = \frac{c}{2} \sqrt{1+3\sin^2 \alpha}. \end{aligned}$$

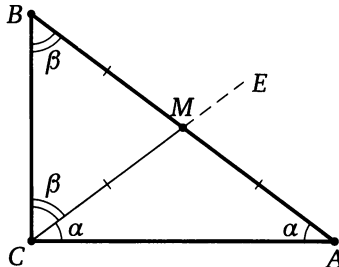
Аналогично находим медиану  $BN$ . ◁

\* \* \*

**Теорема.** Медиана прямоугольного треугольника, проведённая из вершины прямого угла, равна половине гипотенузы.

**Доказательство.** Пусть  $ABC$  — прямоугольный треугольник с прямым углом при вершине  $C$ . Обозначим  $\angle BAC = \alpha$ ,  $\angle ABC = \beta$ . Тогда  $\alpha + \beta = 90^\circ$ .

От луча  $CA$  в полуплоскость, содержащую точку  $B$ , отложим угол  $ACE$ , равный  $\alpha$ . Тогда луч  $CE$  проходит между сторонами угла  $ACB$ , так как  $\alpha = \angle ACE < \angle ACB = 90^\circ$ . Поэтому сторона  $CE$  этого угла пересекает гипотенузу  $AB$  в некоторой точке  $M$ .





Треугольник  $AMC$  равнобедренный, поскольку  $\angle ACM = \angle CAM$ , значит,  $CM = AM$ . С другой стороны, треугольник  $BMC$  также равнобедренный, поскольку

$$\angle BCM = 90^\circ - \angle ACM = 90^\circ - \alpha = \beta = \angle CBM.$$

Значит,  $CM = BM$ . Следовательно,  $M$  — середина гипотенузы  $AB$ , т. е.  $CM$  — медиана треугольника  $ABC$  и  $CM = \frac{1}{2}AB$ . Что и требовалось доказать.  $\square$

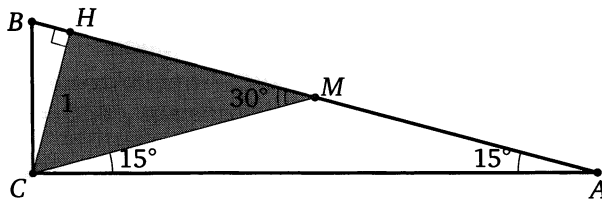
**Теорема (обратная).** Если медиана треугольника равна половине стороны, к которой она проведена, то треугольник прямоугольный.

Рассмотрим несколько примеров применения доказанного выше свойства медианы прямоугольного треугольника, проведённой из вершины прямого угла.

**Пример 1.** Найдите гипотенузу прямоугольного треугольника с острым углом  $15^\circ$ , если известно, что высота треугольника, опущенная на гипотенузу, равна 1.

*Ответ:* 1.

**Решение.** Пусть  $CH$  — высота прямоугольного треугольника  $ABC$ , проведённая из вершины прямого угла  $C$ ,  $\angle A = 15^\circ$ . Проведём медиану  $CM$ . Тогда  $\angle CMH$  — внешний угол равнобедренного треугольника  $AMC$ , поэтому  $\angle CMH = 30^\circ$ . Из прямоугольного тре-

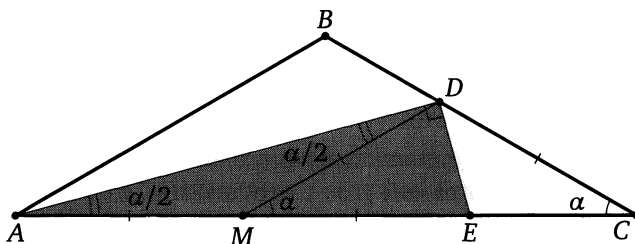


угольника  $CMH$  находим, что  $CM = 2CH = 2$ . Следовательно,  $AB = 2CM = 4$ .  $\triangleleft$

**Пример 2.** Через основание биссектрисы  $AD$  равнобедренного треугольника  $ABC$  с вершиной  $B$  проведён перпендикуляр к этой биссектрисе, пересекающий прямую  $AC$  в точке  $E$ . Найдите отрезок  $AE$ , если известно, что  $CD = 4$ .

*Ответ:* 8.

**Решение.** Отметим середину  $M$  отрезка  $AE$ . Отрезок  $DM$  — медиана прямоугольного треугольника  $ADE$ , проведённая из вершины прямого угла, поэтому  $AM = DM = ME$ .



Обозначим  $\angle BAC = \angle BCA = \alpha$ . По теореме о внешнем угле треугольника

$$\angle DME = \angle DAC + \angle ADM = \frac{\alpha}{2} + \frac{\alpha}{2} = \alpha = \angle DCM,$$

значит, треугольник  $CDM$  равнобедренный. Следовательно,  $AE = 2DM = 2DC = 8$ .  $\triangleleft$

## Подготовительные задачи

1.1. Гипотенуза прямоугольного треугольника равна 4. Найдите радиус описанной окружности.

1.2. Медиана, проведённая к гипотенузе прямоугольного треугольника, равна  $t$  и делит прямой угол в отношении  $1 : 2$ . Найдите стороны треугольника.

1.3. Медиана прямоугольного треугольника, проведённая к гипотенузе, разбивает его на два треугольника с периметрами 8 и 9. Найдите стороны треугольника.

1.4. В треугольнике  $ABC$  к стороне  $AC$  проведены высота  $BK$  и медиана  $MB$ , причём  $AM = BM$ . Найдите косинус угла  $KBM$ , если  $AB = 1$ ,  $BC = 2$ .

1.5. Окружность, построенная на катете прямоугольного треугольника как на диаметре, делит гипотенузу в отношении  $1 : 3$ . Найдите острые углы треугольника.

1.6. Точка  $D$  — середина гипотенузы  $AB$  прямоугольного треугольника  $ABC$ . Окружность, вписанная в треугольник  $ACD$ , касается отрезка  $CD$  в его середине. Найдите острые углы треугольника  $ABC$ .

1.7. В прямоугольном треугольнике  $ABC$  из вершины прямого угла  $C$  проведены биссектриса  $CL$  и медиана  $CM$ . Найдите площадь треугольника  $ABC$ , если  $LM = a$ ,  $CM = b$ .

1.8. Вне прямоугольного треугольника  $ABC$  на его катетах  $AC$  и  $BC$  построены квадраты  $ACDE$  и  $BCFG$ . Продолжение медианы  $CM$  треугольника  $ABC$  пересекает прямую  $DF$  в точке  $N$ . Найдите отрезок  $CN$ , если катеты равны 1 и 4.

1.9. Высота прямоугольного треугольника, проведённая из вершины прямого угла, равна  $a$  и образует угол  $\alpha$  с медианой, проведённой из той же вершины. Найдите катеты треугольника.

## Тренировочные задачи

1.10. Медиана прямоугольного треугольника, проведённая к гипотенузе, разбивает его на два треугольника с периметрами  $m$  и  $n$ . Найдите стороны треугольника.

1.11. В прямоугольном треугольнике  $ABC$  ( $\angle C = 90^\circ$ ) проведены высота  $CD$  и медиана  $CE$ . Площади треугольников  $ABC$  и  $CDE$  равны соответственно 10 и 3. Найдите  $AB$ .

1.12. В прямоугольном треугольнике  $ABC$  катеты  $AB$  и  $AC$  равны 4 и 3 соответственно. Точка  $D$  делит гипотенузу  $BC$  пополам. Найдите расстояние между центрами окружностей, вписанных в треугольники  $ADC$  и  $ABD$ .

1.13. Катет прямоугольного треугольника равен 2, а противолежащий ему угол равен  $30^\circ$ . Найдите расстояние между центрами окружностей, вписанных в треугольники, на которые данный треугольник делится медианой, проведённой из вершины прямого угла.

1.14. В четырёхугольнике  $ABCD$  диагонали  $AC$  и  $BD$  перпендикулярны и пересекаются в точке  $P$ . Отрезок, соединяющий вершину  $C$  с серединой  $M$  отрезка  $AD$ , равен  $\frac{5}{4}$ ,  $AP = 1$ . Расстояние от точки  $P$  до отрезка  $BC$  равно  $\frac{1}{2}$ . Найдите  $AD$ , если известно, что вокруг четырёхугольника  $ABCD$  можно описать окружность.

У к а з а н и е. Пусть  $H$  — основание перпендикуляра, опущенного из точки  $P$  на сторону  $BC$ . Тогда точки  $M$ ,  $P$  и  $H$  лежат на одной прямой, а треугольник  $PHC$  подобен треугольнику  $APD$ .

1.15. Средняя линия трапеции равна 5, а отрезок, соединяющий середины оснований, равен 3. Углы при большем основании трапеции равны  $30^\circ$  и  $60^\circ$ . Найдите площадь трапеции.

У к а з а н и е. Если сумма углов при основании трапеции равна  $90^\circ$ , то отрезок, соединяющий середины оснований, равен полуразности оснований.

1.16. Средняя линия трапеции равна 4, углы при одном из оснований равны  $40^\circ$  и  $50^\circ$ . Найдите основания трапеции, если отрезок, соединяющий середины оснований, равен 1.

1.17. Диагонали трапеции перпендикулярны. Одна из них равна 6. Отрезок, соединяющий середины оснований, равен 4,5. Найдите площадь трапеции.

1.18. Прямая, параллельная гипотенузе  $AB$  прямоугольного треугольника  $ABC$ , пересекает катет  $AC$  в точке  $D$ , а катет  $BC$  — в точке  $E$ , причём  $DE = 2$ , а  $BE = 1$ . На гипотенузе взята такая точка  $F$ , что  $BF = 1$ . Известно также, что  $\angle FCB = \alpha$ . Найдите площадь треугольника  $ABC$ .

У к а з а н и е. Пусть  $M$  — середина  $DE$ . Тогда  $BEMF$  — ромб, а  $CF$  — биссектриса угла  $MCE$ .

1.19. Гипотенуза  $AB$  прямоугольного треугольника  $ABC$  является хордой окружности радиуса 10. Вершина  $C$  лежит на диаметре окружности, который параллелен гипотенузе. Угол  $CAB$  равен  $75^\circ$ . Найдите площадь треугольника  $ABC$ .

У к а з а н и е. Опустите перпендикуляр из центра окружности на хорду  $AB$  и соедините его основание с точкой  $C$ .

1.20. Гипотенуза  $KM$  прямоугольного треугольника  $KMP$  является хордой окружности радиуса  $\sqrt{7}$ . Вершина  $P$  находится на диаметре, который параллелен гипотенузе. Расстояние от центра окружности до гипотенузы равно  $\sqrt{3}$ . Найдите острые углы треугольника  $KMP$ .

1.21. В треугольнике  $ABC$  известно, что  $AB = c$ ,  $AC = b$  ( $b > c$ ),  $AD$  — биссектриса. Через точку  $D$  проведена прямая, перпендикулярная  $AD$  и пересекающая  $AC$  в точке  $E$ . Найдите  $AE$ .

У к а з а н и е. Соедините точку  $D$  с серединой отрезка  $AE$ .

1.22. Точка  $E$  лежит на стороне  $AC$  равностороннего треугольника  $ABC$ ; точка  $K$  — середина отрезка  $AE$ . Прямая, проходящая через точку  $E$  перпендикулярно прямой  $AB$ , и прямая, проходящая через точку  $C$  перпендикулярно прямой  $BC$ , пересекаются в точке  $D$ . Найдите углы треугольника  $BKD$ .

У к а з а н и е. Точки  $B$ ,  $C$ ,  $D$ ,  $K$  и точка пересечения прямых  $AB$  и  $DE$  лежат на окружности с диаметром  $BD$ .

1.23. В трапеции  $ABCD$  точка  $K$  — середина основания  $AB$ ,  $M$  — середина основания  $CD$ . Найдите площадь трапеции, если известно, что  $DK$  — биссектриса угла  $D$ ,  $BM$  — биссектриса угла  $B$ , наибольший из углов при основании  $AB$  равен  $60^\circ$ , а периметр равен 30.

1.24\*. В треугольнике  $ABC$  известны углы:  $\angle A = 45^\circ$ ,  $\angle B = 15^\circ$ . На продолжении стороны  $AC$  за точку  $C$  взята точка  $M$ , причём  $CM = 2AC$ . Найдите угол  $AMB$ .

У к а з а н и е. Пусть  $K$  — середина  $CM$ , а  $O$  — основание перпендикуляра, опущенного из точки  $M$  на  $BC$ . Тогда  $\angle AOK = 90^\circ$ , а  $O$  — центр описанной окружности треугольника  $AMB$ .

1.25\*. В треугольнике  $ABC$  известно, что  $AB = AC$  и угол  $BAC$  тупой. Пусть  $BD$  — биссектриса треугольника  $ABC$ ,  $M$  — основание перпендикуляра, опущенного из  $A$  на сторону  $BC$ ,  $E$  — основание перпендикуляра, опущенного из  $D$  на сторону  $BC$ . Через точку  $D$  проведён также перпендикуляр к  $BD$  до пересечения со стороной  $BC$  в точке  $F$ . Известно, что  $ME = FC = a$ . Найдите площадь треугольника  $ABC$ .

У к а з а н и е. Пусть  $T$  — середина  $BF$ . Тогда  $DT = DC$ .

1.26\*. Острый угол при вершине  $A$  ромба  $ABCD$  равен  $40^\circ$ . Через вершину  $A$  и середину  $M$  стороны  $CD$  проведена прямая, на которую опущен перпендикуляр  $BH$  из вершины  $B$ . Найдите угол  $AHD$ .

У к а з а н и е. Пусть прямые  $AM$  и  $BC$  пересекаются в точке  $P$ . Тогда  $C$  — середина  $BP$  и  $HC = BC = CD$ .

## § 2. Удвоение медианы.

### Решение задачи 2 из диагностической работы

2. В треугольнике  $ABC$  проведена медиана  $BM$ . Известно, что  $\frac{\sin \angle ABM}{\sin \angle CBM} = \frac{1}{2}$ . Найдите отношение  $\frac{BC}{AB}$ .

Ответ:  $\frac{1}{2}$ .

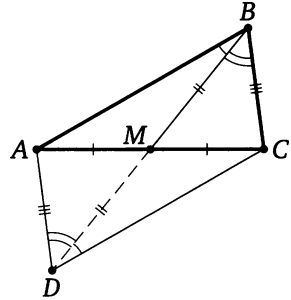
Решение. На продолжении медианы  $BM$  за точку  $M$  отложим отрезок  $MD$ , равный  $BM$ . Диагонали  $AC$  и  $BD$  четырёхугольника  $ABCD$  делятся точкой пересечения  $M$  пополам, значит,  $ABCD$  — параллелограмм. Поэтому

$$AD = BC \quad \text{и} \quad \angle ADB = \angle CBM.$$

По теореме синусов из треугольника  $ABD$  находим, что

$$\frac{AD}{AB} = \frac{\sin \angle ABD}{\sin \angle ADB} = \frac{\sin \angle ABM}{\sin \angle CBM} = \frac{1}{2}.$$

Следовательно,  $\frac{BC}{AB} = \frac{AD}{AB} = \frac{1}{2}$ . ◁



\* \* \*

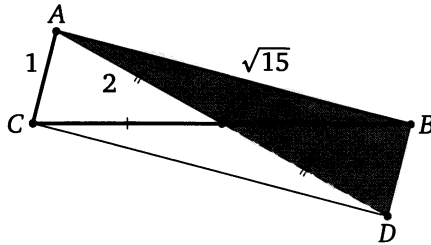
Во многих случаях для решения задачи удобно применить такое дополнительное построение, мы будем называть его удвоением медианы.

На продолжении медианы  $AM$  треугольника  $ABC$  за точку  $M$  отложим отрезок  $MD$ , равный  $AM$ . Тогда диагонали  $AD$  и  $BC$  четырёхугольника  $ABDC$  точкой пересечения  $M$  делятся пополам, значит,  $ABDC$  — параллелограмм. Далее применяем свойства параллелограмма.

**Пример 1.** Найдите площадь треугольника, если две его стороны равны 1 и  $\sqrt{15}$ , а медиана, проведённая к третьей, равна 2.

Ответ:  $\frac{\sqrt{15}}{2}$ .

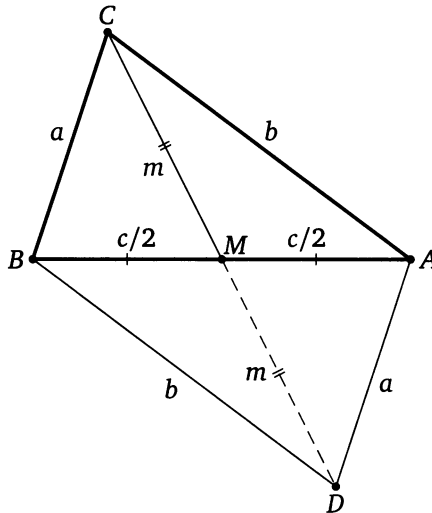
Решение. Пусть  $AM$  — медиана треугольника  $ABC$ ,  $AM = 2$ ,  $AB = \sqrt{15}$ ,  $AC = 1$ . На продолжении медианы  $AM$  за точку  $M$  отложим отрезок  $MD$ , равный  $AM$ . Тогда  $ABDC$  — параллелограмм, поэтому  $BD = AC = 1$ .



Треугольник  $ABD$  прямоугольный, так как  $AD^2 = AB^2 + BD^2$ . Следовательно,

$$S_{\triangle ABC} = S_{\triangle ABD} = \frac{\sqrt{15}}{2}. \quad \triangleleft$$

**Пример 2.** Стороны треугольника равны  $a, b, c$ . Докажите, что медиана, проведённая к стороне  $c$ , равна  $\frac{1}{2}\sqrt{2a^2 + 2b^2 - c^2}$ .



**Доказательство.** Пусть  $AB = c, BC = a, AC = b$  — стороны треугольника  $ABC$ ;  $CM = m$  — медиана треугольника.

На продолжении медианы  $CM$  за точку  $M$  отложим отрезок  $MD$ , равный  $CM$ . Тогда  $ACBD$  — параллелограмм. Поэтому

$$CD^2 + AB^2 = 2(AC^2 + BC^2), \quad \text{или} \quad 4m^2 + c^2 = 2(a^2 + b^2).$$

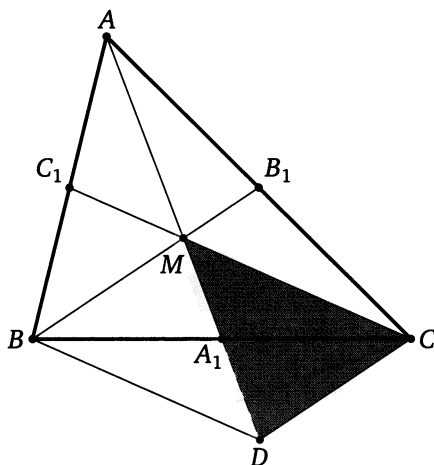
Отсюда находим, что

$$m^2 = \frac{1}{4}(2a^2 + 2b^2 - c^2). \quad \square$$

**Пример 3.** Площадь треугольника  $ABC$  равна  $S$ . Найдите площадь треугольника, стороны которого равны медианам треугольника  $ABC$ .

Ответ:  $\frac{3}{4}S$ .

**Решение.** Пусть  $M$  — точка пересечения медиан треугольника  $ABC$ ,  $A_1, B_1, C_1$  — середины сторон  $BC, AC$  и  $AB$  соответственно,  $S$  — площадь треугольника  $ABC$ ,  $S'$  — площадь треугольника, составленного из медиан треугольника  $ABC$ .



На продолжении медианы  $MA_1$  треугольника  $BMC$  за точку  $A_1$  отложим отрезок  $A_1D$ , равный  $MA_1$ . Медианы треугольника делятся их точкой пересечения в отношении  $2:1$ , считая от вершины, поэтому  $MD = 2A_1M = AM = \frac{2}{3}AA_1$ . Четырёхугольник  $MBDC$  — параллелограмм, поэтому  $CD = BM = \frac{2}{3}BB_1$ . Кроме того,  $CM = \frac{2}{3}CC_1$ .

Таким образом, треугольник, составленный из медиан треугольника  $ABC$ , подобен треугольнику  $MDC$ , причём коэффициент подобия равен  $\frac{3}{2}$ , значит,  $S' = \frac{9}{4}S_{\Delta MDC}$ .

Известно, что медианы разбивают треугольник на шесть равновеликих треугольников, поэтому

$$S_{\Delta A_1MC} = \frac{1}{6}S, \quad \text{а} \quad S_{\Delta MDC} = 2S_{\Delta A_1MC} = \frac{1}{3}S.$$

Следовательно,

$$S' = \frac{9}{4}S_{\Delta MDC} = \frac{9}{4} \cdot \frac{1}{3}S = \frac{3}{4}S.$$

◁

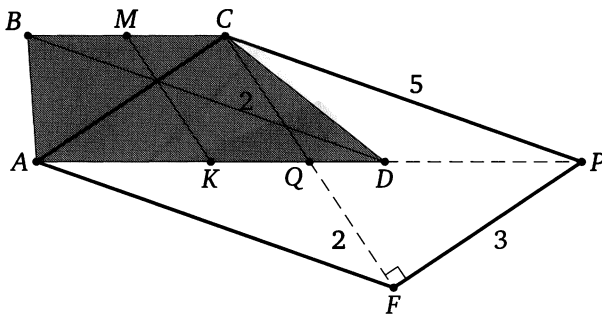


**Пример 4.** Диагонали трапеции равны 3 и 5, а отрезок, соединяющий середины оснований, равен 2. Найдите площадь трапеции.

*Ответ:* 6.

**Решение.** Пусть  $M$  и  $K$  — середины оснований  $BC$  и  $AD$  трапеции  $ABCD$ ,  $AC = 3$ ,  $BD = 5$ . Через вершину  $C$  меньшего основания  $BC$  проведём прямую, параллельную диагонали  $BD$ , до пересечения с прямой  $AD$  в точке  $P$  и прямую, параллельную  $MK$ , до пересечения с прямой  $AD$  в точке  $Q$ . Тогда

$$\begin{aligned} AQ = AK + KQ &= AK + MC = \frac{1}{2}AD + \frac{1}{2}BC = \\ &= \frac{1}{2}(AD + BC) = \frac{1}{2}(AD + DP) = \frac{1}{2}AP, \end{aligned}$$



поэтому  $CQ$  — медиана треугольника  $ACP$ . Теперь известно, что

$$CQ = MK = 2, \quad AC = 3, \quad CP = BD = 5, \quad S_{ABCD} = S_{\triangle ACP}.$$

На продолжении медианы  $CQ$  за точку  $Q$  отложим отрезок  $QF$ , равный  $CQ$ . Стороны треугольника  $CFP$  равны:

$$CF = 2CQ = 4, \quad CP = BD = 5, \quad PF = AC = 3.$$

Этот треугольник прямоугольный ( $CP^2 = CF^2 + PF^2$ ), поэтому

$$S_{\triangle CFP} = \frac{1}{2} \cdot CF \cdot PF = 6.$$

Следовательно,

$$S_{ABCD} = S_{\triangle ACP} = S_{\triangle CFP} = 6.$$

(Кстати, отрезок  $MK$  проходит через точку пересечения диагоналей трапеции, но это нам не понадобилось.) ◀

## Подготовительные задачи

2.1. Медиана  $AM$  треугольника  $ABC$  равна  $m$  и образует со сторонами  $AB$  и  $AC$  углы  $\alpha$  и  $\beta$  соответственно. Найдите эти стороны.

2.2. В треугольнике  $ABC$  известно, что  $BD$  — медиана,  $BD = AB \cdot \frac{\sqrt{3}}{4}$ , а  $\angle DBC = 90^\circ$ . Найдите угол  $ABD$ .

2.3. Найдите площадь треугольника, если две стороны его соответственно равны 27 и 29, а медиана, проведённая к третьей, равна 26.

2.4. Стороны треугольника равны 11, 13 и 12. Найдите медиану, проведённую к большей стороне.

2.5. В треугольнике две стороны равны 11 и 23, а медиана, проведённая к третьей, равна 10. Найдите третью сторону.

2.6. В равнобедренном треугольнике с боковой стороной, равной 4, проведена медиана к боковой стороне. Найдите основание треугольника, если медиана равна 3.

2.7. Основание равнобедренного треугольника равно  $4\sqrt{2}$ , а медиана, проведённая к боковой стороне, равна 5. Найдите боковые стороны.

2.8. В треугольнике  $ABC$  известны стороны  $AB = 2$  и  $AC = 4$  и медиана  $AM = \sqrt{7}$ . Найдите угол  $BAC$ .

2.9. В треугольнике  $ABC$  отрезок  $AD$  — медиана,  $AD = m$ ,  $AB = c$ ,  $AC = b$ . Найдите угол  $BAC$ .

## Тренировочные задачи

2.10. Две стороны треугольника равны 10 и 12, а медиана, проведённая к третьей, равна 5. Найдите площадь треугольника.

2.11. Найдите площадь треугольника, медианы которого равны 3, 4 и 5.

У к а з а н и е. См. пример 3.

2.12. Найдите площадь треугольника, медианы которого равны 10, 10 и 16.

2.13. Найдите площадь треугольника, медианы которого равны 12, 15 и 21.

2.14. Медиана  $AD$  и высота  $CE$  равнобедренного треугольника  $ABC$  ( $AB = BC$ ) пересекаются в точке  $P$ . Найдите площадь треугольника  $ABC$ , если  $CP = 5$ ,  $PE = 2$ .

**2.15.** Медиана  $AM$  и биссектриса  $CD$  прямоугольного треугольника  $ABC$  ( $\angle B = 90^\circ$ ) пересекаются в точке  $O$ . Найдите площадь треугольника  $ABC$ , если  $CO = 9$ ,  $OD = 5$ .

**2.16\*** Внутри прямоугольного треугольника  $ABC$  с прямым углом при вершине  $C$  отмечена точка  $O$ , причём  $OA = OB = b$ . Известно также, что  $CD$  — высота треугольника  $ABC$ , точка  $E$  — середина отрезка  $OC$ ,  $DE = a$ . Найдите  $CE$ .

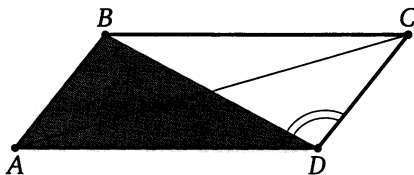
**У к а з а н и е.** Суммы квадратов расстояний от любой точки до противоположных вершин прямоугольника равны между собой. Пусть  $M$  — середина  $AB$ , а  $K$  — проекция точки  $E$  на  $AB$ . Тогда  $M$  — центр прямоугольника  $ACBF$ ,  $K$  — середина  $DM$ ,  $OF = 2EM = 2ED$ .

### § 3. Параллелограмм. Средняя линия треугольника. Решение задачи 3 из диагностической работы

3. В выпуклом четырёхугольнике  $ABCD$  отрезки, соединяющие середины противоположных сторон, пересекаются под углом  $60^\circ$ , а их длины относятся как  $1 : 3$ . Чему равна меньшая диагональ четырёхугольника  $ABCD$ , если большая равна  $\sqrt{39}$ ?

Ответ:  $\sqrt{21}$ .

Решение. Середины сторон любого четырёхугольника являются вершинами параллелограмма, стороны которого параллельны диагоналям четырёхугольника и соответственно равны их полови-



нам. Обозначим через  $x$  и  $3x$  половины диагоналей параллелограмма. Поскольку угол между ними равен  $60^\circ$ , то по теореме косинусов квадраты сторон параллелограмма равны

$$x^2 + 9x^2 - 3x^2 = 7x^2, \quad x^2 + 9x^2 + 3x^2 = 13x^2.$$

Поскольку большая диагональ четырёхугольника равна  $\sqrt{39}$ , большая сторона параллелограмма равна  $\frac{\sqrt{39}}{2}$ , т. е.  $13x^2 = \frac{39}{4}$ , откуда  $x = \frac{\sqrt{3}}{2}$ . Тогда меньшая сторона параллелограмма равна  $x\sqrt{7} = \frac{\sqrt{21}}{2}$ . Следовательно, меньшая диагональ данного четырёхугольника равна  $\sqrt{21}$ .  $\triangleleft$

\* \* \*

Для решения задач этого раздела нужно знать свойства и признаки параллелограмма, теорему о средней линии треугольника, теорему о медианах треугольника (медианы треугольника пересекаются в одной точке и делятся ею в отношении  $2 : 1$ , считая от вершины треугольника), а также следующие важные факты.

**Теорема.** Сумма квадратов диагоналей параллелограмма равна сумме квадратов всех его сторон.

**Доказательство.** Пусть  $AC$  и  $BD$  — диагонали параллелограмма  $ABCD$ . По теореме косинусов из треугольников  $ABD$  и  $ACD$  находим, что

$$BD^2 = AB^2 + AD^2 - 2AB \cdot AD \cos \angle BAD,$$

$$\begin{aligned} AC^2 &= AD^2 + CD^2 - 2AD \cdot CD \cos \angle ADC = \\ &= AD^2 + CD^2 - 2AD \cdot CD \cos(180^\circ - \angle BAD) = \\ &= AD^2 + CD^2 + 2AD \cdot CD \cos \angle BAD. \end{aligned}$$

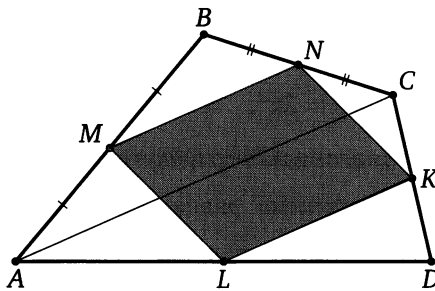
Следовательно,

$$BD^2 + AC^2 = 2 \cdot AB^2 + 2 \cdot AD^2.$$

Теорема доказана.  $\square$

**Теорема.** Середины сторон любого четырёхугольника являются вершинами параллелограмма.

**Доказательство.** Пусть  $M, N, K, L$  — середины сторон соответственно  $AB, BC, CD, AD$  четырёхугольника  $ABCD$ . Поскольку  $MN$  — средняя линия треугольника  $ABC$ , то  $MN = \frac{1}{2}AC$  и  $MN \parallel AC$ . Аналогично докажем, что  $KL = \frac{1}{2}AC$  и  $KL \parallel AC$ . Значит,  $MN = KL$  и

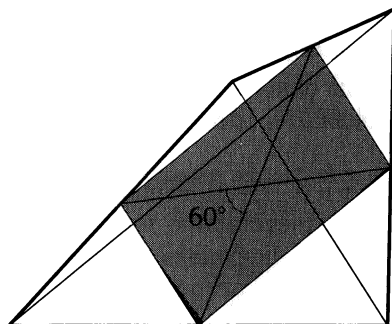


$MN \parallel KL$ . Следовательно, четырёхугольник  $MNKL$  — параллелограмм. Теорема доказана.  $\square$

**Пример 1.** В выпуклом четырёхугольнике отрезки, соединяющие середины противоположных сторон, равны соответственно  $a$  и  $b$  и пересекаются под углом  $60^\circ$ . Найдите диагонали четырёхугольника.

Ответ:  $\sqrt{a^2 + b^2 + ab}$ ,  $\sqrt{a^2 + b^2 - ab}$ .

**Решение.** Середины сторон любого четырёхугольника являются вершинами параллелограмма. В данном случае диагонали параллелограмма равны  $a$  и  $b$ , а угол между ними равен  $60^\circ$ .



Стороны параллелограмма найдём по теореме косинусов:

$$\frac{1}{2}\sqrt{a^2 + b^2 + ab}, \quad \frac{1}{2}\sqrt{a^2 + b^2 - ab}.$$

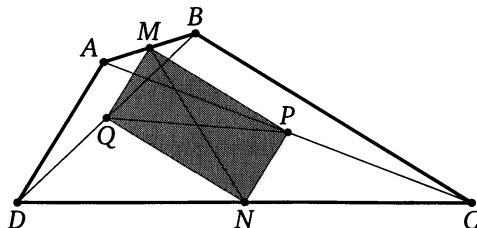
Следовательно, диагонали данного четырёхугольника равны

$$\sqrt{a^2 + b^2 + ab} \quad \text{и} \quad \sqrt{a^2 + b^2 - ab}. \quad \triangleleft$$

**Пример 2.** В выпуклом четырёхугольнике  $ABCD$  длина отрезка, соединяющего середины сторон  $AB$  и  $CD$ , равна 1. Прямые  $BC$  и  $AD$  перпендикулярны. Найдите длину отрезка, соединяющего середины диагоналей  $AC$  и  $BD$ .

*Ответ:* 1.

**Решение.** Пусть  $M$  и  $N$  — середины сторон соответственно  $AB$  и  $CD$  четырёхугольника  $ABCD$ , а  $P$  и  $Q$  — середины его диагоналей (соответственно  $AC$  и  $BD$ ). Тогда  $MP$  — средняя линия треугольника  $ABC$ , а  $QN$  — средняя линия треугольника  $DBC$ . Поэтому  $MP = \frac{1}{2}BC = QN$ ,  $MP \parallel BC \parallel QN$ .

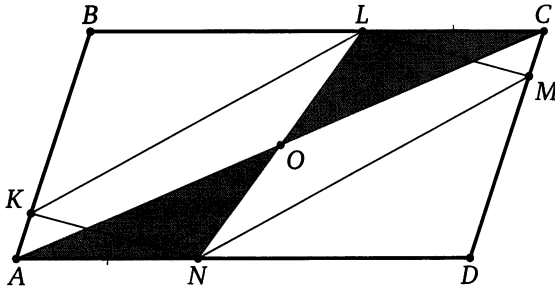


Значит, четырёхугольник  $MPNQ$  — параллелограмм. Его соседние стороны  $MP$  и  $MQ$  соответственно параллельны прямым  $BC$  и  $AD$ ,

поэтому  $MP \perp MQ$ . Следовательно, четырёхугольник  $MPNQ$  — прямоугольник. Диагонали прямоугольника равны, поэтому  $PQ = MN = 1$ .  $\triangleleft$

**Пример 3.** Вершины одного параллелограмма лежат по одной на сторонах другого. Докажите, что центры параллелограммов совпадают.

**Доказательство.** Пусть вершины  $K, L, M$  и  $N$  параллелограмма  $KLMN$  лежат соответственно на сторонах  $AB, BC, CD$  и  $AD$  параллелограмма  $ABCD$ , а диагональ  $LN$  первого параллелограмма пересекается с диагональю  $AC$  второго в точке  $O$ .



Треугольники  $CLM$  и  $ANK$  равны по стороне и прилежащим к ней углам, поэтому  $CL = AN$ . Тогда треугольники  $COL$  и  $AON$  также равны по стороне и прилежащим к ней углам, значит,  $CO = AO$  и  $LO = ON$ . Таким образом, точка  $O$  — общая середина диагонали  $LN$  параллелограмма  $KLMN$  и диагонали  $AC$  параллелограмма  $ABCD$ , т. е.  $O$  — общий центр этих параллелограммов. Что и требовалось доказать.  $\square$

## Подготовительные задачи

**3.1.** Расстояние между серединами взаимно перпендикулярных хорд  $AC$  и  $BC$  некоторой окружности равно 10. Найдите диаметр окружности.

**3.2.** Диагональ параллелограмма делит его угол на части в  $30^\circ$  и  $45^\circ$ . Найдите отношение сторон параллелограмма.

**3.3.** Вершины  $M$  и  $N$  квадрата  $KLMN$  лежат на гипотенузе  $AB$  прямоугольного треугольника  $ABC$  ( $N$  между  $B$  и  $M$ ), а вершины  $K$  и  $L$  — на катетах  $BC$  и  $AC$  соответственно. Известно, что  $AM = a$  и  $BN = b$ . Найдите площадь квадрата.

**3.4.** Сторона  $BC$  параллелограмма  $ABCD$  вдвое больше стороны  $AB$ . Биссектрисы углов  $A$  и  $B$  пересекают прямую  $CD$  в точках  $M$  и  $N$ , причём  $MN = 12$ . Найдите стороны параллелограмма.

**3.5.** Найдите расстояние от центра ромба до его стороны, если острый угол ромба равен  $30^\circ$ , а сторона равна 4.

**3.6.** В четырёхугольнике  $ABCD$  известны углы:  $\angle DAB = 90^\circ$ ,  $\angle DBC = 90^\circ$ . Кроме того,  $DB = a$ ,  $DC = b$ . Найдите расстояние между центрами двух окружностей, одна из которых проходит через точки  $D, A, B$ , а другая — через точки  $B, C, D$ .

**3.7.** На сторонах  $AB$  и  $CD$  прямоугольника  $ABCD$  взяты точки  $K$  и  $M$  так, что  $AKCM$  — ромб. Диагональ  $AC$  образует со стороной  $AB$  угол  $30^\circ$ . Найдите сторону ромба, если наибольшая сторона прямоугольника  $ABCD$  равна 3.

## Тренировочные задачи

**3.8.** В треугольник, две из трёх сторон которого равны 9 и 15, вписан параллелограмм так, что одна из его сторон, равная 6, лежит на третьей стороне треугольника, а диагонали параллелограмма параллельны двум данным сторонам треугольника. Найдите другую сторону параллелограмма и третью сторону треугольника.

**3.9.** Стороны параллелограмма равны  $a$  и  $b$  ( $a \neq b$ ). Найдите диагонали четырёхугольника, образованного пересечениями биссектрис углов параллелограмма.

**3.10.** Отрезки, соединяющие середины противоположных сторон выпуклого четырёхугольника, взаимно перпендикулярны и равны 2 и 7. Найдите площадь четырёхугольника.

**3.11.** Отрезки, соединяющие середины противоположных сторон выпуклого четырёхугольника, равны между собой. Найдите площадь четырёхугольника, если его диагонали равны 8 и 12.



**3.12.** Боковые стороны трапеции лежат на перпендикулярных прямых. Найдите площадь четырёхугольника с вершинами в серединах диагоналей и серединах оснований, если боковые стороны равны  $a$  и  $b$ .

**3.13.** Диагонали трапеции взаимно перпендикулярны, а средняя линия равна 5. Найдите отрезок, соединяющий середины оснований.

**3.14.** Диагонали выпуклого четырёхугольника равны  $a$  и  $b$ , а отрезки, соединяющие середины противоположных сторон, равны между собой. Найдите площадь четырёхугольника.

**3.15.** Диагонали выпуклого четырёхугольника равны  $c$  и  $d$  и пересекаются под углом  $45^\circ$ . Найдите отрезки, соединяющие середины противоположных сторон четырёхугольника.

**3.16.** В четырёхугольнике  $ABCD$  диагонали  $AC$  и  $BD$  относятся как  $1 : 4$ , а угол между ними равен  $60^\circ$ . Чему равен больший из отрезков, соединяющих середины противоположных сторон четырёхугольника  $ABCD$ , если меньший равен  $\sqrt{26}$ ?

**3.17.** Окружность, построенная на стороне  $AD$  параллелограмма  $ABCD$  как на диаметре, проходит через вершину  $B$  и середину стороны  $BC$ . Найдите углы параллелограмма.

**3.18.** Из вершины  $A$  треугольника  $ABC$  опущены перпендикуляры  $AM$  и  $AP$  на биссектрисы внешних углов  $B$  и  $C$ . Известно, что периметр треугольника  $ABC$  равен 10. Найдите  $PM$ .

**3.19.** Прямая имеет с параллелограммом  $ABCD$  единственную общую точку  $B$ . Вершины  $A$  и  $C$  удалены от этой прямой на расстояния, равные  $a$  и  $b$ . На какое расстояние удалена от этой прямой вершина  $D$ ?

**3.20.** Гипотенуза прямоугольного треугольника служит стороной квадрата, расположенного вне треугольника. Найдите расстояние от вершины прямого угла треугольника до центра квадрата, если катеты треугольника равны  $a$  и  $b$ .

**У к а з а н и е.** Опишите около указанного квадрата ещё один квадрат со стороной  $a + b$ , проведя через вершины данного квадрата, отличные от вершин треугольника, две прямые, перпендикулярные прямым, содержащим катеты треугольника. Центр полученного квадрата совпадает с центром данного.

**3.21.** В выпуклом четырёхугольнике  $ABCD$  отрезок, соединяющий середины диагоналей, равен отрезку, соединяющему середины сторон  $AD$  и  $BC$ . Найдите угол, образованный продолжением сторон  $AB$  и  $CD$ .

**У к а з а н и е.** Пусть  $K, L, M$  и  $N$  — середины отрезков  $AD, AC, BC$  и  $BD$  соответственно. Тогда  $KLMN$  — прямоугольник.

**3.22.** Дан параллелограмм со сторонами 1 и 2 и острым углом  $60^\circ$ . На двух его противоположных сторонах как на основаниях построены вне параллелограмма равнобедренные треугольники с углами  $120^\circ$  при вершинах. Найдите расстояние между этими вершинами.

У к а з а н и е. Отрезок, соединяющий вершины данных равнобедренных треугольников, проходит через центр параллелограмма.

**3.23.** Четырёхугольник  $ABCD$ , диагонали которого взаимно перпендикулярны, вписан в окружность с центром  $O$ . Найдите расстояние от точки  $O$  до стороны  $AB$ , если известно, что  $CD = 8$ .

У к а з а н и е. Пусть  $DD_1$  — диаметр окружности. Тогда расстояние от центра окружности до хорды  $AB$  равно расстоянию от центра окружности до хорды  $CD_1$ , равной  $AB$ .

**3.24\*** Точки  $M$ ,  $K$ ,  $N$  и  $L$  — середины сторон соответственно  $AB$ ,  $BC$ ,  $CD$  и  $DE$  пятиугольника  $ABCDE$ ,  $P$  и  $Q$  — середины отрезков  $MN$  и  $KL$  соответственно. Известно, что  $PQ = 1$ . Найдите сторону  $AE$ .

У к а з а н и е. Пусть  $F$  — середина  $AD$ . Тогда  $MKNF$  — параллелограмм,  $PQ$  — средняя линия треугольника  $KFL$ , а  $FL$  — средняя линия треугольника  $ADE$ .

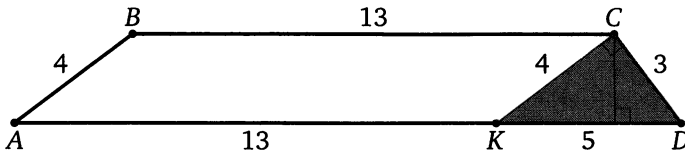
## § 4. Трапеция.

### Решение задачи 4 из диагностической работы

4. Найдите площадь трапеции с основаниями 18 и 13 и боковыми сторонами 3 и 4.

Ответ: 37,2.

Решение. Через вершину  $C$  меньшего основания  $BC$  трапеции  $ABCD$  ( $BC = 13$ ,  $AD = 18$ ,  $AB = 4$ ,  $CD = 3$ ) проведём прямую, параллельную боковой стороне  $AB$ , до пересечения с основанием  $AD$  в точке  $K$ . Тогда  $CK = AB = 4$ ,  $DK = AD - AK = AD - BC = 18 - 13 = 5$ ,  $CD = 3$ .



Треугольник  $KCD$  прямоугольный, так как  $KD^2 = CD^2 + CK^2$ . Его высота, опущенная на гипотенузу, равна  $\frac{3 \cdot 4}{5} = \frac{12}{5}$ . Следовательно,

$$S_{ABCD} = \frac{18+13}{2} \cdot \frac{12}{5} = 37,2.$$

◁

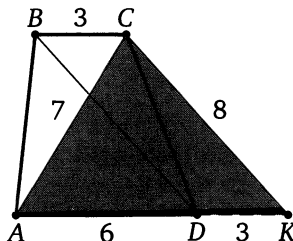
\*\*\*

При решении задач на трапецию во многих случаях полезны дополнительные построения, связанные с параллельным переносом боковой стороны или диагонали.

**Пример 1.** Найдите площадь трапеции, диагонали которой равны 7 и 8, а основания — 3 и 6.

Ответ:  $12\sqrt{5}$ .

Решение. Через вершину  $C$  меньшего основания  $BC$  трапеции  $ABCD$  ( $BC = 3$ ,  $AD = 6$ ,  $BD = 8$ ,  $AC = 7$ ) проведём прямую, параллель-



ную диагональ  $BD$ , до пересечения с прямой  $AD$  в точке  $K$ . Стороны треугольника  $ACK$  равны:

$$AC = 7, \quad CK = BD = 8, \quad AK = AD + DK = AD + BC = 6 + 3 = 9.$$

По формуле Герона

$$S_{\triangle ACK} = \sqrt{12 \cdot 5 \cdot 4 \cdot 3} = 6 \cdot 2\sqrt{5} = 12\sqrt{5},$$

а так как треугольники  $CDK$  и  $ABC$  равновелики, получаем

$$S_{ABCD} = S_{\triangle ACK} = 12\sqrt{5}. \quad \triangleleft$$

\* \* \*

При решении задач, связанных с *равнобедренной* трапецией, кроме общеизвестных свойств и признаков (углы при основании равны, диагонали равны и образуют равные углы с основанием и т. д.) иногда полезно применить следующее свойство: проекция боковой стороны равнобедренной трапеции на основание равна полуразности оснований, а проекция диагонали — полусумме.

**Пример 2.** Трапеция  $ABCD$  с основаниями  $AD$  и  $BC$  ( $AD > BC$ ) вписана в окружность с центром  $O$ . Известно, что  $\sin \angle AOB = \frac{3}{5}$ , а средняя линия трапеции равна  $a$ . Найдите высоту трапеции.

*Ответ:*  $3a$  или  $\frac{1}{3}a$ .

**Решение.** Трапеция  $ABCD$  вписана в окружность, поэтому она равнобедренная. Обозначим  $\angle AOB = \alpha$ . Поскольку  $AOB$  — центральный угол окружности, а  $ADB$  — вписанный,

$$\angle ADB = \frac{1}{2} \angle AOB = \frac{\alpha}{2}.$$

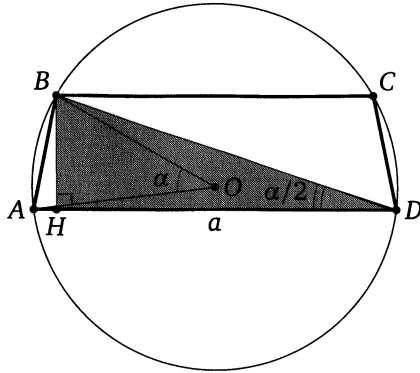
Пусть  $BH$  — высота трапеции. Тогда  $DH = \frac{AD+BC}{2}$ , т. е. катет  $DH$  прямоугольного треугольника  $BHD$  равен средней линии трапеции. Следовательно,  $BH = DH \operatorname{tg} \frac{\alpha}{2} = a \operatorname{tg} \frac{\alpha}{2}$ .

По условию задачи  $\sin \alpha = \frac{3}{5}$ , поэтому

$$\cos \alpha = \sqrt{1 - \sin^2 \alpha} = \sqrt{1 - \left(\frac{3}{5}\right)^2} = \frac{4}{5}$$

или

$$\cos \alpha = -\sqrt{1 - \sin^2 \alpha} = -\frac{4}{5}.$$



Тогда

$$\operatorname{tg} \frac{\alpha}{2} = \frac{\sin \alpha}{1 + \cos \alpha} = \frac{\frac{3}{5}}{1 + \frac{4}{5}} = \frac{1}{3}$$

или

$$\operatorname{tg} \frac{\alpha}{2} = \frac{\sin \alpha}{1 - \cos \alpha} = \frac{\frac{3}{5}}{1 - \frac{4}{5}} = 3.$$

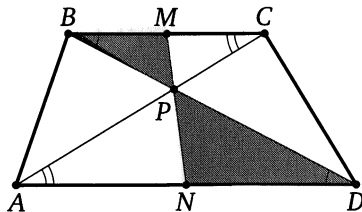
Следовательно,  $BD = a \operatorname{tg} \frac{\alpha}{2} = \frac{1}{3}a$  или  $BD = 3a$ . ◁

Отметим ещё одно важное свойство трапеции.

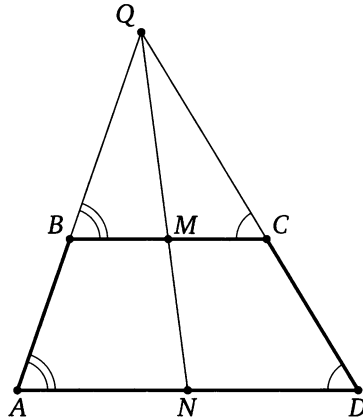
Иногда эту теорему называют замечательным свойством трапеции.

**Теорема.** Точка пересечения диагоналей любой трапеции, точка пересечения продолжений боковых сторон и середины оснований лежат на одной прямой.

**Доказательство.** Пусть диагонали  $AC$  и  $BD$  трапеции  $ABCD$  пересекаются в точке  $P$ , а продолжения боковых сторон  $AB$  и  $CD$  — в точке  $Q$ .



Через середину  $M$  основания  $BC$  и точку  $P$  проведём прямую. Пусть она пересекает основание  $AD$  в точке  $N$ . Тогда треугольник  $BMP$  подобен треугольнику  $DNP$ , а треугольник  $CMP$  — треугольнику  $ANP$ , причём в обоих случаях коэффициент подобия равен  $\frac{MP}{PN}$ . Значит,  $\frac{BM}{DN} = \frac{MP}{PN} = \frac{CM}{AN}$ , а так как  $BM = CM$ , то  $DN = \frac{BM \cdot AN}{CM} = AN$ , т. е.  $N$  — середина основания  $AD$ . Следовательно, отрезок, соединяющий середины оснований трапеции, проходит через точку пересечения диагоналей.



Аналогично докажем, что прямая, проведённая через середины оснований трапеции, проходит через точку пересечения  $Q$  продолжений боковых сторон. Следовательно, точки  $P$ ,  $Q$  и середины оснований трапеции лежат на одной прямой. Что и требовалось доказать.  $\square$

## Подготовительные задачи

4.1. Найдите площадь трапеции, параллельные стороны которой равны 16 и 44, а непараллельные — 17 и 25.

4.2. Найдите площадь трапеции с основаниями 11 и 4 и диагоналями 9 и 12.

4.3. В равнобедренной трапеции основания равны 40 и 24, а её диагонали взаимно перпендикулярны. Найдите площадь трапеции.

4.4. Диагонали равнобедренной трапеции перпендикулярны. Найдите площадь трапеции, если её средняя линия равна 5.

4.5. Трапеция с основаниями 14 и 40 вписана в окружность радиуса 25. Найдите высоту трапеции.

4.6. Диагональ равнобедренной трапеции равна 10 и образует угол  $60^\circ$  с основанием трапеции. Найдите среднюю линию трапеции.

4.7. Окружность с центром  $O$  вписана в трапецию с боковой стороной  $AB$ . Найдите угол  $AOB$ .

4.8. Меньшая боковая сторона прямоугольной трапеции равна 3, а большая образует угол  $30^\circ$  с одним из оснований. Найдите это основание, если на нём лежит точка пересечения биссектрис углов при другом основании.

4.9. Основания трапеции равны 1 и 6, а диагонали — 3 и 5. Под каким углом видны основания из точки пересечения диагоналей?

4.10. Основания трапеции равны  $a$  и  $b$  ( $a > b$ ). Найдите длину отрезка, соединяющего середины диагоналей трапеции.

4.11. Основания равнобедренной трапеции равны  $a$  и  $b$  ( $a > b$ ), острый угол равен  $45^\circ$ . Найдите площадь трапеции.

## Тренировочные задачи

4.12. В трапеции  $ABCD$  углы  $A$  и  $D$  при основании  $AD$  соответственно равны  $60^\circ$  и  $90^\circ$ . Точка  $N$  лежит на основании  $BC$ , причём  $BN : BC = 2 : 3$ . Точка  $M$  лежит на основании  $AD$ , прямая  $MN$  параллельна боковой стороне  $AB$  и делит площадь трапеции пополам. Найдите  $AB : BC$ .

4.13. Площадь равнобедренной трапеции, описанной около окружности, равна  $S$ . Найдите среднюю линию трапеции, если острый угол при её основании равен  $\alpha$ .

4.14. Окружность, вписанная в трапецию, касается одной из боковых сторон в точке, делящей её на отрезки, равные  $a$  и  $b$ . Найдите радиус окружности.

- 4.15. В прямоугольную трапецию вписана окружность радиуса  $R$ . Найдите стороны трапеции, если её меньшее основание равно  $\frac{4}{3}R$ .
- 4.16. Боковая сторона равнобедренной трапеции равна  $a$ , средняя линия равна  $b$ , а один из углов при большем основании равен  $30^\circ$ . Найдите радиус окружности, описанной около трапеции.
- 4.17. Основания трапеции равны 4 и 16. Найдите радиусы окружностей, вписанной в трапецию и описанной около неё, если известно, что эти окружности существуют.
- 4.18. Окружность вписана в равнобедренную трапецию с основаниями  $a$  и  $b$ . Найдите диагональ трапеции.
- 4.19. Известно, что высота трапеции равна 15, а диагонали трапеции равны 17 и 113. Чему равна её площадь?
- 4.20. Боковые стороны трапеции лежат на перпендикулярных прямых. Найдите площадь четырёхугольника с вершинами в серединах диагоналей и серединах оснований трапеции, если её боковые стороны равны  $a$  и  $b$ .
- 4.21. Найдите диагональ и боковую сторону равнобедренной трапеции с основаниями 20 и 12, если известно, что центр её описанной окружности лежит на большем основании.
- 4.22. Трапеция с высотой  $h$  вписана в окружность. Боковая сторона трапеции видна из центра окружности под углом  $120^\circ$ . Найдите среднюю линию трапеции.
- 4.23. Площадь равнобедренной трапеции равна  $\sqrt{3}$ . Угол между диагональю и основанием на  $20^\circ$  больше угла между диагональю и боковой стороной. Найдите острый угол трапеции, если её диагональ равна 2.
- 4.24. Биссектрисы тупых углов при основании трапеции пересекаются на другом её основании. Найдите стороны трапеции, если её высота равна 12, а длины биссектрис равны 15 и 13.
- 4.25. Четырёхугольник  $ABCD$  вписан в окружность с центром  $O$ ,  $\angle BOA = \angle COD = 60^\circ$ . Перпендикуляр  $BK$ , опущенный из вершины  $B$  на сторону  $AD$ , равен 6;  $BC$  в три раза меньше  $AD$ . Найдите площадь треугольника  $COD$ .
- 4.26. Дана трапеция  $ABCD$  с основаниями  $AD = 3\sqrt{39}$  и  $BC = \sqrt{39}$ . Кроме того, дано, что угол  $BAD$  равен  $30^\circ$ , а угол  $ADC$  равен  $60^\circ$ . Через точку  $D$  проходит прямая, делящая трапецию на две равновеликие фигуры. Найдите длину отрезка этой прямой, находящегося внутри трапеции.



**4.27.** Отрезок, соединяющий середины оснований трапеции, равен 3. Углы при большем основании трапеции равны  $30^\circ$  и  $60^\circ$ . Найдите высоту трапеции.

**У к а з а н и е.** Если сумма углов при основании трапеции равна  $90^\circ$ , то отрезок, соединяющий середины оснований, равен полуразности оснований.

**4.28.** Дана трапеция  $ABCD$  с боковыми сторонами  $AB = 27$ ,  $CD = 28$  и основанием  $BC = 5$ . Известно, что  $\cos \angle BCD = -\frac{2}{7}$ . Найдите диагональ  $AC$ .

**4.29.** Основание  $AB$  трапеции  $ABCD$  вдвое больше основания  $CD$  и вдвое больше боковой стороны  $AD$ . Диагональ  $AC$  равна  $a$ , а боковая сторона  $BC$  равна  $b$ . Найдите площадь трапеции.

**4.30.** Трапеция  $ABCD$  разделена прямой, параллельной её основаниям  $AD$  и  $BC$ , на две равновеликие трапеции. Найдите отрезок этой прямой, заключённый между боковыми сторонами, если основания трапеции равны  $a$  и  $b$ .

**4.31.** В трапеции  $ABCD$  ( $AD \parallel BC$ ) угол  $ADB$  в два раза меньше угла  $ACB$ . Известно, что  $BC = AC = 5$  и  $AD = 6$ . Найдите площадь трапеции.

**У к а з а н и е.** Точка  $D$  лежит на окружности с центром  $C$ , проходящей через точки  $A$  и  $B$ .

**4.32.** Дана трапеция  $ABCD$ , диагонали  $AC$  и  $BD$  которой пересекаются под прямым углом, а продолжения боковых сторон  $AB$  и  $DC$  пересекаются в точке  $K$  под углом  $30^\circ$ . Известно, что  $\angle BAC = \angle CDB$ , а площадь трапеции равна  $S$ . Найдите площадь треугольника  $AKD$ .

**4.33.** Окружность, построенная на основании  $AD$  трапеции  $ABCD$  как на диаметре, проходит через середины боковых сторон  $AB$  и  $CD$  трапеции и касается основания  $BC$ . Найдите углы трапеции.

**У к а з а н и е.** Рассмотрите треугольник с вершинами в центре окружности, в середине боковой стороны и в середине радиуса, проведённого в точку касания окружности с основанием  $BC$ .

**4.34.** Окружность, построенная на основании  $BC$  трапеции  $ABCD$  как на диаметре, проходит через середины диагоналей  $AC$  и  $BD$  трапеции и касается основания  $AD$ . Найдите углы трапеции.

**4.35.** Диагональ  $BD$  трапеции  $ABCD$  равна  $m$ , а боковая сторона  $AD$  равна  $n$ . Найдите основание  $CD$ , если известно, что основание, диагональ и боковая сторона трапеции, выходящие из вершины  $C$ , равны между собой.

**У к а з а н и е.** Точки  $A$ ,  $B$  и  $D$  лежат на окружности с центром  $C$ . Если  $DK$  — диаметр этой окружности, то  $BK = AD$  и  $\angle DBK = 90^\circ$ .

**4.36\*** Дана равнобедренная трапеция, в которую вписана окружность и около которой описана окружность. Отношение высоты трапеции к радиусу описанной окружности равно  $\sqrt{\frac{2}{3}}$ . Найдите углы трапеции.

**У к а з а н и е.** Боковая сторона данной трапеции равна проекции диагонали на большее основание.

**4.37\*** На боковых сторонах  $AB$  и  $CD$  трапеции  $ABCD$  взяты точки  $P$  и  $Q$  соответственно, причём  $AP : PB = 2 : 3$ . Отрезок  $PQ$  разбивает трапецию на части, одна из которых по площади втрое больше другой. Найдите отношение  $CQ : QD$ , если  $AD = 2BC$ .

**4.38\*** Около окружности описана трапеция  $ABCD$ , боковая сторона  $AB$  перпендикулярна основаниям,  $M$  — точка пересечения диагоналей трапеции. Площадь треугольника  $CMD$  равна  $S$ . Найдите радиус окружности.

**У к а з а н и е.** Точка  $M$  лежит на прямой, проходящей через точки касания окружности с основаниями трапеции. Эта прямая содержит  $O$  — центр окружности, поэтому  $S_{\triangle CMD} = S_{\triangle AMB} = S_{\triangle AOB}$ .

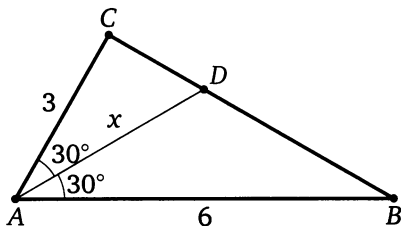
## § 5. Как находить высоты и биссектрисы треугольника?

### Решение задачи 5 из диагностической работы

5. Две стороны треугольника равны 3 и 6, а угол между ними равен  $60^\circ$ . Найдите биссектрису треугольника, проведённую из вершины этого угла.

Ответ:  $2\sqrt{3}$ .

Решение. Пусть  $AD$  — биссектриса треугольника  $ABC$ , в котором  $AB = 6$ ,  $AC = 3$ ,  $\angle BAC = 60^\circ$ .



Первый способ. Обозначим  $AD = x$ . Тогда

$$S_{\triangle ABC} = \frac{1}{2} \cdot AB \cdot AC \cdot \sin 60^\circ = \frac{1}{2} \cdot 6 \cdot 3 \cdot \frac{\sqrt{3}}{2} = \frac{9\sqrt{3}}{2}.$$

С другой стороны,

$$\begin{aligned} S_{\triangle ABC} = S_{\triangle ABD} + S_{\triangle ACD} &= \frac{1}{2} AB \cdot AD \cdot \sin 30^\circ + \frac{1}{2} AC \cdot AD \cdot \sin 30^\circ = \\ &= \frac{1}{2} \cdot 6 \cdot x \cdot \frac{1}{2} + \frac{1}{2} \cdot 3 \cdot x \cdot \frac{1}{2} = \frac{9}{4}x. \end{aligned}$$

Из уравнения  $\frac{9}{4}x = \frac{9\sqrt{3}}{2}$  находим, что  $x = 2\sqrt{3}$ .

Второй способ. Заметим, что треугольник  $ABC$  прямоугольный. Тогда треугольник  $ACD$  также прямоугольный, причём  $\angle CAD = 30^\circ$ . Следовательно,

$$AD = AC : \cos \angle CAD = 3 : \cos 30^\circ = 2\sqrt{3}. \quad \triangleleft$$

\*\*\*

Высоту прямоугольного треугольника, проведённую из вершины прямого угла, удобно находить так: вычислить двумя способами площадь треугольника — как половину произведения катетов и как

половину произведения гипотенузы на искомую высоту. Из полученного равенства выразить эту высоту. Таким образом, высота прямоугольного треугольника, проведённая из вершины прямого угла, равна произведению катетов, делённому на гипотенузу.

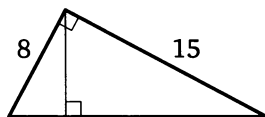
Биссектрису треугольника также можно находить, вычисляя разными способами площадь треугольника.

**Пример 1.** Катеты прямоугольного треугольника равны 15 и 8. Найдите высоту, опущенную на гипотенузу.

Ответ:  $\frac{120}{17}$ .

Решение. Гипотенуза треугольника равна

$$\sqrt{15^2 + 8^2} = 17.$$



Следовательно, искомая высота равна  $\frac{15 \cdot 8}{17} = \frac{120}{17}$ .  $\triangleleft$

Высоту равнобедренного треугольника, опущенную на боковую сторону, также удобно вычислять с помощью площадей.

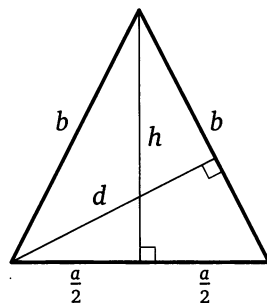
**Пример 2.** Дан треугольник со сторонами  $a$ ,  $b$  и  $b$ . Найдите высоту, опущенную на сторону, равную  $b$ .

Ответ:  $\frac{a\sqrt{4b^2 - a^2}}{2b}$ .

Решение. Пусть  $d$  — искомая высота,  $h$  — высота, опущенная на основание данного равнобедренного треугольника. Тогда

$$h = \sqrt{b^2 - \left(\frac{a}{2}\right)^2} = \frac{\sqrt{4b^2 - a^2}}{2}.$$

С одной стороны, площадь треугольника равна  $\frac{1}{2}ah$ , с другой —  $\frac{1}{2}bd$ . Из равенства  $ah = bd$  находим, что



$$d = \frac{ah}{b} = \frac{a\sqrt{4b^2 - a^2}}{2} : b = \frac{a\sqrt{4b^2 - a^2}}{2b}. \quad \triangleleft$$

\*\*\*

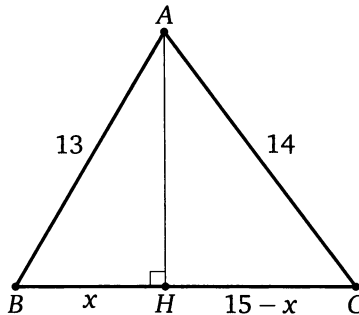
Тот же метод (метод площадей) можно применить и для произвольного треугольника.

**Пример 3.** Дан треугольник со сторонами 13, 14, 15. Найдите высоту, проведённую к большей стороне.

Ответ:  $\frac{56}{5}$ .

**Решение 1.** Пусть  $AH$  — указанная высота треугольника  $ABC$  со сторонами  $BC = 15$ ,  $AC = 14$ ,  $AB = 13$ . По формуле Герона

$$S_{\triangle ABC} = \sqrt{21(21-13)(21-14)(21-15)} = \sqrt{21 \cdot 8 \cdot 7 \cdot 6} = 7 \cdot 3 \cdot 4 = 84.$$



С другой стороны,  $S_{\triangle ABC} = \frac{1}{2}BC \cdot AH$ . Откуда находим, что

$$AH = \frac{2S_{\triangle ABC}}{BC} = \frac{2 \cdot 84}{15} = \frac{56}{5}. \quad \triangleleft$$

Эту задачу можно решить также с помощью теоремы Пифагора.

**Решение 2.** Поскольку  $BC$  — наибольшая сторона треугольника  $ABC$ , то точка  $H$  лежит на стороне  $BC$ . Обозначим  $BH = x$ . Тогда  $CH = BC - BH = 15 - x$ . В прямоугольных треугольниках  $AHB$  и  $AHC$

$$AH^2 = AB^2 - BH^2 = 169 - x^2 \quad \text{и} \quad AH^2 = AC^2 - CH^2 = 196 - (15 - x)^2.$$

Из уравнения  $169 - x^2 = 196 - (15 - x)^2$  находим, что  $x = \frac{33}{5}$ . Следовательно,

$$\begin{aligned} AH &= \sqrt{AB^2 - BH^2} = \sqrt{13^2 - \left(\frac{33}{5}\right)^2} = \sqrt{\frac{65^2 - 33^2}{25}} = \\ &= \sqrt{\frac{32 \cdot 98}{25}} = \frac{4 \cdot 7 \cdot 2}{5} = \frac{56}{5}. \quad \triangleleft \end{aligned}$$

Можно решить эту задачу, применяя теорему косинусов.

**Решение 3.** Пусть  $AH$  — указанная высота треугольника  $ABC$  со сторонами  $BC = 15$ ,  $AC = 14$ ,  $AB = 13$ . По теореме косинусов

$$\cos \angle ABC = \frac{225 + 169 - 196}{2 \cdot 15 \cdot 13} = \frac{33}{65},$$

а из прямоугольного треугольника  $AHB$  находим, что

$$AH = AB \sin \angle ABC = 13 \sqrt{1 - \left(\frac{33}{65}\right)^2} = \frac{56}{5}. \quad \triangleleft$$

Для вычисления биссектрисы также можно использовать метод площадей.

**Пример 4.** Стороны треугольника равны  $a$  и  $b$ , а угол между ними равен  $\gamma$ . Найдите биссектрису треугольника, проведённую из вершины этого угла.

Ответ:  $\frac{2ab \cos \frac{\gamma}{2}}{a+b}$ .

**Решение.** Пусть  $S$  — площадь данного треугольника,  $S_1$  и  $S_2$  — площади треугольников, на которые указанная биссектриса, равная  $l$ , разбивает данный треугольник.

Тогда  $S = S_1 + S_2$ , или

$$\frac{1}{2}ab \sin \gamma = \frac{1}{2}al \sin \frac{\gamma}{2} + \frac{1}{2}bl \sin \frac{\gamma}{2},$$

$$\text{или } ab \sin \frac{\gamma}{2} \cos \frac{\gamma}{2} = \frac{1}{2}(a+b)l \sin \frac{\gamma}{2}.$$

Поскольку  $\sin \frac{\gamma}{2}$  отличен от нуля,  $l = \frac{2ab \cos \frac{\gamma}{2}}{a+b}$ .

\*\*\*

Иногда удобно применить теорему косинусов и свойство биссектрисы треугольника: биссектриса треугольника разбивает его сторону на отрезки, пропорциональные двум другим сторонам.

**Пример 5.** Вычислите биссектрису треугольника  $ABC$ , проведённую из вершины  $A$ , если  $BC = 18$ ,  $AC = 15$ ,  $AB = 12$ .

Ответ: 10.

**Решение.** Пусть  $AK$  — биссектриса треугольника  $ABC$ . Тогда

$$\frac{CK}{BK} = \frac{AC}{AB} = \frac{15}{12} = \frac{5}{4}.$$

Поэтому  $BK = \frac{4}{9}BC = \frac{4}{9} \cdot 18 = 8$ .

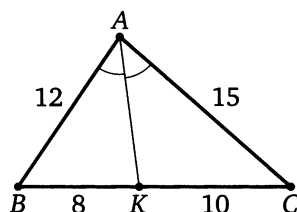
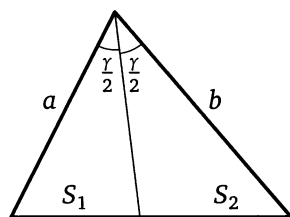
По теореме косинусов из треугольника  $ABC$  находим, что

$$\cos \angle B = \frac{AB^2 + BC^2 - AC^2}{2AB \cdot BC} = \frac{144 + 324 - 225}{2 \cdot 12 \cdot 18} = \frac{9}{16}.$$

Следовательно,

$$AK^2 = AB^2 + BK^2 - 2AB \cdot BK \cos \angle B = 144 + 64 - 108 = 100, \quad AK = 10. \quad \triangleleft$$

Эту же задачу можно решить, используя формулу для квадрата биссектрисы.

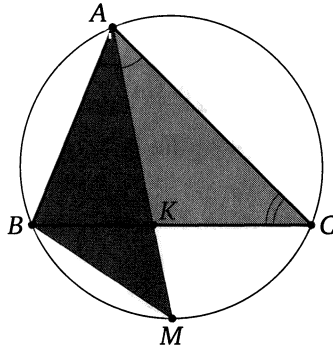


**Утверждение.** Квадрат биссектрисы треугольника равен произведению сторон, её заключающих, без произведения отрезков третьей стороны, на которые она разделена биссектрисой.

**Доказательство.** Пусть  $M$  — точка пересечения продолжения биссектрисы  $AK$  треугольника  $ABC$  с описанной около этого треугольника окружностью. Тогда треугольник  $ACK$  подобен треугольнику  $AMB$  по двум углам. Поэтому

$$\frac{AK}{AB} = \frac{AC}{AM}, \quad \text{или} \quad AK(AK + KM) = AB \cdot AC,$$

$$AK^2 + AK \cdot KM = AB \cdot AC.$$



Следовательно,

$$AK^2 = AB \cdot AC - AK \cdot KM = AB \cdot AC - BK \cdot KC$$

( $AK \cdot KM = BK \cdot KC$  по теореме о произведениях отрезков пересекающихся хорд). Что и требовалось доказать.  $\square$

Вернёмся к примеру 5. Пусть уже найден отрезок  $BK$ . Тогда  $CK = BC - BK = 18 - 8 = 10$ . По формуле для квадрата биссектрисы треугольника находим, что

$$AK^2 = AB \cdot AC - BK \cdot CK = 12 \cdot 15 - 8 \cdot 10 = 180 - 80 = 100.$$

Следовательно,  $AK = 10$ .

## Подготовительные задачи

5.1. Катет и гипотенуза прямоугольного треугольника равны 12 и 20 соответственно. Найдите высоту, проведённую из вершины прямого угла.

5.2. Найдите высоту прямоугольного треугольника, опущенную на гипотенузу, если известно что основание этой высоты делит гипотенузу на отрезки, равные 1 и 4.

5.3. Высота равнобедренного треугольника, опущенная на боковую сторону, разбивает её на отрезки, равные 2 и 1, считая от вершины треугольника. Найдите эту высоту.

5.4. Стороны треугольника равны 10, 17 и 21. Найдите высоту треугольника, проведённую из вершины наибольшего угла.

5.5. В треугольнике  $ABC$  известно, что  $AB = a$ ,  $AC = b$ ,  $\angle BAC = 120^\circ$ . Найдите биссектрису  $AM$ .

5.6. Катеты прямоугольного треугольника равны  $a$  и  $b$ . Найдите биссектрису треугольника, проведённую из вершины прямого угла.

5.7. В треугольнике  $ABC$  известно, что  $AB = 8$ ,  $AC = 6$ ,  $\angle BAC = 60^\circ$ . Найдите биссектрису  $AM$ .

5.8. Найдите высоту трапеции, боковые стороны которой равны 6 и 8, а основания равны 4 и 14.

## Тренировочные задачи

5.9. Найдите высоты треугольника, если его площадь равна  $S$ , а углы равны  $\alpha$ ,  $\beta$  и  $\gamma$ .

5.10. Расстояния от точки  $M$ , лежащей внутри треугольника  $ABC$ , до его сторон  $AC$  и  $BC$  соответственно равны 2 и 4. Найдите расстояние от точки  $M$  до прямой  $AB$ , если  $AB = 10$ ,  $BC = 17$ ,  $AC = 21$ .

5.11. К окружности радиуса 7 проведены две касательные из одной точки, удалённой от центра на расстояние, равное 25. Найдите расстояние между точками касания.

5.12. Найдите площадь равнобедренного треугольника, если высота, опущенная на основание, равна 10, а высота, опущенная на боковую сторону, равна 12.

5.13. На катете  $BC$  прямоугольного треугольника  $ABC$  как на диаметре построена окружность, которая пересекает гипотенузу  $AB$



в точке  $K$ . Найдите площадь треугольника  $CKB$ , если катет  $BC$  равен  $a$ , а катет  $AC$  равен  $b$ .

**5.14.** На высоте  $CD$ , опущенной из вершины  $C$  прямоугольного треугольника  $ABC$  на гипотенузу  $AB$ , как на диаметре построена окружность, которая пересекает катет  $AC$  в точке  $E$ , а катет  $BC$  в точке  $F$ . Найдите площадь четырёхугольника  $CFDE$ , если катет  $AC$  равен  $b$ , а катет  $BC$  равен  $a$ .

**5.15.** В равнобедренном треугольнике основание и боковая сторона равны соответственно 5 и 20. Найдите биссектрису угла при основании треугольника.

**5.16.** В равнобедренном треугольнике  $BCD$  с основанием  $BD$  проведена биссектриса  $BE$ . Известно, что  $CE = c$  и  $DE = d$ . Найдите  $BE$ .

**5.17.** В треугольнике  $ABC$  на стороне  $AC$  как на диаметре построена окружность, которая пересекает сторону  $AB$  в точке  $M$ , а сторону  $BC$  — в точке  $N$ . Известно, что  $AC = 2$ ,  $AB = 3$ ,  $AM : MB = 2 : 3$ . Найдите  $AN$ .

**5.18.** В прямоугольном треугольнике  $ABC$  проведена биссектриса  $CD$  прямого угла  $C$ . Известно, что  $AD = m$ ,  $BD = n$ . Найдите высоту, опущенную из вершины  $C$ .

**5.19.** В треугольнике  $ABC$  угол  $C$  равен  $60^\circ$ , а биссектриса, проведённая из вершины  $C$ , равна  $5\sqrt{3}$ . Стороны  $AC$  и  $BC$  относятся как  $5 : 2$ . Найдите тангенс угла  $A$  и сторону  $BC$ .

**5.20.** В треугольнике  $ABC$  на сторонах  $AB$  и  $BC$  отмечены точки  $M$  и  $N$  соответственно, причём  $BM = BN$ . Через точку  $M$  проведена прямая, перпендикулярная  $BC$ , а через точку  $N$  — прямая, перпендикулярная  $AB$ . Эти прямые пересекаются в точке  $O$ . Продолжение отрезка  $BO$  пересекает сторону  $AC$  в точке  $P$  и делит её на отрезки  $AP = 5$  и  $PC = 4$ . Найдите  $BP$ , если известно, что  $BC = 6$ .

**5.21.** Окружность касается сторон  $AB$  и  $BC$  треугольника  $ABC$  в точках  $D$  и  $E$  соответственно. Найдите высоту треугольника  $ABC$ , опущенную из точки  $A$ , если  $AB = 5$ ,  $AC = 2$ , а точки  $A$ ,  $D$ ,  $E$ ,  $C$  лежат на одной окружности.

У к а з а н и е. Треугольник  $ABC$  равнобедренный.

**5.22.** В треугольнике  $ABC$  проведены биссектрисы  $AE$  и  $CD$ . Найдите длины отрезков  $CD$ ,  $CE$ ,  $DE$  и расстояние между центрами окружностей, вписанной в треугольник  $ABC$  и описанной около треугольника  $ABC$ , если  $AC = 2$ ,  $BC = 4$ ,  $\angle ACB = \arccos \frac{11}{16}$ .

**5.23.** В треугольнике  $ABC$  отношение стороны  $BC$  к стороне  $AC$  равно 3, а  $\angle ACB = \alpha$ . Из вершины  $C$  проведены два луча, делящие угол  $ACB$  на три равные части. Найдите отношение отрезков этих лучей, заключённых внутри треугольника  $ABC$ .

**5.24.** Биссектриса  $CD$  угла  $ACB$  при основании  $BC$  равнобедренного треугольника  $ABC$  делит сторону  $AB$  так, что  $AD = BC$ . Найдите биссектрису  $CD$  и площадь треугольника  $ABC$ , если  $BC = 2$ .

**У к а з а н и е.** Пусть прямая, проведённая через точку  $D$  параллельно  $BC$ , пересекает сторону  $AC$  в точке  $E$ . Треугольники  $ADE$  и  $CBD$  равны по двум сторонам и углу между ними.

**5.25\*** В треугольнике  $KLM$  проведена биссектриса  $KP$ . Окружность, вписанная в треугольник  $KLP$ , касается стороны  $KL$  в точке  $Q$ , причём  $LQ = a$ . На сторонах  $KL$  и  $LM$  выбраны точки  $E$  и  $R$  соответственно так, что прямая  $ER$  проходит через центр окружности, вписанной в треугольник  $KLM$ . Найдите длину биссектрисы  $KP$ , если известно, что  $EL + LR = b$ , а отношение площадей треугольников  $KLP$  и  $ELR$  равно  $\alpha$ .

**У к а з а н и е.** Если  $r$  — радиус окружности, вписанной в треугольник  $KLM$ , то  $S_{\triangle KLP} = \frac{1}{2}(KL + LP)r$ ,  $S_{\triangle ELR} = \frac{1}{2}(EL + LR)r$ .

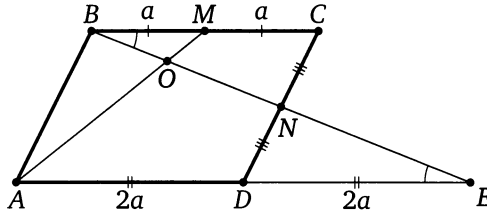
## § 6. Отношение отрезков.

### Решение задачи 6 из диагностической работы

6. Точки  $M$  и  $N$  — середины сторон соответственно  $BC$  и  $CD$  параллелограмма  $ABCD$ . Отрезки  $AM$  и  $BN$  пересекаются в точке  $O$ . Найдите отношение  $\frac{MO}{OA}$ .

Ответ:  $\frac{1}{4}$ .

Решение. Пусть продолжения отрезков  $BN$  и  $AD$  пересекаются в точке  $E$ . Обозначим  $BM = CM = a$ . Тогда  $AD = BC = 2a$ .



Треугольник  $DNE$  равен треугольнику  $CNB$  по стороне и прилежащим к ней углам, поэтому  $DE = BC = 2a$ . Значит,

$$AE = AD + DE = 2a + 2a = 4a.$$

Треугольник  $BOM$  подобен треугольнику  $EOA$ , следовательно,

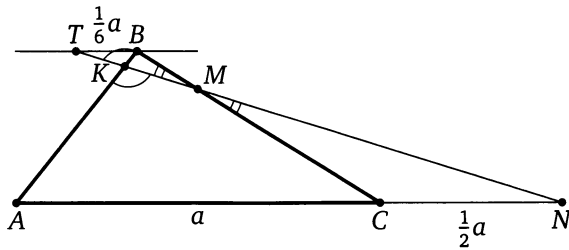
$$\frac{MO}{OA} = \frac{BM}{AE} = \frac{a}{4a} = \frac{1}{4}. \quad \triangleleft$$

\* \* \*

Большинство задач этого раздела решаются либо с помощью теоремы о пропорциональных отрезках (обобщённой теоремы Фалеса), либо с помощью дополнительного построения, которое приводит к двум парам подобных треугольников. Рассмотрим это построение, решив следующую задачу.

**Пример 1.** Дан треугольник  $ABC$ . На продолжении стороны  $AC$  за точку  $C$  взята точка  $N$ , причём  $AC = 2CN$ . Точка  $M$  находится на стороне  $BC$ , причём  $BM : MC = 1 : 3$ . В каком отношении прямая  $MN$  делит сторону  $AB$ ?

Ответ:  $1 : 9$ , считая от точки  $B$ .



**Решение.** Через точку  $B$  проведём прямую, параллельную  $AC$ . Пусть прямая  $MN$  пересекает её в точке  $T$ , а прямую  $AB$  — в точке  $K$ .

Обозначим  $AC = a$ . Тогда  $CN = \frac{1}{2}a$ ,  $AN = \frac{3}{2}a$ . Из подобия треугольников  $TBM$  и  $NCM$  (коэффициент подобия равен  $\frac{1}{3}$ ) находим, что

$$TB = \frac{1}{3}CN = \frac{1}{6}a,$$

а из подобия треугольников  $TBK$  и  $NAK$  —

$$\frac{BK}{AK} = \frac{TB}{AN} = \frac{1}{6}a : \left(\frac{3}{2}a\right) = \frac{1}{9}. \quad \triangleleft$$

Пример 1 можно легко решить с помощью теоремы Менелая, но эта теорема не входит в обязательную школьную программу. Заметим, что теорему Менелая можно доказать, используя те же рассуждения, что и при решении разобранный выше задачи.

**Пример 2.** На сторонах  $AB$  и  $BC$  треугольника  $ABC$  расположены точки  $M$  и  $N$  соответственно, причём  $AM : MB = 3 : 5$ ,  $BN : NC = 1 : 4$ . Прямые  $CM$  и  $AN$  пересекаются в точке  $O$ . Найдите отношения  $OA : ON$  и  $OM : OC$ .

*Ответ:* 3 : 4; 3 : 32.

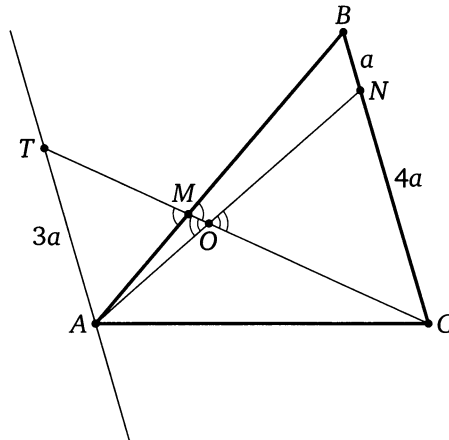
**Решение.** Через точку  $A$  проведём прямую, параллельную  $BC$ . Пусть  $T$  — точка её пересечения с прямой  $MC$ . Положим  $BN = a$ ,  $CN = 4a$ .

Из подобия треугольников  $AMT$  и  $VMC$  (коэффициент  $\frac{3}{5}$ ) находим, что

$$AT = \frac{3}{5}BC = \frac{3}{5}(BN + NC) = \frac{3}{5}(a + 4a) = 3a,$$

а из подобия треугольников  $AOT$  и  $NOC$  получаем

$$\frac{OA}{ON} = \frac{AT}{CN} = \frac{3a}{4a} = \frac{3}{4}.$$



Аналогично находим, что  $\frac{OM}{OC} = \frac{3}{32}$ . ◁

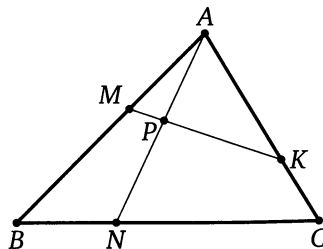
Иногда при решении задач на отношение отрезков удобно применить метод площадей.

**Пример 3.** На сторонах  $AB$ ,  $BC$  и  $AC$  треугольника  $ABC$  взяты соответственно точки  $M$ ,  $N$  и  $K$  так, что  $AM : MB = 2 : 3$ ,  $AK : KC = 2 : 1$ ,  $BN : NC = 1 : 2$ . В каком отношении прямая  $MK$  делит отрезок  $AN$ ?

*Ответ:* 6 : 7, считая от точки  $A$ .

**Решение.** Пусть  $P$  — точка пересечения прямой  $MK$  с отрезком  $AN$ . Обозначим  $\frac{AP}{AN} = x$  и  $S_{\triangle ABC} = S$ . Тогда

$$\begin{aligned} S_{\triangle ABN} &= \frac{BN}{BC} \cdot S = \frac{1}{3}S, & S_{\triangle ACN} &= \frac{CN}{BC} \cdot S = \frac{2}{3}S, \\ S_{\triangle AMP} &= \frac{AM}{AB} \cdot \frac{AP}{AN} \cdot S_{\triangle ABN} = \frac{2}{5} \cdot x \cdot \frac{1}{3} \cdot S = \frac{2}{15}xS, \\ S_{\triangle AKP} &= \frac{AK}{AC} \cdot \frac{AP}{AN} \cdot S_{\triangle ACN} = \frac{2}{3} \cdot x \cdot \frac{2}{3} \cdot S = \frac{4}{9}xS, \\ S_{\triangle AMK} &= \frac{AM}{AB} \cdot \frac{AK}{AC} \cdot S = \frac{2}{5} \cdot \frac{2}{3} \cdot S = \frac{4}{15}S. \end{aligned}$$



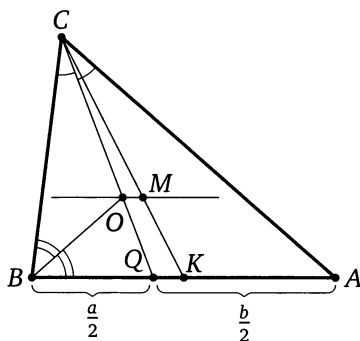
Поскольку  $S_{\Delta AMK} = S_{\Delta AMP} + S_{\Delta AKP}$ , то

$$\frac{2}{15}xS + \frac{4}{9}xS = \frac{4}{15}S.$$

Отсюда находим, что  $x = \frac{6}{13}$ . Следовательно,  $\frac{AP}{PN} = \frac{6}{7}$ .  $\triangleleft$

**Пример 4.** Длины сторон треугольника различны и образуют арифметическую прогрессию. Докажите, что прямая, проходящая через точку пересечения медиан и центр вписанной окружности, параллельна одной из сторон треугольника.

**Доказательство.** Если числа образуют арифметическую прогрессию, то одно из них есть среднее арифметическое двух других. Пусть  $O$  — центр вписанной окружности (точка пересечения биссектрис) треугольника  $ABC$ , в котором  $AC = b$ ,  $BC = a$ ,  $AB = \frac{a+b}{2}$ . Тогда, поскольку  $CQ$  — биссектриса треугольника  $ABC$ , получаем  $\frac{BQ}{AQ} = \frac{BC}{AC} = \frac{a}{b}$ , значит,  $BQ = \frac{a}{2}$  и  $AQ = \frac{b}{2}$ , а т.к.  $BO$  — биссектриса треугольника  $BCQ$ , то  $\frac{CO}{OQ} = a : \frac{a}{2} = 2$ .



С другой стороны, если  $K$  — середина стороны  $AB$ , а  $M$  — точка пересечения медиан треугольника  $ABC$ , то  $\frac{CM}{MK} = 2$ . Поэтому  $\frac{CO}{OQ} = \frac{CM}{MK}$ , значит,  $OM \parallel AB$ . Что и требовалось доказать.  $\square$

## Подготовительные задачи

**6.1.** На медиане  $AM$  треугольника  $ABC$  взята точка  $K$ , причём  $AK : KM = 1 : 3$ . Найдите отношение, в котором прямая, проходящая через точку  $K$  параллельно стороне  $AC$ , делит сторону  $BC$ .

**6.2.** Дан треугольник  $ABC$ . На продолжении стороны  $AC$  за точку  $C$  взята точка  $N$ , причём  $CN = AC$ ; точка  $K$  — середина стороны  $AB$ . В каком отношении прямая  $KN$  делит сторону  $BC$ ?

**6.3.** На стороне  $BC$  треугольника  $ABC$  и на продолжении стороны  $AB$  за вершину  $B$  расположены точки  $M$  и  $K$  соответственно, причём  $BM : MC = 4 : 5$  и  $BK : AB = 1 : 5$ . Прямая  $KM$  пересекает сторону  $AC$  в точке  $N$ . Найдите отношение  $CN : AN$ .

**6.4.** На сторонах  $AB$  и  $AC$  треугольника  $ABC$  расположены точки  $K$  и  $L$ , причём  $AK : KB = 4 : 7$  и  $AL : LC = 3 : 2$ . Прямая  $KL$  пересекает продолжение стороны  $BC$  в точке  $M$ . Найдите отношение  $CM : BC$ .

**6.5.** На сторонах  $AB$  и  $BC$  параллелограмма  $ABCD$  расположены точки  $N$  и  $M$  соответственно, причём  $AN : NB = 3 : 2$ ,  $BM : MC = 2 : 5$ . Прямые  $AM$  и  $DN$  пересекаются в точке  $O$ . Найдите отношения  $OM : OA$  и  $ON : OD$ .

**6.6.** На сторонах  $AB$  и  $AC$  треугольника  $ABC$  расположены точки  $N$  и  $M$  соответственно, причём  $AN : NB = 3 : 2$ ,  $AM : MC = 4 : 5$ . Прямые  $BM$  и  $CN$  пересекаются в точке  $O$ . Найдите отношения  $OM : OB$  и  $ON : OC$ .

**6.7.** В равнобедренном треугольнике  $ABC$  ( $AB = BC$ ) на стороне  $BC$  взята точка  $D$  так, что  $BD : DC = 1 : 4$ . В каком отношении прямая  $AD$  делит высоту  $BE$  треугольника  $ABC$ , считая от вершины  $B$ ?

**6.8.** На медиане  $AA_1$  треугольника  $ABC$  взята точка  $M$ , причём  $AM : MA_1 = 1 : 3$ . В каком отношении прямая  $BM$  делит сторону  $AC$ ?

**6.9.** Точки  $A_1$  и  $C_1$  расположены на сторонах  $BC$  и  $AB$  треугольника  $ABC$ . Отрезки  $AA_1$  и  $CC_1$  пересекаются в точке  $M$ . В каком отношении прямая  $BM$  делит сторону  $AC$ , если  $AC_1 : C_1B = 2 : 3$  и  $BA_1 : A_1C = 1 : 2$ ?

**6.10.** В треугольнике  $ABC$  известно, что  $AB = c$ ,  $BC = a$ ,  $AC = b$ . В каком отношении центр вписанной окружности треугольника делит биссектрису  $CD$ ?

## Тренировочные задачи

**6.11.** На стороне  $PQ$  треугольника  $PQR$  взята точка  $N$ , а на стороне  $PR$  — точка  $L$ , причём  $NQ = LR$ . Точка пересечения отрезков  $QL$  и  $NR$

делит отрезок  $QL$  в отношении  $m : n$ , считая от точки  $Q$ . Найдите отношение  $PN : PR$ .

**6.12.** В треугольнике  $ABC$  биссектриса  $AD$  делит сторону  $BC$  в отношении  $BD : DC = 2 : 1$ . В каком отношении медиана  $CE$  делит эту биссектрису?

**6.13.** На сторонах  $AB$ ,  $BC$  и  $AC$  треугольника  $ABC$  взяты соответственно точки  $K$ ,  $L$  и  $M$ , причём  $AK : KB = 2 : 3$ ,  $BL : LC = 1 : 2$ ,  $CM : MA = 3 : 1$ . В каком отношении отрезок  $KL$  делит отрезок  $BM$ ?

**6.14.** В треугольнике  $ABC$ , площадь которого равна 6, на стороне  $AB$  взята точка  $K$ , делящая эту сторону в отношении  $AK : BK = 2 : 3$ , а на стороне  $AC$  взята точка  $L$ , делящая  $AC$  в отношении  $AL : LC = 5 : 3$ . Точка  $Q$  пересечения прямых  $CK$  и  $BL$  отстоит от прямой  $AB$  на расстоянии 1,5. Найдите сторону  $AB$ .

**6.15.** В треугольнике  $ABC$  на основании  $AC$  взяты точки  $P$  и  $Q$  так, что  $AP < AQ$ . Прямые  $BP$  и  $BQ$  делят медиану  $AM$  на три равные части. Известно, что  $PQ = 3$ . Найдите  $AC$ .

**6.16.** Дан треугольник  $ABC$ . Известно, что  $AB = 4$ ,  $AC = 2$  и  $BC = 3$ . Биссектриса угла  $BAC$  пересекает сторону  $BC$  в точке  $K$ . Прямая, проходящая через точку  $B$  параллельно  $AC$ , пересекает продолжение биссектрисы  $AK$  в точке  $M$ . Найдите  $KM$ .

**6.17.** Около окружности описана равнобедренная трапеция  $ABCD$ . Боковые стороны  $AB$  и  $CD$  касаются окружности в точках  $M$  и  $N$ ,  $K$  — середина  $AD$ . В каком отношении прямая  $BK$  делит отрезок  $MN$ ?

**6.18.** Около окружности описана равнобедренная трапеция  $ABCD$ . Боковая сторона  $AB$  касается окружности в точке  $M$ , а основание  $AD$  — в точке  $N$ . Отрезки  $MN$  и  $AC$  пересекаются в точке  $P$ , причём  $NP : PM = 2$ . Найдите отношение  $AD : BC$ .

**6.19.** Во вписанном четырёхугольнике  $ABCD$  известны отношения  $AB : DC = 1 : 2$  и  $BD : AC = 2 : 3$ . Найдите  $DA : BC$ .

**6.20.** В треугольнике  $ABC$  проведена высота  $AD$ . Прямые, одна из которых содержит медиану  $BK$ , а вторая — биссектрису  $BE$ , делят эту высоту на три равных отрезка. Известно, что  $AB = 4$ . Найдите сторону  $AC$ .

**6.21\*** При каком отношении оснований трапеции существует прямая, на которой шесть точек пересечения с диагоналями, боковыми сторонами и продолжениями оснований трапеции высекают пять равных отрезков?

**6.22\*** В трапеции  $ABCD$  с боковыми сторонами  $AB = 9$  и  $CD = 5$  биссектриса угла  $D$  пересекает биссектрисы углов  $A$  и  $C$  в точках  $M$



и  $N$  соответственно, а биссектриса угла  $B$  пересекает те же две биссектрисы в точках  $L$  и  $K$ , причём точка  $K$  лежит на основании  $AD$ .

а) В каком отношении прямая  $LN$  делит сторону  $AB$ , а прямая  $MK$  — сторону  $BC$ ?

б) Найдите отношение  $MN : KL$ , если  $LM : KN = 3 : 7$ .

**6.23\*** Из точки  $A$  проведены две касательные ( $M$  и  $N$  — точки касания,  $O$  — центр окружности) и секущая, пересекающая эту окружность в точках  $B$  и  $C$ , а хорду  $MN$  — в точке  $P$ . Известно, что  $AB : BC = 2 : 3$ . Найдите  $AP : PC$ .

У к а з а н и е. Пусть  $D$  и  $E$  — середины хорд  $MN$  и  $BC$  соответственно. Тогда  $AP \cdot AE = AD \cdot AO = AM^2 = AB \cdot AC$ .

## § 7. Отношение площадей.

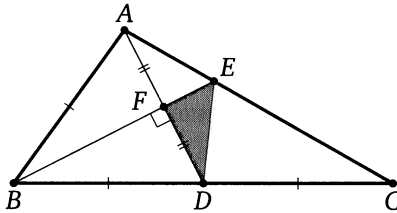
### Решение задачи 7 из диагностической работы

7. В треугольнике  $ABC$  медиана  $AD$  и биссектриса  $BE$  перпендикулярны и пересекаются в точке  $F$ . Известно, что площадь треугольника  $DEF$  равна 5. Найдите площадь треугольника  $ABC$ .

*Ответ:* 60.

**Решение.** Треугольник  $ABD$  равнобедренный, так как его биссектриса  $BF$  является высотой. Поэтому

$$AF = FD \Rightarrow S_{\triangle AFE} = S_{\triangle DFE} = 5.$$



Кроме того,  $BC = 2BD = 2AB$ . Тогда по свойству биссектрисы треугольника

$$\frac{EC}{AE} = \frac{BC}{AB} = 2.$$

Следовательно,

$$S_{\triangle DEC} = 2S_{\triangle ADE} = 4S_{\triangle DEF} = 20, \quad S_{\triangle ADC} = 30.$$

Значит,  $S_{\triangle ABC} = 2S_{\triangle ADC} = 60$ . ◁

\* \* \*

При решении большинства задач этого раздела применяются два простых утверждения:

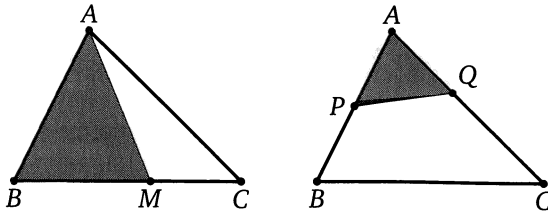
1) если точка  $M$  лежит на стороне  $BC$  треугольника  $ABC$ , то площади треугольников  $AMB$  и  $AMC$  пропорциональны отрезкам  $BM$  и  $CM$ ,

т. е.  $\frac{S_{\triangle AMB}}{S_{\triangle AMC}} = \frac{BM}{CM}$ ;

2) если прямая пересекает стороны  $AB$  и  $AC$  треугольника  $ABC$  (или их продолжения) в точках  $P$  и  $Q$  соответственно, то

$$\frac{S_{\triangle APQ}}{S_{\triangle ABC}} = \frac{AP}{AB} \cdot \frac{AQ}{AC}.$$

Первое из этих утверждений вытекает непосредственно из формулы площади треугольника по стороне и опущенной на неё высоте: у треугольников  $AMB$  и  $AMC$  одна и та же высота, опущенная из общей вершины  $A$ .



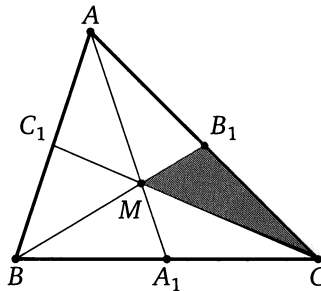
Второе утверждение можно легко вывести из формулы площади треугольника по двум сторонам и углу между ними: у треугольников  $APQ$  и  $ABC$  углы при общей вершине  $A$  либо равны, либо в сумме составляют  $180^\circ$ .

Напомним также, что отношение площадей подобных треугольников равно квадрату коэффициента подобия.

**Пример 1.** Докажите, что медианы треугольника разбивают его на шесть равновеликих треугольников.

**Доказательство.** Пусть  $M$  — точка пересечения медиан  $AA_1$ ,  $BB_1$ ,  $CC_1$  треугольника  $ABC$ . Тогда

$$S_{\Delta B_1MC} = \frac{1}{3}S_{\Delta B_1BC} = \frac{1}{3} \cdot \left(\frac{1}{2}S_{\Delta ABC}\right) = \frac{1}{6} \cdot S_{\Delta ABC}.$$



Аналогично для остальных пяти треугольников. Таким образом, площадь каждого из шести треугольников равна шестой части площади исходного треугольника.  $\square$

**Пример 2.** Через середину  $M$  стороны  $BC$  параллелограмма  $ABCD$ , площадь которого равна 1, и вершину  $A$  проведена прямая, пересекающая диагональ  $BD$  в точке  $O$ . Найдите площадь четырёхугольника  $OMCD$ .

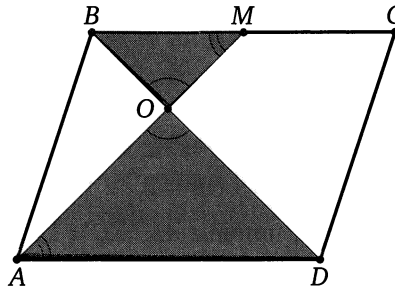
**Ответ:**  $\frac{5}{12}$ .

**Решение.** Из подобия треугольников  $BOM$  и  $DOA$  находим, что

$$\frac{BO}{OD} = \frac{BM}{AD} = \frac{1}{2}.$$

Поэтому  $\frac{BO}{BD} = \frac{1}{3}$ , а так как  $\frac{BM}{BC} = \frac{1}{2}$ , то

$$S_{\Delta BOM} = \frac{BO}{BD} \cdot \frac{BM}{BC} \cdot S_{\Delta BCD} = \frac{1}{3} \cdot \frac{1}{2} \cdot \frac{1}{2} = \frac{1}{12}.$$



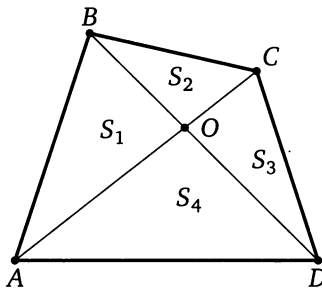
Следовательно,

$$S_{OMCD} = S_{\Delta BCD} - S_{\Delta BOM} = \frac{1}{2} - \frac{1}{12} = \frac{5}{12}. \quad \triangleleft$$

**Пример 3.** Диагонали разбивают выпуклый четырёхугольник на треугольники с площадями  $S_1$ ,  $S_2$ ,  $S_3$  и  $S_4$  ( $S_1$  и  $S_3$  — площади треугольников, прилежащих к противоположным сторонам четырёхугольника). Докажите, что  $S_1 S_3 = S_2 S_4$ .

**Доказательство.** Пусть диагонали выпуклого четырёхугольника  $ABCD$  пересекаются в точке  $O$ ,

$$S_{\Delta AOB} = S_1, \quad S_{\Delta BOC} = S_2, \quad S_{\Delta COD} = S_3, \quad S_{\Delta AOD} = S_4.$$



Тогда  $\frac{S_1}{S_2} = \frac{AO}{OC}$  и  $\frac{S_4}{S_3} = \frac{AO}{OC}$ , поэтому  $\frac{S_1}{S_2} = \frac{S_4}{S_3}$ . Следовательно,  $S_1 S_3 = S_2 S_4$ .  $\square$

## Подготовительные задачи

7.1. Найдите площадь треугольника, вершины которого — середины сторон треугольника площади 4.

7.2. Точки  $M$  и  $N$  расположены на стороне  $BC$  треугольника  $ABC$  площади 1, а точка  $K$  — на стороне  $AC$ , причём  $BM : MN : NC = 1 : 1 : 2$  и  $CK : AK = 1 : 4$ . Найдите площадь четырёхугольника  $AMNK$ .

7.3. На стороне  $AB$  треугольника  $ABC$  взяты точки  $M$  и  $N$ , причём

$$AM : MN : NB = 2 : 2 : 1,$$

а на стороне  $AC$  — точка  $K$ , причём  $AK : KC = 1 : 2$ . Найдите площадь треугольника  $MNK$ , если площадь треугольника  $ABC$  равна 1.

7.4. Через точки  $M$  и  $N$ , делящие сторону  $AB$  треугольника  $ABC$  на три равные части, проведены прямые, параллельные стороне  $BC$ . Найдите площадь части треугольника, заключённой между этими прямыми, если площадь треугольника  $ABC$  равна 1.

7.5. На сторонах  $AB$ ,  $BC$  и  $AC$  треугольника  $ABC$  взяты точки  $C_1$ ,  $A_1$  и  $B_1$  соответственно, причём

$$\frac{AC_1}{C_1B} = \frac{BA_1}{A_1C} = \frac{CB_1}{B_1A} = 2.$$

Найдите площадь треугольника  $A_1B_1C_1$ , если площадь треугольника  $ABC$  равна 1.

7.6. Сторона треугольника равна 36. Прямая, параллельная этой стороне, делит площадь треугольника пополам. Найдите длину отрезка этой прямой, заключённого между сторонами треугольника.

7.7. Из середины основания треугольника площади  $S$  проведены прямые, параллельные боковым сторонам. Найдите площадь полученного таким образом параллелограмма.

## Тренировочные задачи

7.8. Из точки на основании треугольника проведены прямые, параллельные боковым сторонам. Они разбивают треугольник на параллелограмм и два треугольника с площадями  $S_1$  и  $S_2$ . Найдите площадь параллелограмма.

7.9. В треугольнике  $ABC$  проведены биссектрисы  $CF$  и  $AD$ . Найдите отношение площадей треугольников  $AFD$  и  $ABC$ , если

$$AB : AC : BC = 21 : 28 : 20.$$

7.10. Треугольник и вписанный в него ромб имеют общий угол. Стороны треугольника, заключающие этот угол, относятся как  $m : n$ . Найдите отношение площади ромба к площади треугольника.

7.11. Две прямые, параллельные основаниям трапеции, делят каждую из боковых сторон на три равные части. Вся трапеция разделена ими на три части. Найдите площадь средней части, если площади крайних равны  $S_1$  и  $S_2$ .

7.12. Четырёхугольник разделён диагоналями на четыре треугольника. Площади трёх из них равны 10, 20 и 30, и каждая меньше площади четвёртого треугольника. Найдите площадь данного четырёхугольника.

7.13. Площади треугольников, образованных отрезками диагоналей трапеции и её основаниями, равны  $S_1$  и  $S_2$ . Найдите площадь трапеции.

7.14. Площадь трапеции  $ABCD$  равна 30. Точка  $P$  — середина боковой стороны  $AB$ . Точка  $R$  на стороне  $CD$  выбрана так, что  $2CD = 3RD$ . Прямые  $AR$  и  $PD$  пересекаются в точке  $Q$ . Найдите площадь треугольника  $APQ$ , если  $AD = 2BC$ .

7.15. Дан выпуклый четырёхугольник площади  $S$ . Найдите площадь четырёхугольника с вершинами в серединах сторон данного.

7.16. Дан выпуклый четырёхугольник площади  $S$ . Внутри него выбирается точка и отображается симметрично относительно середин его сторон. Получаются четыре вершины нового четырёхугольника. Найдите его площадь.

7.17. В трапеции  $ABCD$  ( $BC \parallel AD$ ) диагонали пересекаются в точке  $M$ ,  $BC = b$ ,  $AD = a$ . Найдите отношение площади треугольника  $ABM$  к площади трапеции  $ABCD$ .

7.18. В равнобедренном треугольнике  $ABC$  боковые стороны  $BC$  и  $AC$  в два раза больше основания  $AB$ . Биссектрисы углов при основании пересекаются в точке  $M$ . Какую часть треугольника  $ABC$  составляет площадь треугольника  $AMB$ ?

7.19. В треугольнике  $ABC$ , площадь которого равна  $S$ , проведены биссектриса  $CE$  и медиана  $BD$ , пересекающиеся в точке  $O$ . Найдите площадь четырёхугольника  $ADOE$ , зная, что  $BC = a$ ,  $AC = b$ .

7.20. В прямоугольном треугольнике синус меньшего угла равен  $\frac{1}{3}$ . Перпендикулярно гипотенузе проведена прямая, разбивающая треугольник на две равновеликие части. В каком отношении эта прямая делит гипотенузу?

7.21. На сторонах  $AB$  и  $AD$  параллелограмма  $ABCD$  взяты точки  $M$  и  $N$ . При этом прямые  $MC$  и  $NC$  разбивают параллелограмм на три равновеликие части. Найдите  $MN$ , если  $BD = d$ .

7.22. В треугольнике  $ABC$  угол  $A$  равен  $45^\circ$ , а угол  $C$  острый. Из середины стороны  $BC$  опущен перпендикуляр  $NM$  на сторону  $AC$ . Площади треугольников  $NMC$  и  $ABC$  относятся как  $1 : 8$ . Найдите углы треугольника  $ABC$ .

7.23. В треугольнике  $ABC$  из точки  $E$  стороны  $BC$  проведена прямая, параллельная высоте  $BD$  и пересекающая сторону  $AC$  в точке  $F$ . Отрезок  $EF$  делит треугольник  $ABC$  на две равновеликие фигуры. Найдите  $EF$ , если  $BD = 6$ ,  $\frac{AD}{DC} = \frac{2}{7}$ .

7.24. Через некоторую точку, взятую внутри треугольника, проведены три прямые, параллельные сторонам. Эти прямые разбивают треугольник на шесть частей, три из которых — треугольники с площадями  $S_1, S_2, S_3$ . Найдите площадь данного треугольника.

7.25. В равнобедренном треугольнике  $ABC$  ( $AB = BC$ ) проведена биссектриса  $AD$ . Площади треугольников  $ABD$  и  $ADC$  равны соответственно  $S_1$  и  $S_2$ . Найдите  $AC$ .

7.26. Диагонали выпуклого четырёхугольника  $ABCD$  пересекаются в точке  $E$ . Известно, что площадь каждого из треугольников  $ABE$  и  $DCE$  равна 1, площадь всего четырёхугольника не превосходит 4,  $AD = 3$ . Найдите сторону  $BC$ .

7.27. Из точки  $P$ , расположенной внутри остроугольного треугольника  $ABC$ , опущены перпендикуляры на его стороны. Длины сторон и опущенных на них перпендикуляров соответственно равны  $a$  и  $k$ ,  $b$  и  $m$ ,  $c$  и  $n$ . Найдите отношение площади треугольника  $ABC$  к площади треугольника, вершинами которого служат основания перпендикуляров.

7.28. Из точки  $P$ , расположенной внутри остроугольного треугольника  $ABC$ , опущены перпендикуляры на стороны  $AB$ ,  $BC$  и  $CA$ . Перпендикуляры соответственно равны  $l$ ,  $m$ ,  $n$ . Вычислите площадь треугольника  $ABC$ , если углы  $BAC$ ,  $ABC$  и  $ACB$  соответственно равны  $\alpha$ ,  $\beta$  и  $\gamma$ .

7.29. Дан параллелограмм  $ABCD$ . Прямая, проходящая через вершину  $C$ , пересекает прямые  $AB$  и  $AD$  в точках  $K$  и  $L$ . Площади треугольников  $KBC$  и  $CDL$  равны  $p$  и  $q$ . Найдите площадь параллелограмма  $ABCD$ .

7.30. На боковых сторонах  $AD$  и  $BC$  трапеции  $ABCD$  взяты точки  $P$  и  $Q$  соответственно, причём  $AP : PD = 3 : 2$ . Отрезок  $PQ$  разбивает

трапецию на части, одна из которых по площади вдвое больше другой. Найдите отношение  $CQ : QB$ , если  $AB : CD = 3 : 2$ .

**7.31.** На сторонах  $AB$ ,  $AC$  и  $BC$  правильного треугольника  $ABC$  расположены соответственно точки  $C_1$ ,  $B_1$  и  $A_1$ , причём треугольник  $A_1B_1C_1$  равносторонний. Отрезок  $BB_1$  пересекает сторону  $C_1A_1$  в точке  $O$ , причём  $\frac{BO}{OB_1} = k$ . Найдите отношение площади треугольника  $ABC$  к площади треугольника  $A_1B_1C_1$ .

**7.32.** На сторонах  $AB$ ,  $BC$  и  $AC$  треугольника  $ABC$  площади 1 отмечены соответственно точки  $C_1$ ,  $A_1$  и  $B_1$ , причём

$$\frac{AC_1}{C_1B} = \frac{BA_1}{A_1C} = \frac{CB_1}{B_1A} = 2.$$

Найдите площадь треугольника, вершины которого — попарные пересечения отрезков  $AA_1$ ,  $BB_1$ ,  $CC_1$ .



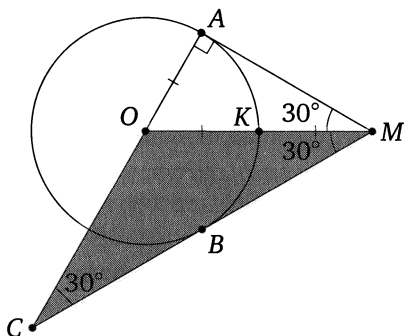
## § 8. Касательная к окружности.

### Решение задачи 8 из диагностической работы

8. Из точки  $M$ , лежащей вне окружности с центром  $O$  и радиусом  $R$ , проведены касательные  $MA$  и  $MB$  ( $A$  и  $B$  — точки касания). Прямые  $OA$  и  $MB$  пересекаются в точке  $C$ . Найдите  $OC$ , если известно, что отрезок  $OM$  делится окружностью пополам.

Ответ:  $2R$ .

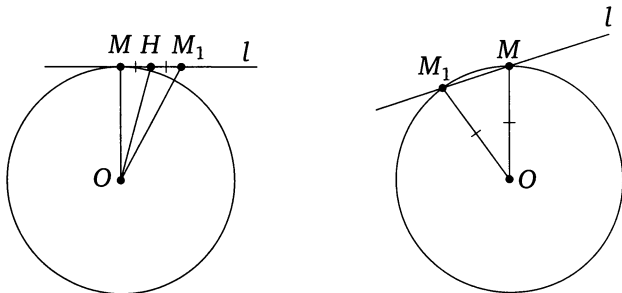
Решение. Пусть  $K$  — точка пересечения окружности с отрезком  $OM$ . Тогда  $OM = 2OK = 2R$ .



В прямоугольном треугольнике  $OAM$  катет  $OA$  вдвое меньше гипотенузы  $OM$ , значит,  $\angle AMO = 30^\circ$ , а так как  $MO$  — биссектриса угла  $AMC$ , то  $\angle AMC = 60^\circ$ . Из прямоугольного треугольника  $MAC$  находим, что  $\angle ACM = 30^\circ$ , значит, треугольник  $MOC$  — равнобедренный. Следовательно,  $OC = OM = 2R$ .  $\triangleleft$

\*\*\*

В школьных учебниках встречаются два разных определения касательной к окружности. Первое: прямая называется касательной



к окружности, если прямая и окружность имеют единственную общую точку. Второе: прямая называется касательной к окружности, если она проходит через точку, лежащую на окружности, и перпендикулярна радиусу, проведённому в эту точку.

Эти определения равносильны, т. е. если некоторая прямая касается окружности по одному из этих определений, то она касается окружности и по второму. Докажем это.

**Утверждение.** Пусть прямая имеет с окружностью единственную общую точку. Тогда прямая перпендикулярна радиусу окружности, проведённому в эту точку.

**Доказательство.** Пусть прямая  $l$  имеет с окружностью единственную общую точку  $M$ . Допустим, что радиус  $OM$  окружности, проведённый в эту точку, не перпендикулярен прямой  $l$ . Тогда опустим перпендикуляр  $OH$  из центра окружности на прямую  $l$  и на продолжении отрезка  $MH$  за точку  $H$  отложим отрезок  $HM_1$ , равный  $MH$ . Треугольник  $MOM_1$  — равнобедренный, т. к. его высота  $OH$  является медианой. Значит,  $OM_1 = OM$ , т. е. точка  $M_1$ , не совпадающая с точкой  $M$ , также лежит и на окружности, и на прямой  $l$ . А это противоречит тому, что  $M$  — единственная общая точка прямой  $l$  и окружности. Следовательно,  $OM \perp l$ . Что и требовалось доказать.  $\square$

**Утверждение.** Пусть теперь прямая проходит через точку  $M$ , лежащую на окружности, и перпендикулярна радиусу  $OM$ , проведённому в эту точку. Тогда  $M$  — единственная общая точка прямой  $l$  и окружности.

**Доказательство.** Предположим, что это не так, т. е. что есть ещё хотя бы одна отличная от  $M$  общая точка  $M_1$  прямой  $l$  и окружности. Тогда  $OM_1 = OM$ , т. е. треугольник  $MOM_1$  — равнобедренный, что невозможно, поскольку один из углов при его основании равен  $90^\circ$ . Следовательно,  $M$  — единственная общая точка прямой  $l$  и окружности. Что и требовалось доказать.  $\square$

Равносильность определений доказана.

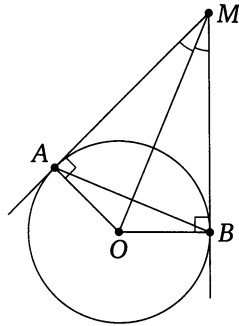
\* \* \*

При решении задач, связанных с касательной, чаще всего используются следующие простейшие свойства касательной.

Если из точки  $M$ , не лежащей на окружности с центром  $O$ , проведены к окружности две касательные  $MA$  и  $MB$  ( $A$  и  $B$  — точки касания), то:

- 1)  $MA = MB$ ;
- 2)  $MO$  — биссектриса угла  $AMB$ ;

3) прямая  $MO$  перпендикулярна отрезку  $AB$  и делит его пополам.

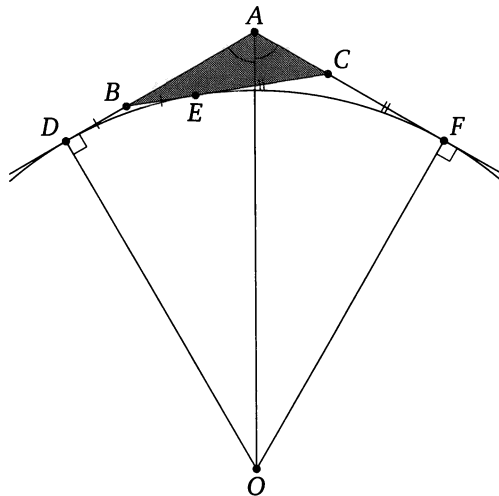


**Пример 1.** Угол при вершине  $A$  треугольника  $ABC$  равен  $120^\circ$ . Окружность радиуса  $R$  касается стороны  $BC$  и продолжений сторон  $AB$  и  $AC$ . Найдите периметр треугольника  $ABC$ .

*Ответ:*  $\frac{2R\sqrt{3}}{3}$ .

**Решение.** Пусть  $O$  — центр окружности,  $D$ ,  $E$  и  $F$  — точки касания с прямыми  $AB$ ,  $BC$  и  $AC$  соответственно,  $2p$  — периметр треугольника  $ABC$ . Тогда  $AD = AF$ ,  $BE = BD$  и  $CE = CF$ . Поэтому

$$\begin{aligned} 2p &= AB + BC + AC = AB + (BE + EC) + AC = \\ &= (AB + BE) + (EC + AC) = (AB + BD) + (CF + AC) = AD + AF = 2AD. \end{aligned}$$



Поскольку луч  $AO$  — биссектриса угла  $DAC$ , то  $\angle DAO = 60^\circ$ . Из прямоугольного треугольника  $ADO$  находим, что  $AD = OD \operatorname{ctg} 60^\circ = \frac{R\sqrt{3}}{3}$ . Следовательно,  $2p = 2AD = \frac{2R\sqrt{3}}{3}$ .  $\triangleleft$

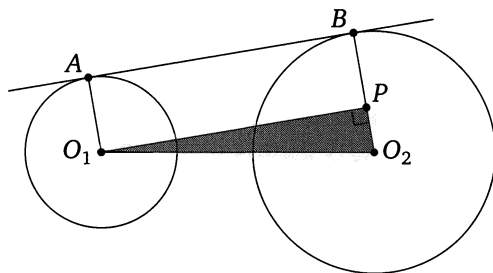
**Пример 2.** Даны окружности радиусов  $r$  и  $R$  ( $R > r$ ). Расстояние между их центрами равно  $a$  ( $a > R + r$ ). Найдите отрезки общих касательных, заключённые между точками касания.

*Ответ:*  $\sqrt{a^2 - (R+r)^2}$ ,  $\sqrt{a^2 - (R-r)^2}$ .

**Решение.** Пусть  $O_1$  и  $O_2$  — центры окружностей радиусов  $r$  и  $R$ ,  $A$  и  $B$  — соответственные точки касания окружностей с общей внешней касательной,  $C$  и  $D$  — с общей внутренней.

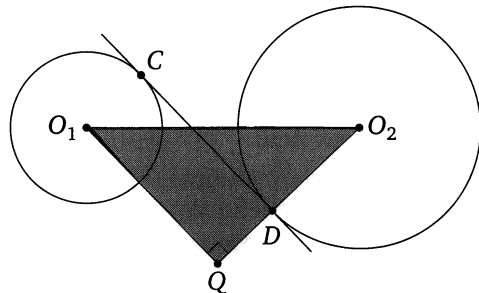
Пусть  $P$  — основание перпендикуляра, опущенного из  $O_1$  на  $O_2B$ . Из прямоугольного треугольника  $O_1PO_2$  находим, что

$$O_1P = \sqrt{O_1O_2^2 - O_2P^2} = \sqrt{a^2 - (R-r)^2}.$$



Пусть  $Q$  — основание перпендикуляра, опущенного из  $O_1$  на продолжение  $O_2D$ . Из прямоугольного треугольника  $O_1QO_2$  находим, что

$$O_1Q = \sqrt{O_1O_2^2 - O_2Q^2} = \sqrt{a^2 - (R+r)^2}.$$



Следовательно,

$$AB = O_1P = \sqrt{a^2 - (R-r)^2}, \quad CD = O_1Q = \sqrt{a^2 - (R+r)^2}. \quad \triangleleft$$

## Подготовительные задачи

**8.1.** В окружности проведён диаметр  $AB$ . Прямая, проходящая через точку  $A$ , пересекает в точке  $C$  касательную к окружности, проведённую через точку  $B$ . Отрезок  $AC$  делится окружностью пополам. Найдите угол  $BAC$ .

**8.2.** Две прямые касаются окружности с центром  $O$  в точках  $A$  и  $B$  и пересекаются в точке  $C$ . Найдите угол между этими прямыми, если  $\angle ABO = 40^\circ$ .

**8.3.** В большей из двух concentрических окружностей (имеющих общий центр) проведена хорда, равная 32 и касающаяся меньшей окружности. Найдите радиус каждой из окружностей, если ширина образовавшегося кольца равна 8.

**8.4.** Две прямые, проходящие через точку  $M$ , лежащую вне окружности с центром  $O$ , касаются окружности в точках  $A$  и  $B$ . Отрезок  $OM$  делится окружностью пополам. В каком отношении отрезок  $OM$  делится прямой  $AB$ ?

**8.5.** Из одной точки проведены к окружности две касательные. Длина каждой касательной равна 12, а расстояние между точками касания равно 14,4. Найдите радиус окружности.

**8.6.** Прямая, проходящая через точку  $M$ , удалённую от центра окружности радиуса 10 на расстояние, равное 26, касается окружности в точке  $A$ . Найдите  $AM$ .

**8.7.** Окружности радиусов  $R$  и  $r$  ( $R > r$ ) касаются некоторой прямой. Линия центров пересекает эту прямую под углом  $30^\circ$ . Найдите расстояние между центрами окружностей.

**8.8.** Из точки  $M$  проведены касательные  $MA$  и  $MB$  к окружности с центром  $O$  ( $A$  и  $B$  — точки касания). Найдите радиус окружности, если  $\angle AMB = \alpha$  и  $AB = a$ .

**8.9.** Окружность с центром  $O$  касается двух параллельных прямых. Проведена касательная к окружности, пересекающая эти прямые в точках  $A$  и  $B$ . Найдите угол  $AOB$ .

**8.10.** На окружности радиуса  $r$  выбраны три точки таким образом, что окружность оказалась разделённой на три дуги, градусные меры которых относятся как 3 : 4 : 5. В точках деления к окружности проведены касательные. Найдите площадь треугольника, образованного этими касательными.

**8.11.** Расстояния от концов диаметра окружности до некоторой касательной равны  $a$  и  $b$ . Найдите радиус окружности.

**8.12.** В прямоугольном треугольнике точка касания вписанной окружности делит гипотенузу на отрезки, равные 5 и 12. Найдите катеты треугольника.

### Тренировочные задачи

**8.13.** Из точки  $M$ , лежащей вне окружности радиуса 1, проведены к окружности две взаимно перпендикулярные касательные  $MA$  и  $MB$ . Между точками касания  $A$  и  $B$  на меньшей дуге  $AB$  взята произвольная точка  $C$  и через неё проведена третья касательная  $KL$ , образующая с касательными  $MA$  и  $MB$  треугольник  $KLM$ . Найдите периметр этого треугольника.

**8.14.** На основании равнобедренного треугольника, равном 8, как на хорде построена окружность, касающаяся боковых сторон треугольника. Найдите радиус окружности, если высота, опущенная на основание треугольника, равна 3.

**8.15.** Радиусы двух окружностей равны 27 и 13, а расстояние между центрами равно 50. Найдите длины общих касательных к этим окружностям.

**8.16.** Две окружности радиусов 4 и 3 с центрами в точках  $O_1$  и  $O_2$  касаются некоторой прямой в точках  $M_1$  и  $M_2$  соответственно и лежат по разные стороны от этой прямой. Отношение отрезков  $O_1O_2$  и  $M_1M_2$  равно  $\frac{2}{\sqrt{3}}$ . Найдите  $O_1O_2$ .

**8.17.** Две окружности радиусов 12 и 7 с центрами в точках  $O_1$  и  $O_2$  касаются некоторой прямой в точках  $M_1$  и  $M_2$  соответственно и лежат по одну сторону от этой прямой. Отношение отрезков  $M_1M_2$  и  $O_1O_2$  равно  $\frac{2\sqrt{5}}{5}$ . Найдите  $M_1M_2$ .

**8.18.** В прямоугольном треугольнике  $ABC$  катет  $AC$  равен 16 и катет  $BC$  равен 12. Из центра  $B$  радиусом  $BC$  описана окружность и к ней проведена касательная, параллельная гипотенузе. Катет  $BC$  продолжен до пересечения с проведённой касательной. Определите, на какое расстояние продолжен катет.

**8.19.** В прямоугольной трапеции меньшее основание равно высоте, а большее основание равно  $a$ . Найдите боковые стороны трапеции, если известно, что одна из них касается окружности, проходящей через концы меньшего основания и касающейся большего основания.

**8.20.** В треугольнике  $ABC$  известно, что  $BC = a$ ,  $\angle A = \alpha$ ,  $\angle B = \beta$ . Найдите радиус окружности, касающейся стороны  $AC$  в точке  $A$  и касающейся стороны  $BC$ .

**8.21.** Дан треугольник со сторонами 10, 24 и 26. Две меньшие стороны являются касательными к окружности, центр которой лежит на большей стороне. Найдите радиус окружности.

**8.22.** Найдите длину хорды, если дан радиус  $r$  окружности и расстояние  $a$  от одного конца хорды до касательной, проведённой через другой её конец.

**8.23.** Один из смежных углов с вершиной  $A$  вдвое больше другого. В эти углы вписаны окружности с центрами  $O_1$  и  $O_2$ . Найдите углы треугольника  $O_1AO_2$ , если отношение радиусов окружностей равно  $\sqrt{3}$ .

**8.24.** В равнобедренной трапеции с острым углом  $\alpha$  при основании окружность, построенная на боковой стороне как на диаметре, касается другой боковой стороны. В каком отношении она делит большее основание трапеции?

**8.25.** В окружности радиуса  $R = 4$  проведены хорда  $AB$  и диаметр  $AK$ , образующий с хордой угол  $\frac{\pi}{8}$ . В точке  $B$  проведена касательная к окружности, пересекающая продолжение диаметра  $AK$  в точке  $C$ . Найдите медиану  $AM$  треугольника  $ABC$ .

**У к а з а н и е.** Если  $O$  — центр окружности, то прямоугольный треугольник  $OBC$  — равнобедренный.

**8.26.** На прямой, проходящей через центр  $O$  окружности радиуса 12, взяты точки  $A$  и  $B$ , причём  $OA = 15$ ,  $AB = 5$  и точка  $A$  лежит между  $O$  и  $B$ . Из точек  $A$  и  $B$  проведены касательные к окружности, точки касания которых лежат по одну сторону от прямой  $OB$ . Найдите площадь треугольника  $ABC$ , где  $C$  — точка пересечения этих касательных.

**8.27.** В угол с вершиной  $A$ , равный  $60^\circ$ , вписана окружность с центром  $O$ . К этой окружности проведена касательная, пересекающая стороны угла в точках  $B$  и  $C$ . Отрезок  $BC$  пересекается с отрезком  $AO$  в точке  $M$ . Найдите радиус окружности, вписанной в треугольник  $ABC$ , если  $AM : MO = 2 : 3$  и  $BC = 7$ .

**У к а з а н и е.** Если данная окружность касается прямых  $BC$  и  $AB$  в точках  $P$  и  $Q$  соответственно, а  $AH$  — высота треугольника  $ABC$ , то  $\frac{AH}{OP} = \frac{AM}{OM} = \frac{2}{3}$ , а полупериметр треугольника  $ABC$  равен отрезку  $AQ$ .

**8.28.** Через точку  $A$  окружности радиуса 10 проведены две взаимно перпендикулярные хорды  $AB$  и  $AC$ . Вычислите радиус окружности, касающейся данной окружности и построенных хорд, если  $AB = 16$ .

**У к а з а н и е.** Опустите перпендикуляры из центров окружностей на хорду  $AB$ .

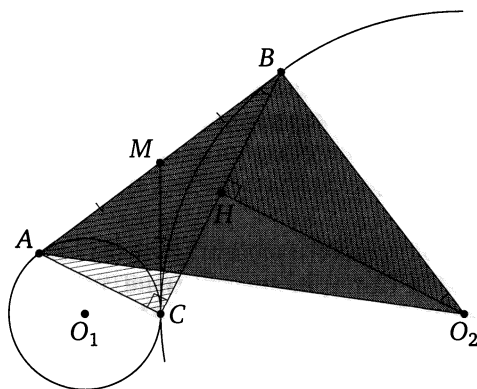
## § 9. Касающиеся окружности.

### Решение задачи 9 из диагностической работы

9. Окружности с центрами  $O_1$  и  $O_2$  касаются внешним образом в точке  $C$ . Прямая касается этих окружностей в различных точках  $A$  и  $B$  соответственно. Найдите угол  $AO_2B$ , если известно, что  $\operatorname{tg} \angle ABC = \frac{1}{2}$ .

Ответ:  $45^\circ$ .

Решение. Пусть  $M$  — точка пересечения отрезка  $AB$  с общей касательной к данным окружностям, проведённой через их точку касания  $C$ . Тогда  $MA = MC = MB$ , значит,  $\angle ACB = 90^\circ$ .



Опустим перпендикуляр  $O_2H$  из центра  $O_2$  второй окружности на её хорду  $BC$ . Тогда  $H$  — середина  $BC$ . Из условия задачи следует, что  $AC = \frac{1}{2}BC = BH$ , а т. к.  $\angle BO_2H = 90^\circ - \angle O_2BH = \angle ABC$ , то прямоугольные треугольники  $BO_2H$  и  $ABC$  равны по катету и противолежащему острому углу. Значит,  $O_2B = AB$ . Следовательно,  $\angle AO_2B = \angle BAO_2 = 45^\circ$ .  $\triangleleft$

\* \* \*


В разных учебниках приводятся разные формулировки определения касающихся окружностей:

1) говорят, что две окружности касаются, если они имеют единственную общую точку;

2) говорят, что две различные окружности касаются, если они имеют общую точку и общую касательную, проведённую в этой точке.



Эти определения равносильны: если окружности касаются по первому определению, то они касаются и по второму, и наоборот.



Говорят, что окружности касаются внешним образом (касаются извне), если их центры лежат по разные стороны от общей касательной. Если же центры касающихся окружностей лежат по одну сторону от общей касательной, то говорят, что окружности касаются внутренним образом (касаются изнутри).

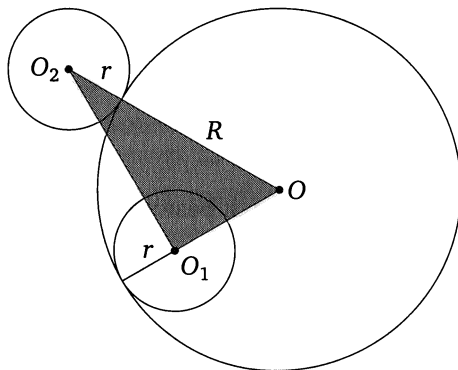
Самое важное свойство касающихся окружностей — линия их центров (т. е. прямая, проведённая через центры окружностей) проходит через точку касания. Этот факт при решении задач на касающиеся окружности, как правило, используется в первую очередь.

Если в условии задачи не указано, каким образом касаются окружности, то необходимо рассматривать и случай внешнего, и случай внутреннего касания.

**Пример 1.** Две окружности радиуса  $r$  касаются большей окружности радиуса  $R$  — одна изнутри, другая извне, причём градусная мера дуги между точками касания равна  $60^\circ$ . Найдите расстояние между центрами меньших окружностей.

*Ответ:*  $\sqrt{R^2 + 3r^2}$ .

**Решение.** Пусть окружности радиуса  $r$  с центрами  $O_1$  и  $O_2$  касаются окружности радиуса  $R$  с центром  $O$  соответственно внутренним



и внешним образом, причём  $r < R$ . Поскольку линия центров двух касающихся окружностей проходит через точку их касания,  $OO_1 = R - r$  и  $OO_2 = R + r$ . Кроме того,  $\angle O_1OO_2 = 60^\circ$ . По теореме косинусов из треугольника  $O_1OO_2$  находим, что

$$\begin{aligned} O_1O_2^2 &= (R+r)^2 + (R-r)^2 - 2(R+r)(R-r)\cos 60^\circ = \\ &= (R+r)^2 + (R-r)^2 - (R^2 - r^2) = R^2 + 3r^2. \end{aligned}$$

Следовательно,  $O_1O_2 = \sqrt{R^2 + 3r^2}$ . ◁

**Пример 2.** Окружности различных радиусов  $r$  и  $R$  с центрами  $O_1$  и  $O_2$  соответственно касаются внешним образом в точке  $K$ . Прямая касается этих окружностей в различных точках  $A$  и  $B$ , а вторая прямая — в точках  $D$  и  $C$  соответственно.

1) Найдите  $AB$  и отрезок  $MN$  общей касательной окружностей, проходящей через точку их касания, заключённый между общими внешними касательными  $AB$  и  $CD$ .

2) Докажите, что  $\angle AKB = \angle O_1MO_2 = 90^\circ$ .

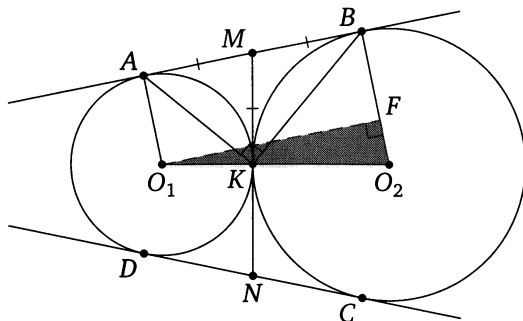
3) Докажите, что  $ABCD$  — описанная трапеция, и найдите её высоту.

Ответ: 1)  $2\sqrt{rR}$ ; 3)  $\frac{4rR}{r+R}$ .

**Решение.** Для определённости предположим, что  $r < R$ .

1) Точка  $K$  лежит на отрезке  $O_1O_2$ , поскольку окружности касаются внешним образом. Поэтому  $O_1O_2 = O_1K + KO_2 = r + R$ . Из точки  $O_1$  опустим перпендикуляр  $O_1F$  на радиус  $O_2B$  второй окружности. Тогда, так как  $O_2B \perp AB$  (как радиус, проведённый в точку касания с прямой  $AB$ ),  $O_1F \parallel AB$ . Кроме того, прямые  $O_1A$  и  $O_2B$  параллельны, так как обе они перпендикулярны касательной  $AB$ . Следовательно, четырёхугольник  $O_1ABF$  — прямоугольник. Точка  $F$  лежит на отрезке  $O_2B$ , поэтому

$$O_2F = O_2B - BF = O_2B - O_1A = R - r.$$



По теореме Пифагора из прямоугольного треугольника  $O_1FO_2$  находим, что

$$O_1F = \sqrt{O_1O_2^2 - O_2F^2} = \sqrt{(r+R)^2 - (R-r)^2} = 2\sqrt{rR}.$$

Следовательно,  $AB = O_1F = 2\sqrt{rR}$ .

Отрезки касательных, проведённых к окружности из одной точки, равны, поэтому  $MK = MB$  и  $MK = MA$ . Значит,

$$NM = 2MK = AB = 2\sqrt{rR}.$$

2) Поскольку  $MO_1$  и  $MO_2$  — биссектрисы смежных углов  $AMK$  и  $BMK$ , угол  $O_1MO_2$  прямой.

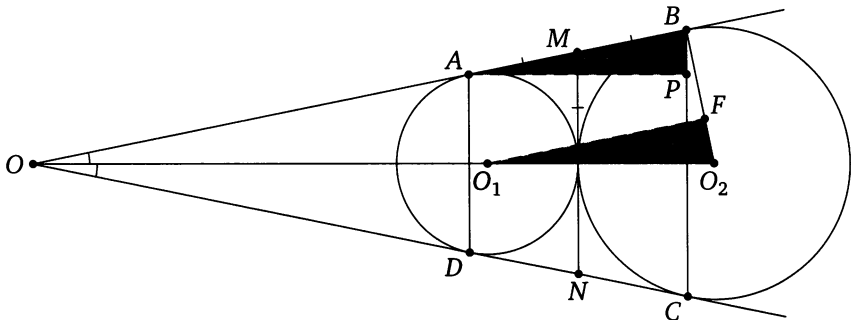
Поскольку  $MA = MK = MB$ , медиана  $KM$  треугольника  $AKB$  равна половине стороны  $AB$ . Следовательно,  $\angle AKB = 90^\circ$ .

3) Пусть прямые  $AB$  и  $CD$  пересекаются в точке  $O$ . Тогда  $OA = OD$ ,  $OB = OC$ , поэтому  $CD = AB = 2\sqrt{rR}$ .

Точки  $O_1$  и  $O_2$  лежат на биссектрисе угла  $AOD$ . Биссектриса равнобедренного треугольника  $AOD$  является его высотой, поэтому  $AD \perp O_1O_2$  и  $BC \perp O_1O_2$ , значит,  $AD \parallel BC$  и  $ABCD$  — равнобедренная трапеция. Отрезок  $MN$  — её средняя линия, поэтому

$$AD + BC = 2MN = 2AB = AB + CD.$$

Следовательно, в трапецию  $ABCD$  можно вписать окружность.



Пусть  $AP$  — высота этой трапеции. Прямоугольные треугольники  $APB$  и  $O_1FO_2$  подобны, поэтому  $\frac{AP}{O_1F} = \frac{AB}{O_1O_2}$ , откуда находим, что

$$AP = \frac{O_1F \cdot AB}{O_1O_2} = \frac{2\sqrt{rR} \cdot 2\sqrt{rR}}{r+R} = \frac{4rR}{r+R}. \quad \triangleleft$$

## Подготовительные задачи

9.1. Три равных окружности радиуса  $R$  касаются друг друга внешним образом. Найдите стороны и углы треугольника, вершинами которого служат точки касания.

9.2. Две равных окружности касаются изнутри третьей и касаются между собой. Соединив три центра, получим треугольник с периметром, равным 18. Найдите радиус большей окружности.

9.3. Три окружности радиусов 6, 7 и 8 попарно касаются друг друга внешним образом. Найдите площадь треугольника с вершинами в центрах этих окружностей.

9.4. Окружности радиусов 8 и 3 касаются внутренним образом. Из центра большей окружности проведена касательная к меньшей окружности. Найдите расстояние от точки касания до центра большей окружности.

9.5. Две окружности радиуса  $r$  касаются друг друга. Кроме того, каждая из них касается извне третьей окружности радиуса  $R$  в точках  $A$  и  $B$  соответственно. Найдите радиус  $r$ , если  $AB = 12$ ,  $R = 8$ .

9.6. Две окружности радиуса  $r$  касаются друг друга. Кроме того, каждая из них касается изнутри третьей окружности радиуса  $R$  в точках  $A$  и  $B$  соответственно. Найдите радиус  $R$ , если  $AB = 11$ ,  $r = 5$ .

9.7. Дана окружность радиуса  $R$ . Четыре окружности равных радиусов касаются данной внешним образом, и каждая из этих четырёх окружностей касается двух других. Найдите радиусы этих четырёх окружностей.

9.8. Три окружности разных радиусов попарно касаются друг друга внешним образом. Отрезки, соединяющие их центры, образуют прямоугольный треугольник. Найдите радиус меньшей окружности, если радиусы большей и средней равны 6 и 4.

9.9. На прямой, проходящей через центр  $O$  окружности радиуса  $R$ , взята точка  $A$  на расстоянии  $a$  от центра. Найдите радиус второй окружности, которая касается прямой  $OA$  в точке  $A$ , а также касается данной окружности.

9.10. Даны окружности радиусов 1 и 3 с общим центром  $O$ . Третья окружность касается их обеих. Найдите угол между касательными к третьей окружности, проведёнными из точки  $O$ .

9.11. В угол, равный  $60^\circ$ , вписаны две окружности, касающиеся друг друга внешним образом. Радиус меньшей окружности равен  $r$ . Найдите радиус большей окружности.

**9.12.** Две окружности касаются друг друга внутренним образом. Известно, что два радиуса большей окружности, угол между которыми равен  $60^\circ$ , касаются меньшей окружности. Найдите отношение радиусов окружностей.

**9.13.** В равносторонний треугольник вписана окружность. Этой окружности и двух сторон треугольника касается меньшая окружность. Найдите сторону треугольника, если радиус малой окружности равен  $r$ .

**9.14.** В круговой сектор с центральным углом  $120^\circ$  вписана окружность. Найдите её радиус, если радиус данной окружности равен  $R$ .

**9.15.** Две окружности касаются внешним образом в точке  $K$ . Одна прямая касается этих окружностей в различных точках  $A$  и  $B$ , а вторая — соответственно в различных точках  $C$  и  $D$ . Общая касательная к окружностям, проходящая через точку  $K$ , пересекается с этими прямыми в точках  $M$  и  $N$ . Найдите  $MN$ , если  $AC = a$ ,  $BD = b$ .

### Тренировочные задачи

**9.16.** Окружность радиуса 2 касается внешним образом другой окружности в точке  $A$ . Общая касательная к обеим окружностям, проведённая через точку  $A$ , пересекается с другой их общей касательной в точке  $B$ . Найдите радиус второй окружности, если  $AB = 4$ .

**9.17.** Две окружности касаются друг друга внешним образом в точке  $C$ . Радиусы окружностей равны 2 и 7. Общая касательная к обеим окружностям, проведённая через точку  $C$ , пересекается с другой их общей касательной в точке  $D$ . Найдите расстояние от центра меньшей окружности до точки  $D$ .

**9.18.** Окружность радиуса  $r$  касается некоторой прямой в точке  $M$ . На этой прямой по разные стороны от  $M$  взяты точки  $A$  и  $B$ , причём  $MA = MB = a$ . Найдите радиус окружности, проходящей через точки  $A$  и  $B$  и касающейся данной окружности.

**9.19.** Одна окружность описана около равностороннего треугольника  $ABC$ , а вторая вписана в угол  $A$  и касается первой окружности. Найдите отношение радиусов окружностей.

**9.20.** В окружность вписан равнобедренный треугольник с основанием  $a$  и углом при основании  $\alpha$ . Кроме того, построена вторая окружность, касающаяся первой окружности и основания треугольника, причём точка касания является серединой основания. Найдите радиус второй окружности.

**9.21.** Две окружности с центрами  $O_1$ ,  $O_2$  и радиусами 32, пересекаясь, делят отрезок  $O_1O_2$  на три равные части. Найдите радиус окружности, которая касается изнутри обеих окружностей и касается отрезка  $O_1O_2$ .

**9.22.** Две окружности радиусов  $R$  и  $r$  касаются сторон данного угла и друг друга. Найдите радиус третьей окружности, касающейся сторон того же угла, центр которой находится в точке касания окружностей между собой.

**9.23.** В треугольнике  $ABC$  сторона  $BC$  равна  $a$ , радиус вписанной окружности равен  $r$ . Найдите радиусы двух равных окружностей, касающихся друг друга, если одна из них касается сторон  $BC$  и  $BA$ , а другая — сторон  $BC$  и  $CA$ .

**9.24.** Две окружности радиусов 5 и 3 касаются внутренним образом. Хорда большей окружности касается меньшей окружности и делится точкой касания в отношении 3 : 1. Найдите длину этой хорды.

**9.25.** Две окружности, радиусы которых относятся как  $9 - 4\sqrt{3}$  к 1, касаются друг друга внутренним образом. В большей окружности проведены две равные хорды, касающиеся меньшей окружности. Одна из этих хорд перпендикулярна отрезку, соединяющему центры окружностей, а другая нет. Найдите угол между этими хордами.

**9.26.** Две окружности касаются внутренним образом. Прямая, проходящая через центр большей окружности, пересекает её в точках  $A$  и  $D$ , а меньшую окружность — в точках  $B$  и  $C$ . Найдите отношение радиусов окружностей, если  $AB : BC : CD = 3 : 7 : 2$ .

**9.27.** Две окружности касаются внутренним образом. Прямая, проходящая через центр меньшей окружности, пересекает большую окружность в точках  $A$  и  $D$ , а меньшую — в точках  $B$  и  $C$ . Найдите отношение радиусов окружностей, если  $AB : BC : CD = 2 : 4 : 3$ .

**9.28.** Две окружности радиусов  $R$  и  $r$  ( $R > r$ ) касаются внешне в точке  $C$ . К ним проведена общая внешняя касательная  $AB$ , где  $A$  и  $B$  — точки касания. Найдите стороны треугольника  $ABC$ .

**9.29.** Две окружности радиусов  $R$  и  $r$  ( $R > r$ ) касаются внешним образом. Прямая касается этих окружностей в различных точках  $A$  и  $B$ . Найдите радиус окружности, касающейся обеих данных окружностей и прямой  $AB$ .

**9.30.** Две окружности касаются внешним образом в точке  $C$ . Общая внешняя касательная касается первой окружности в точке  $A$ , а второй — в точке  $B$ . Прямая  $AC$  пересекает вторую окружность в точке  $D$ , отличной от  $C$ . Найдите  $BC$ , если  $AC = 9$ ,  $CD = 4$ .

**9.31.** Две окружности касаются друг друга внешним образом в точке  $A$ . Найдите радиусы окружностей, если хорды, соединяющие точку  $A$  с точками касания с одной из общих внешних касательных, равны  $6$  и  $8$ .

**9.32.** Три окружности радиусов  $1$ ,  $2$  и  $3$  касаются друг друга внешним образом. Найдите радиус окружности, проходящей через точки касания этих окружностей.

**9.33.** Две окружности радиусов  $5$  и  $4$  касаются внешним образом. Прямая, касающаяся меньшей окружности в точке  $A$ , пересекает большую в точках  $B$  и  $C$ , причём  $AB = BC$ . Найдите  $AC$ .

**9.34.** Точка  $B$  — середина отрезка  $AC$ , причём  $AC = 6$ . Проведены три окружности радиуса  $1$  с центрами  $A$ ,  $B$  и  $C$ . Найдите радиус четвёртой окружности, касающейся всех трёх данных.

**9.35.** Точка  $B$  — середина отрезка  $AC$ , причём  $AC = 6$ . Проведены три окружности радиуса  $5$  с центрами  $A$ ,  $B$  и  $C$ . Найдите радиус четвёртой окружности, касающейся всех трёх данных.

**9.36.** Дана окружность с центром в точке  $O$  и радиусом  $2$ . Из конца отрезка  $OA$ , пересекающего с окружностью в точке  $M$ , проведена касательная  $AK$  к окружности,  $\angle OAK = 60^\circ$ . Найдите радиус окружности, вписанной в угол  $OAK$  и касающейся данной окружности внешним образом.

**9.37.** В круге с центром  $O$  хорда  $AB$  пересекает радиус  $OC$  в точке  $D$ , причём  $\angle CDA = 120^\circ$ . Найдите радиус окружности, вписанной в угол  $ADC$  и касающейся дуги  $AC$ , если  $OC = 2$ ,  $OD = \sqrt{3}$ .

**9.38.** Окружности радиусов  $r$  и  $R$  касаются друг друга внутренним образом. Найдите сторону равностороннего треугольника, у которого одна вершина находится в точке касания данных окружностей, а две другие лежат на разных данных окружностях.

**9.39.** Радиусы окружностей  $S_1$  и  $S_2$ , касающихся в точке  $A$ , равны  $R$  и  $r$  соответственно ( $R > r$ ). Прямая, проходящая через точку  $B$ , лежащую на окружности  $S_1$ , касается окружности  $S_2$  в точке  $C$ . Найдите  $BC$ , если  $AB = a$ .

**9.40.** Отношение радиусов окружностей  $S_1$  и  $S_2$ , касающихся в точке  $B$ , равно  $k$  ( $k > 1$ ). Из точки  $A$ , лежащей на окружности  $S_1$ , проведена прямая, касающаяся окружности  $S_2$  в точке  $C$ . Найдите  $AC$ , если известно, что хорда, высекаемая окружностью  $S_2$  на прямой  $AB$ , равна  $b$ .

**9.41.** Окружность радиуса  $1$  касается окружности радиуса  $3$  в точке  $C$ . Прямая, проходящая через точку  $C$ , пересекает окружность

меньшего радиуса в точке  $A$ , а большего радиуса — в точке  $B$ . Найдите  $AC$ , если  $AB = 2\sqrt{5}$ .

**9.42.** Окружность радиуса 2 касается окружности радиуса 4 в точке  $B$ . Прямая, проходящая через точку  $B$ , пересекает окружность меньшего радиуса в точке  $A$ , а большего радиуса — в точке  $C$ . Найдите  $BC$ , если  $AC = 3\sqrt{2}$ .

**9.43.** В угол вписано несколько окружностей, радиусы которых возрастают. Каждая следующая окружность касается предыдущей окружности. Найдите сумму длин второй и третьей окружностей, если радиус первой равен 1, а площадь круга, ограниченного четвёртой окружностью, равна  $64\pi$ .

**9.44.** На отрезке  $AB$ , равном  $2R$ , как на диаметре построена окружность. Вторая окружность того же радиуса, что и первая, имеет центр в точке  $A$ . Третья окружность касается первой окружности внутренним образом, второй окружности — внешним образом, а также касается отрезка  $AB$ . Найдите радиус третьей окружности.

**9.45.** Дан выпуклый четырёхугольник  $ABCD$  и две равные касающиеся окружности радиуса  $r$ , причём одна из них касается сторон  $AB$ ,  $AD$  и  $CD$ , а вторая — сторон  $AB$ ,  $BC$  и  $CD$ . Точки  $F$  и  $E$  — середины противоположных сторон  $CD$  и  $AB$  соответственно. Центр первой окружности находится на отрезке  $AF$ , а центр второй — на отрезке  $CE$ . Найдите диагональ  $AC$ .

**9.46.** В прямоугольном секторе  $AOB$  из точки  $B$  как из центра проведена дуга  $OC$  ( $C$  — точка пересечения этой дуги с дугой  $AB$ ) радиуса  $BO$ . Окружность  $S_1$  касается дуги  $AB$ , дуги  $OC$  и прямой  $OA$ , причём точки касания различны, а окружность  $S_2$  касается дуги  $AB$ , прямой  $OA$  и окружности  $S_1$  (точки касания также попарно различны). Найдите отношение радиуса окружности  $S_1$  к радиусу окружности  $S_2$ .

**9.47\*** На отрезке  $AC$  взята точка  $B$  и на отрезках  $AB$ ,  $BC$ ,  $CA$  как на диаметрах построены полуокружности  $S_1$ ,  $S_2$ ,  $S_3$  по одну сторону от  $AC$ . Найдите радиус окружности, касающейся всех трёх полуокружностей, если известно, что её центр удален от прямой  $AC$  на расстояние  $a$ .

У к а з а н и е. Примените формулу Герона.

**9.48\*** Две окружности радиусов  $r$  и  $R$  ( $r < R$ ) касаются друг друга внешним образом. Прямая касается этих окружностей в точках  $M$  и  $N$ . В точках  $A$  и  $B$  окружности касаются внешним образом третьей окружности. Прямые  $AB$  и  $MN$  пересекаются в точке  $C$ . Из точки  $C$



проведена касательная к третьей окружности ( $D$  — точка касания).  
Найдите  $CD$ .

**У к а з а н и е.** Точка пересечения прямых  $AB$  и  $MN$  лежит на прямой, проходящей через центры первых двух окружностей.

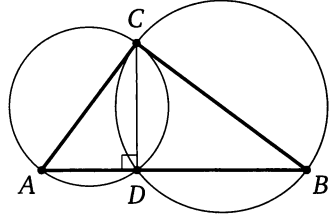
## § 10. Пересекающиеся окружности.

### Решение задачи 10 из диагностической работы

10. На катетах прямоугольного треугольника как на диаметрах построены окружности. Найдите их общую хорду, если катеты равны 3 и 4.

Ответ:  $\frac{12}{5}$ .

Решение. Пусть  $CD$  — общая хорда окружностей, построенных на катетах  $AC = 3$  и  $BC = 4$  прямоугольного треугольника  $ABC$  как на диаметрах. Тогда  $\angle ADC = \angle BDC = 90^\circ$  как вписанные углы, опирающиеся на диаметр. Значит, точка  $D$  лежит на гипотенузе  $AB$ , а  $CD$  — высота прямоугольного треугольника  $ABC$ , проведённая из вершины прямого угла.



По теореме Пифагора  $AB = \sqrt{9 + 16} = 5$ , а поскольку

$$S_{\triangle ABC} = \frac{1}{2}AC \cdot BC \quad \text{и} \quad S_{\triangle ABC} = \frac{1}{2}AB \cdot CD,$$

получаем  $\frac{1}{2}AC \cdot BC = \frac{1}{2}AB \cdot CD$ , откуда находим, что

$$CD = \frac{AC \cdot BC}{AB} = \frac{3 \cdot 4}{5} = \frac{12}{5}.$$

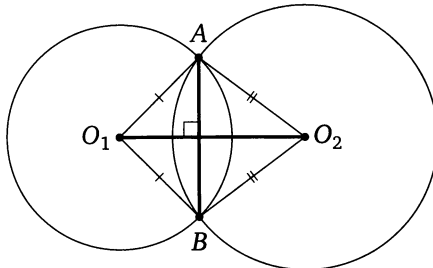
◁

\*\*\*

Докажем важнейшее свойство пересекающихся окружностей.

**Утверждение.** *Линия центров пересекающихся окружностей перпендикулярна их общей хорде и делит её пополам.*

**Доказательство.** Пусть  $AB$  — общая хорда пересекающихся окружностей с центрами  $O_1$  и  $O_2$ . Точки  $O_1$  и  $O_2$  равноудалены от



концов отрезка  $AB$ , поэтому  $O_1O_2$  — серединный перпендикуляр к отрезку  $AB$ . Что и требовалось доказать.  $\square$

**Пример 1.** Радиусы двух пересекающихся окружностей равны 13 и 15, а общая хорда равна 24. Найдите расстояние между центрами.

*Ответ:* 14 или 4.

**Решение.** Пусть окружность радиуса 13 с центром  $O_1$  и окружность радиуса 15 с центром  $O_2$  пересекаются в точках  $A$  и  $B$ . Тогда  $O_1O_2 \perp AB$  и прямая  $O_1O_2$  проходит через середину  $M$  отрезка  $AB$ .

Из прямоугольных треугольников  $AMO_1$  и  $AMO_2$  по теореме Пифагора находим, что

$$MO_1 = \sqrt{13^2 - 12^2} = 5, \quad MO_2 = \sqrt{15^2 - 12^2} = 9.$$

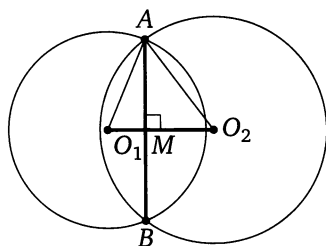


Рис. 1

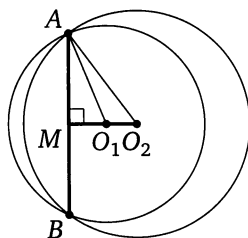


Рис. 2

Если точки  $O_1$  и  $O_2$  лежат по разные стороны от прямой  $AB$  (рис. 1), то

$$O_1O_2 = MO_1 + MO_2 = 5 + 9 = 14.$$

Если же точки  $O_1$  и  $O_2$  лежат по одну сторону от прямой  $AB$  (рис. 2), то

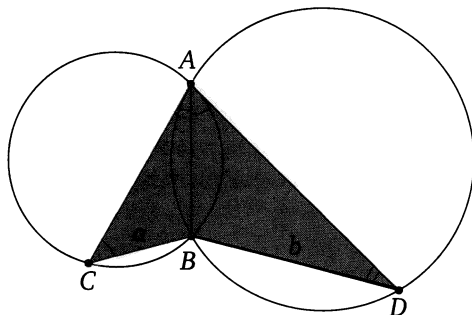
$$O_1O_2 = MO_2 - MO_1 = 9 - 5 = 4. \quad \triangleleft$$

**Пример 2.** Две окружности пересекаются в точках  $A$  и  $B$ . В каждой из этих окружностей проведены хорды  $AC$  и  $AD$ , причём хорда одной окружности касается другой окружности. Найдите  $AB$ , если  $CB = a$ ,  $DB = b$ .

*Ответ:*  $\sqrt{ab}$ .

**Решение.** Из теоремы об угле между касательной и хордой следует, что

$$\angle BAC = \angle BDA, \quad \angle BAD = \angle BCA,$$



поэтому треугольники  $ABC$  и  $DBA$  подобны по двум углам. Следовательно,

$$\frac{AB}{BD} = \frac{BC}{AB},$$

откуда находим, что

$$AB^2 = BC \cdot BD = ab, \quad AB = \sqrt{ab}. \quad \triangleleft$$

## Подготовительные задачи

**10.1.** Прямая, проходящая через общую точку  $A$  двух окружностей, пересекает вторично эти окружности в точках  $B$  и  $C$  соответственно. Расстояние между проекциями центров окружностей на эту прямую равно 12. Найдите  $BC$ , если известно, что точка  $A$  лежит на отрезке  $BC$ .

**10.2.** Окружности с центрами  $O_1$  и  $O_2$  пересекаются в точках  $A$  и  $B$ . Известно, что  $\angle AO_1B = 90^\circ$ ,  $\angle AO_2B = 60^\circ$ ,  $O_1O_2 = a$ . Найдите радиусы окружностей.

**10.3.** Отрезок, соединяющий центры двух пересекающихся окружностей, делится их общей хордой на отрезки, равные 5 и 2. Найдите общую хорду, если известно, что радиус одной окружности вдвое больше радиуса другой.

**10.4.** Через вершину  $A$  остроугольного треугольника  $ABC$  проведена прямая, параллельная стороне  $BC$ , равной  $a$ , и пересекающая окружности, построенные на сторонах  $AB$  и  $AC$  как на диаметрах, в точках  $M$  и  $N$ , отличных от  $A$ . Найдите  $MN$ .

**10.5.** Две окружности пересекаются в точках  $A$  и  $B$ . Через точку  $A$  проведены диаметры  $AC$  и  $AD$  этих окружностей. Найдите расстояние между центрами окружностей, если  $BC = a$  и  $BD = b$ .

**10.6.** В треугольнике  $ABC$  на наибольшей стороне  $BC$ , равной  $b$ , выбирается точка  $M$ . Найдите наименьшее расстояние между центрами окружностей, описанных около треугольников  $BAM$  и  $ACM$ .

## Тренировочные задачи

**10.7.** Две окружности радиусов 3 и 4, расстояние между центрами которых равно 5, пересекаются в точках  $A$  и  $B$ . Через точку  $B$  проведена прямая, пересекающая окружности в точках  $C$  и  $D$ , причём  $CD = 8$  и точка  $B$  лежит между точками  $C$  и  $D$ . Найдите площадь треугольника  $ACD$ .

**10.8.** Дан ромб  $ABCD$ . Радиусы окружностей, описанных около треугольников  $ABC$  и  $BCD$ , равны 1 и 2. Найдите расстояние между центрами этих окружностей.

**10.9.** Две окружности радиусов  $\sqrt{5}$  и  $\sqrt{2}$  пересекаются в точке  $A$ . Расстояние между центрами окружностей равно 3. Через точку  $A$  проведена прямая, пересекающая окружности в точках  $B$  и  $C$  так, что  $AB = AC$  (точка  $B$  не совпадает с  $C$ ). Найдите  $AB$ .

**10.10.** Первая из двух окружностей проходит через центр второй и пересекает её в точках  $A$  и  $B$ . Касательная к первой окружности, проходящая через точку  $A$ , делит вторую окружность на дуги, градусные меры которых относятся как  $m : n$  ( $m < n$ ). В каком отношении вторая окружность делит первую?

**10.11.** Через общую точку  $C$  двух равных окружностей проведены две прямые, пересекающие данные окружности в точках  $A$ ,  $B$  и  $M$ ,  $N$  соответственно. Прямая  $AB$  параллельна линии центров, а прямая  $MN$  образует угол  $\alpha$  с линией центров. Известно, что  $AB = a$ . Найдите  $MN$ .

**10.12.** В параллелограмме  $ABCD$  известны стороны  $AB = a$ ,  $BC = b$  и угол  $\angle BAD = \alpha$ . Найдите расстояние между центрами окружностей, описанных около треугольников  $BCD$  и  $DAB$ .

**10.13.** Две окружности пересекаются в точках  $A$  и  $K$ . Их центры расположены по разные стороны от прямой, содержащей отрезок  $AK$ . Точки  $B$  и  $C$  лежат на разных окружностях. Прямая, содержащая отрезок  $AB$ , касается одной окружности в точке  $A$ . Прямая, содержащая отрезок  $AC$ , касается другой окружности также в точке  $A$ . Длина отрезка  $BK$  равна 1, длина отрезка  $CK$  равна 4, а тангенс угла  $CAB$  равен  $\frac{1}{\sqrt{15}}$ . Найдите площадь треугольника  $ABC$ .

## § 11. Окружности, связанные с треугольником и четырёхугольником.

### Решение задачи 11 из диагностической работы

11. Найдите радиусы вписанной и описанной окружностей треугольника со сторонами 13, 13, 24 и расстояние между центрами этих окружностей.

Ответ: 16,9; 2,4; 14,3.

Решение. Пусть  $CD$  — высота равнобедренного треугольника  $ABC$  со сторонами  $AC = BC = 13$  и  $AB = 24$ ,  $O$  — центр его описанной окружности радиуса  $R$ ,  $Q$  — центр вписанной окружности радиуса  $r$ . Из прямоугольного треугольника  $ACD$  находим, что

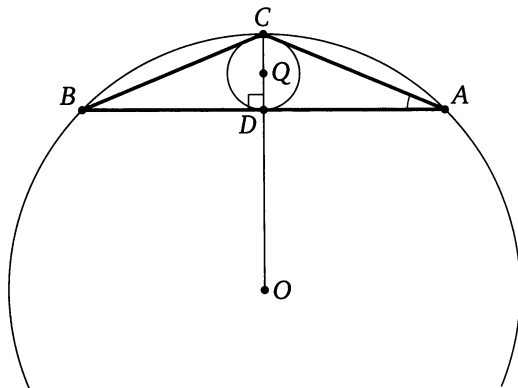
$$CD = \sqrt{AC^2 - AD^2} = \sqrt{13^2 - 12^2} = 5, \quad \sin \angle CAD = \frac{CD}{AC} = \frac{5}{13}.$$

По теореме синусов

$$R = \frac{BC}{2 \sin \angle BAC} = \frac{13}{2 \cdot \frac{5}{13}} = 16,9.$$

Радиус окружности, вписанной в треугольник, равен площади треугольника, делённой на его полупериметр, поэтому

$$r = \frac{S_{\triangle ABC}}{AC + AD} = \frac{AD \cdot CD}{AC + AD} = \frac{12 \cdot 5}{13 + 12} = 2,4.$$



Заметим, что угол  $CAD$  меньше  $45^\circ$ , так как его тангенс меньше 1 ( $\operatorname{tg} \angle CAD = \frac{CD}{AD} = \frac{5}{12} < 1$ ), значит, угол  $BCA$  тупой, поэтому точки  $O$  и  $Q$

лежат по разные стороны от прямой  $AB$ . Следовательно,

$$\begin{aligned} OQ &= OC - CQ = OC - (CD - QD) = R - (CD - r) = \\ &= 16,9 - (5 - 2,4) = 14,3. \quad \triangleleft \end{aligned}$$

\* \* \*

В этом разделе мы рассмотрим методы нахождения радиусов описанной, вписанной и вневписанных окружностей треугольника, а также задачи, связанные с вписанными и описанными четырёхугольниками.

Известно, что около каждого треугольника можно описать окружность, и притом только одну. Центр описанной окружности треугольника — точка пересечения серединных перпендикуляров к его сторонам. Центр окружности, описанной около прямоугольного треугольника, — середина гипотенузы, центр окружности остроугольного треугольника расположен внутри треугольника, центр описанной окружности тупоугольного треугольника — вне треугольника. Во многих случаях радиус  $R$  описанной окружности треугольника удобно находить с помощью теоремы синусов:  $R = \frac{a}{2 \sin \alpha}$ , где  $a$  — сторона треугольника, а  $\alpha$  — угол, противолежащий этой стороне.

**Пример 1.** Найдите радиус окружности, описанной около треугольника со сторонами  $a$ ,  $b$  и  $b$ .

Ответ:  $\frac{b^2}{\sqrt{4b^2 - a^2}}$ .

**Решение.** *Первый способ.* Пусть  $D$  — середина основания  $BC$  равнобедренного треугольника  $ABC$  со сторонами  $AB = AC = b$  и  $BC = a$ . Из прямоугольного треугольника  $ADB$  находим, что

$$\cos \angle ABD = \frac{BD}{AB} = \frac{a}{2b}.$$

Тогда

$$\sin \angle ABC = \sin \angle ABD = \sqrt{1 - \cos^2 \angle ABD} = \sqrt{1 - \frac{a^2}{4b^2}}.$$

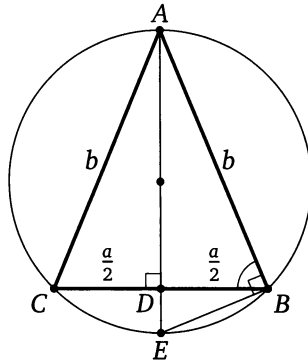
Следовательно, если  $R$  — радиус окружности, описанной около треугольника  $ABC$ , то

$$R = \frac{AC}{2 \sin \angle ABC} = \frac{b}{2 \sqrt{1 - \frac{a^2}{4b^2}}} = \frac{b^2}{\sqrt{4b^2 - a^2}}.$$



*Второй способ.* Продолжим высоту  $AD$  до пересечения с описанной окружностью треугольника  $ABC$  в точке  $E$ . Тогда  $AE$  — диаметр окружности,  $\angle ABE = 90^\circ$ , а  $BD$  — высота прямоугольного треугольника  $ABE$ , проведённая из вершины прямого угла, поэтому  $BD^2 = AD \cdot DE$ , или

$$\frac{a^2}{4} = \sqrt{b^2 - \frac{a^2}{4}} \left( 2R - \sqrt{b^2 - \frac{a^2}{4}} \right).$$



Из этого уравнения находим, что  $R = \frac{b^2}{\sqrt{4b^2 - a^2}}$ . ◁

**Пример 2.** Найдите радиус окружности, описанной около треугольника со сторонами 13, 14, 15.

*Ответ:*  $\frac{65}{8}$ .

*Решение.* Пусть  $\alpha$  — угол, противолежащий стороне, равной 15. Тогда из теоремы косинусов получаем

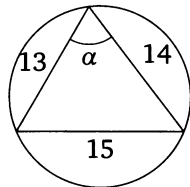
$$\cos \alpha = \frac{169 + 196 - 225}{2 \cdot 13 \cdot 14} = \frac{5}{13}.$$

Следовательно, если  $R$  — радиус окружности, описанной около данного треугольника, то

$$R = \frac{15}{2 \sin \alpha} = \frac{15}{2 \sqrt{1 - \left(\frac{5}{13}\right)^2}} = \frac{15}{2 \cdot \frac{12}{13}} = \frac{65}{8}. \quad \triangleleft$$

\* \* \*

Известно также, что в любой треугольник можно вписать окружность, и притом только одну. Биссектрисы треугольника пересекаются в одной точке. Эта точка равноудалена от сторон треугольника, поэтому она и есть центр вписанной окружности треугольника.



Биссектрисы двух внешних и третьего внутреннего углов треугольника также пересекаются в одной точке. Эта точка равноудалена от сторон этих углов, поэтому она — центр окружности, касающейся одной стороны треугольника и продолжений двух других его сторон, т. е. центр вневписанной окружности треугольника. У каждого треугольника есть три вневписанные окружности.

Докажем два важных факта, связанных с вписанной и вневписанной окружностями треугольника.

**Утверждение 1.** Если вписанная окружность касается стороны  $AB$  треугольника  $ABC$  в точке  $M$ , то  $AM = p - a$ , где  $p$  — полупериметр треугольника  $ABC$ , а  $a = BC$ .

**Доказательство.** Обозначим  $AC = b$ ,  $AB = c$ . Пусть  $K$  и  $L$  — точки касания вписанной окружности со сторонами  $AC$  и  $BC$  соответственно. Тогда

$$\begin{aligned} a = BC &= BL + LC = BM + CK = \\ &= (AB - AM) + (AC - AK) = \\ &= (c - AM) + (b - AM) = b + c - 2AM, \end{aligned}$$

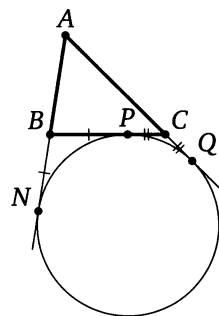
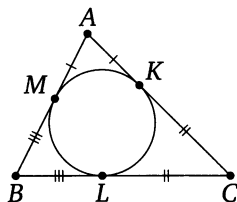
$$\text{откуда } AM = \frac{b+c-a}{2} = p - a. \quad \square$$

**Утверждение 2.** Если окружность касается стороны  $BC$  треугольника  $ABC$ , продолжения стороны  $AB$  в точке  $N$  и продолжения стороны  $AC$ , то  $AN = p$ , где  $p$  — полупериметр треугольника.

**Доказательство.** Обозначим  $BC = a$ ,  $AC = b$ ,  $AB = c$ . Пусть окружность касается стороны  $BC$  в точке  $P$ , а продолжения стороны  $AC$  — в точке  $Q$ . Тогда

$$\begin{aligned} 2p = AB + BC + AC &= AB + (BP + CP) + AC = \\ &= AB + (BN + CQ) + AC = \\ &= (AB + BN) + (CQ + AC) = AN + AQ = 2AN, \end{aligned}$$

$$\text{откуда } AN = p. \quad \square$$



\*\*\*

При вычислении радиусов вписанной и вневписанной окружностей полезны также следующие формулы для площади треугольника.

**Утверждение.** Если  $p$  — полупериметр треугольника,  $r$  — радиус его вписанной окружности, а  $r_a$  — радиус вневписанной окружности,

касающейся стороны, равной  $a$ , то

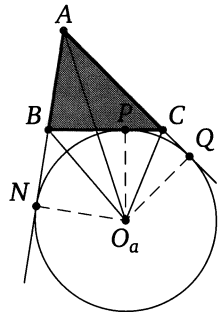
$$S = pr, \quad (1)$$

$$S = (p - a)r_a. \quad (2)$$

Доказательство формулы (1) излагается в учебнике. Докажем формулу (2).

**Доказательство.** Обозначим  $BC = a$ ,  $AC = b$ ,  $AB = c$ . Пусть  $O_a$  — центр вневписанной окружности треугольника  $ABC$ , касающейся стороны  $BC$ ,  $P$ ,  $N$  и  $Q$  — точки касания этой окружности со стороной  $BC$  и продолжениями сторон  $AB$  и  $AC$  соответственно. Тогда

$$\begin{aligned} S &= S_{\triangle ABC} = S_{\triangle AO_a B} + S_{\triangle AO_a C} - S_{\triangle BO_a C} = \\ &= \frac{1}{2} AB \cdot O_a N + \frac{1}{2} AC \cdot O_a Q - \frac{1}{2} BC \cdot O_a P = \\ &= \frac{1}{2} cr_a + \frac{1}{2} br_a - \frac{1}{2} ar_a = \\ &= \frac{c+b-a}{2} \cdot r_a = (p-a)r_a. \quad \square \end{aligned}$$



Рассмотрим на примерах несколько способов нахождения радиусов вписанных и вневписанных окружностей треугольника.

**Пример 3.** Стороны треугольника равны 10, 10, 12. Найдите радиусы вписанной и вневписанных окружностей.

*Ответ:* 3; 12; 8; 8.

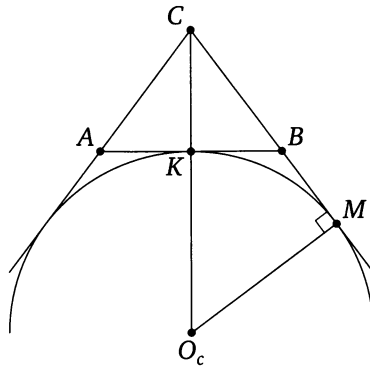
**Решение.** Пусть  $r$  — радиус вписанной окружности треугольника  $ABC$  ( $AC = BC = 10$ ,  $AB = 12$ ),  $r_c$ ,  $r_b$  и  $r_a$  — радиусы вневписанных окружностей, касающихся сторон  $AB$ ,  $AC$  и  $BC$  соответственно,  $O_c$ ,  $O_b$  и  $O_a$  — их центры,  $S$  — площадь треугольника  $ABC$ ,  $p$  — его полупериметр.

*Первый способ.* Воспользуемся известной формулой  $S = pr$ . Поскольку высота  $CK$  треугольника  $ABC$  равна 8, то  $S = 48$ . Следовательно,

$$r = \frac{S}{p} = \frac{48}{16} = 3.$$

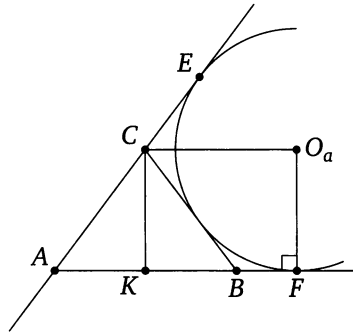
Если окружность с центром  $O_c$  касается продолжения стороны  $BC$  в точке  $M$ , то из подобия треугольников  $CMO_c$  и  $CKB$  находим, что

$$r_c = O_c M = BK \cdot \frac{CM}{CK} = BK \cdot \frac{BC + BM}{CK} = BK \cdot \frac{BC + BK}{CK} = 6 \cdot \frac{16}{8} = 12.$$



Пусть окружность с центром  $O_a$  касается продолжения стороны  $AB$  в точке  $F$ , а продолжения стороны  $AC$  — в точке  $E$ . Поскольку  $CO_a$  — биссектриса угла  $BCE$ , а  $CK$  — биссектриса его смежного угла  $ACB$ , то  $\angle O_aCK = 90^\circ$ . Поэтому  $O_aCKF$  — прямоугольник. Следовательно,

$$r_b = r_a = O_aF = CK = 8.$$



*Второй способ* (вычисление радиусов вневписанных окружностей). Применим формулу  $r_a = \frac{S}{p-a}$ . В нашем случае

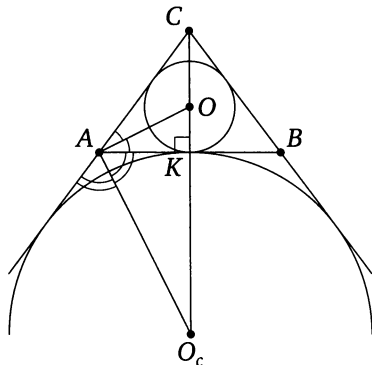
$$r_c = \frac{S}{p-c} = \frac{48}{16-12} = 12, \quad r_b = r_a = \frac{S}{p-a} = \frac{48}{16-10} = 8.$$

*Третий способ* (вычисление  $r$  и  $r_c$ ). Поскольку  $AO$  — биссектриса треугольника  $AKC$ , то

$$\frac{OK}{OC} = \frac{AK}{AC} = \frac{6}{10} = \frac{3}{5},$$

а так как  $OK = r$ , получаем

$$r = OK = \frac{3}{8}CK = \frac{3}{8} \cdot 8 = 3.$$



Поскольку  $AO_c$  — биссектриса внешнего угла треугольника  $AKC$ , то

$$\frac{O_cK}{O_cC} = \frac{AK}{AC} = \frac{6}{10} = \frac{3}{5},$$

а так как  $O_cK = r_c$ , то

$$r_c = O_cK = \frac{3}{2}CK = \frac{3}{2} \cdot 8 = 12. \quad \triangleleft$$

\* \* \*

Напомним некоторые утверждения, относящиеся к вписанным и описанным четырёхугольникам.

**Теорема 1.** Для того чтобы около четырёхугольника можно было описать окружность, необходимо и достаточно, чтобы сумма его двух противоположных углов была равна  $180^\circ$ .

**Теорема 2.** Для того чтобы в выпуклый четырёхугольник можно было вписать окружность, необходимо и достаточно, чтобы суммы его противоположных сторон были равны.

**Пример 4.** Около четырёхугольника  $ABCD$  можно описать окружность. Известно, что  $AB = 3$ ,  $BC = 4$ ,  $CD = 5$  и  $AD = 2$ . Найдите  $AC$ .

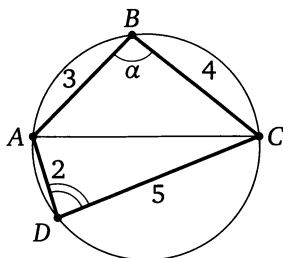
Ответ:  $\sqrt{\frac{299}{11}}$ .

Решение. Обозначим угол  $\angle ABC = \alpha$ . Тогда

$$AC^2 = AB^2 + BC^2 - 2AB \cdot BC \cos \alpha = AD^2 + CD^2 - 2AD \cdot CD \cos(180^\circ - \alpha),$$

или

$$9 + 16 - 2 \cdot 3 \cdot 4 \cos \alpha = 4 + 25 + 2 \cdot 2 \cdot 5 \cos \alpha.$$



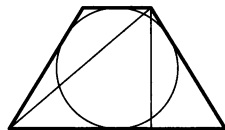
Из этого уравнения находим, что  $\cos \alpha = -\frac{1}{11}$ . Следовательно,

$$AC^2 = 9 + 16 + 2 \cdot 3 \cdot 4 \cdot \frac{1}{11} = \frac{299}{11}. \quad \triangleleft$$

**Пример 5.** Периметр равнобедренной трапеции, описанной около окружности, равен  $2p$ . Найдите проекцию диагонали трапеции на большее основание.

Ответ:  $\frac{1}{2}p$ .

**Решение.** Проекция диагонали равнобедренной трапеции на большее основание равна полусумме оснований, а т.к. трапеция описанная, то сумма оснований равна сумме боковых сторон. Следовательно, сумма оснований равна полупериметру трапеции, а полусумма оснований — четверти периметра, т.е.  $\frac{1}{2}p$ .  $\triangleleft$



## Подготовительные задачи

**11.1.** Боковая сторона равнобедренного треугольника равна 2, угол при вершине равен  $120^\circ$ . Найдите диаметр описанной окружности.

**11.2.** Под каким углом видна из точек окружности хорда, равная радиусу?

**11.3.** В равнобедренном треугольнике  $ABC$  ( $AB = BC$ ) проведена высота  $CD$ . Угол  $BAC$  равен  $\alpha$ . Радиус окружности, проходящей через точки  $A$ ,  $C$  и  $D$ , равен  $R$ . Найдите площадь треугольника  $ABC$ .

**11.4.** Катеты прямоугольного треугольника равны  $a$  и  $b$ , а гипотенуза равна  $c$ . Найдите радиус вписанной окружности.

**11.5.** Дан треугольник со сторонами 3, 4 и 5. Найдите радиусы его описанной, вписанной и внеписанных окружностей.

**11.6.** Дан треугольник со сторонами 13, 13 и 10. Найдите радиусы его описанной, вписанной и внеписанных окружностей.

**11.7.** Дан треугольник со сторонами 13, 14 и 15. Найдите радиусы его описанной, вписанной и внеписанных окружностей.

**11.8.** В равнобедренный треугольник с основанием, равным  $a$ , вписана окружность, и к ней проведены три касательные, отсекающие от данного треугольника три треугольника, сумма периметров которых равна  $b$ . Найдите боковую сторону данного треугольника.

**11.9.** Проекция боковой стороны равнобедренной трапеции на большее основание равна  $a$ , средняя линия трапеции равна  $b$ , а острый угол при основании равен  $45^\circ$ . Найдите радиус окружности, описанной около трапеции.

**11.10.** Основания равнобедренной трапеции равны 9 и 21, а высота равна 8. Найдите радиус окружности, описанной около трапеции.

## Тренировочные задачи

**11.11.** Трапеция  $ABCD$  с основаниями  $BC = 2$  и  $AD = 10$  такова, что в неё можно вписать окружность и около неё можно описать окружность. Определите, где находится центр описанной окружности, т. е. расположен он внутри трапеции, или вне её, или же на одной из сторон трапеции  $ABCD$ . Найдите также отношение радиусов описанной и вписанной окружностей.

**11.12.** В прямоугольном треугольнике отношение радиуса вписанной окружности к радиусу описанной окружности равно  $\frac{2}{5}$ . Найдите острые углы треугольника.

**11.13.** В прямоугольный треугольник  $ABC$  с углом  $A$ , равным  $30^\circ$ , вписана окружность радиуса  $R$ . Вторая окружность, лежащая вне треугольника, касается стороны  $BC$  и продолжений двух других сторон. Найдите расстояние между центрами окружностей.

**11.14.** В треугольнике  $PQR$  угол  $QRP$  равен  $60^\circ$ . Найдите расстояние между точками касания со стороной  $QR$  окружности радиуса  $2$ , вписанной в треугольник, и окружности радиуса  $3$ , касающейся продолжений сторон  $PQ$  и  $PR$ .

**11.15.** Равносторонний треугольник  $ABC$  со стороной  $3$  вписан в окружность. Точка  $D$  лежит на окружности, причём хорда  $AD$  равна  $\sqrt{3}$ . Найдите хорды  $BD$  и  $CD$ .

**11.16.** Пусть  $O$  — центр окружности, описанной около треугольника  $ABC$ ,  $\angle AOC = 60^\circ$ . Найдите угол  $AMC$ , где  $M$  — центр окружности, вписанной в треугольник  $ABC$ .

**11.17.** В треугольнике  $ABC$  известно, что  $AC = b$ ,  $\angle ABC = \alpha$ . Найдите радиус окружности, проходящей через центр вписанного в треугольник  $ABC$  круга и вершины  $A$  и  $C$ .

**11.18.** В окружности проведены две хорды  $AB = a$  и  $AC = b$ . Длина дуги  $AC$  вдвое больше длины дуги  $AB$ . Найдите радиус окружности.

**11.19.** Из точки  $M$  на окружности проведены три хорды:  $MN = 1$ ,  $MP = 6$ ,  $MQ = 2$ . При этом углы  $NMP$  и  $PMQ$  равны. Найдите радиус окружности.

**11.20.** Через вершины  $A$  и  $B$  треугольника  $ABC$  проходит окружность радиуса  $r$ , пересекающая сторону  $BC$  в точке  $D$ . Найдите радиус окружности, проходящей через точки  $A$ ,  $D$  и  $C$ , если  $AB = c$  и  $AC = b$ .

**11.21.** Центр описанной окружности треугольника симметричен его центру вписанной окружности относительно одной из сторон. Найдите углы треугольника.

**11.22.** Угол при основании равнобедренного треугольника равен  $\varphi$ . Найдите отношение радиуса вписанной в данный треугольник окружности к радиусу описанной окружности.

**11.23.** В треугольнике  $ABC$  с периметром  $2p$  сторона  $AC$  равна  $a$ , острый угол  $ABC$  равен  $\alpha$ . Вписанная в треугольник  $ABC$  окружность с центром  $O$  касается стороны  $BC$  в точке  $K$ . Найдите площадь треугольника  $ВОК$ .



**11.24.** В треугольнике  $ABC$  с периметром  $2p$  острый угол  $BAC$  равен  $\alpha$ . Окружность с центром в точке  $O$  касается стороны  $BC$  и продолжения сторон  $AB$  и  $AC$  в точках  $K$  и  $L$  соответственно. Точка  $D$  лежит внутри отрезка  $AK$ ,  $AD = a$ . Найдите площадь треугольника  $DOK$ .

**11.25.** В треугольник вписана окружность радиуса 4. Одна из сторон треугольника разделена точкой касания на части, равные 6 и 8. Найдите две другие стороны треугольника.

**11.26.** Прямоугольный треугольник  $ABC$  разделён высотой  $CD$ , проведённой к гипотенузе, на два треугольника:  $BCD$  и  $ACD$ . Радиусы окружностей, вписанных в эти треугольники, равны 4 и 3 соответственно. Найдите радиус окружности, вписанной в треугольник  $ABC$ .

**11.27.** К окружности, вписанной в треугольник со сторонами 6, 10 и 12, проведена касательная, пересекающая две большие стороны. Найдите периметр отсечённого треугольника.

**11.28.** Окружность, вписанная в треугольник, точкой касания делит одну из сторон на отрезки, равные 3 и 4, а противолежащий этой стороне угол равен  $120^\circ$ . Найдите площадь треугольника.

**11.29.** Пусть  $CD$  — медиана треугольника  $ABC$ . Окружности, вписанные в треугольники  $ACD$  и  $BCD$ , касаются отрезка  $CD$  в точках  $M$  и  $N$ . Найдите  $MN$ , если  $AC - BC = 2$ .

**11.30.** На основании  $AB$  равнобедренного треугольника  $ABC$  взята точка  $D$ , причём  $BD - AD = 4$ . Найдите расстояние между точками, в которых окружности, вписанные в треугольники  $ACD$  и  $BCD$ , касаются отрезка  $CD$ .

**11.31.** В четырёхугольнике  $MNPQ$  расположены две непересекающиеся окружности. Одна из них касается сторон  $MN$ ,  $NP$ ,  $PQ$ , а другая — сторон  $MN$ ,  $MQ$ ,  $PQ$ . Точки  $B$  и  $A$  лежат на сторонах  $MN$  и  $PQ$  соответственно, причём отрезок  $AB$  касается обеих окружностей. Найдите сторону  $MQ$ , если  $NP = b$  и периметр четырёхугольника  $BAQM$  больше периметра четырёхугольника  $ABNP$  на величину  $2p$ .

**11.32.** Около окружности радиуса  $R$  описан параллелограмм. Площадь четырёхугольника с вершинами в точках касания окружности и параллелограмма равна  $S$ . Найдите стороны параллелограмма.

**11.33.** В четырёхугольнике  $ABCD$  сторона  $AB$  равна стороне  $BC$ , диагональ  $AC$  равна стороне  $CD$ , а  $\angle ACB = \angle ACD$ . Радиусы окружностей, вписанных в треугольники  $ACB$  и  $ACD$ , относятся как 3 : 4. Найдите отношение площадей этих треугольников.

**11.34.** Периметр треугольника  $ABC$  равен 8. В треугольник вписана окружность, и к ней проведена касательная, параллельная стороне

*AB*. Отрезок этой касательной, заключённый между сторонами *AC* и *CB*, равен 1. Найдите сторону *AB*.

**11.35.** Радиус вписанной в треугольник *ABC* окружности равен  $\sqrt{3} - 1$ . Угол *BAC* равен  $60^\circ$ , а радиус окружности, касающейся стороны *BC* и продолжений сторон *AB* и *AC*, равен  $\sqrt{3} + 1$ . Найдите углы *ABC* и *ACB*.

**11.36.** В параллелограмме *ABCD* острый угол *BAD* равен  $\alpha$ . Пусть  $O_1, O_2, O_3, O_4$  — центры окружностей, описанных около треугольников *DAB, DAC, DBC, ABC* соответственно. Найдите отношение площади четырёхугольника  $O_1O_2O_3O_4$  к площади параллелограмма *ABCD*.

**11.37.** Около треугольника *ABC* описана окружность. Медиана *AD* продолжена до пересечения с этой окружностью в точке *E*. Известно, что  $AB + AD = DE$ ,  $\angle BAD = 60^\circ$ ,  $AE = 6$ . Найдите площадь треугольника *ABC*.

**11.38.** В четырёхугольник *ABCD* можно вписать и вокруг него можно описать окружность. Диагонали четырёхугольника перпендикулярны. Найдите его площадь, если радиус описанной окружности равен  $R$  и  $AB = 2BC$ .

**11.39.** Радиус окружности, описанной около остроугольного треугольника *ABC*, равен 1. Известно, что на этой окружности лежит центр другой окружности, проходящей через вершины *A, C* и точку пересечения высот треугольника *ABC*. Найдите *AC*.

**11.40.** Под каким углом видна из вершины прямого угла прямоугольного треугольника проекция вписанной окружности на гипотенузу?

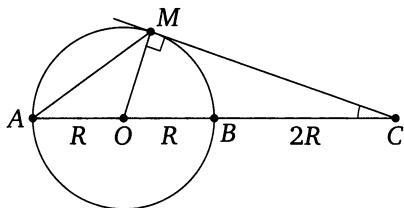
## § 12. Пропорциональные отрезки в окружности. Решение задачи 12 из диагностической работы

12. На продолжении диаметра  $AB$  окружности отложен отрезок  $BC$ , равный диаметру. Прямая, проходящая через точку  $C$ , касается окружности в точке  $M$ . Найдите площадь треугольника  $ACM$ , если радиус окружности равен  $R$ .

Ответ:  $\frac{4}{3}R^2\sqrt{2}$ .

Решение. Пусть  $O$  — центр окружности. Тогда  $OM \perp CM$ . В прямоугольном треугольнике  $OMC$  известно, что  $OM = R$  и  $OC = OB + BC = R + 2R = 3R$ . Тогда

$$CM = \sqrt{OC^2 - OM^2} = \sqrt{9R^2 - R^2} = 2R\sqrt{2}, \quad \sin \angle OCM = \frac{OM}{OC} = \frac{R}{3R} = \frac{1}{3}.$$



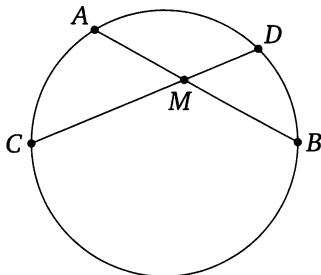
Следовательно,

$$S_{\triangle ACM} = \frac{1}{2}AC \cdot CM \cdot \sin \angle ACM = \frac{1}{2} \cdot 4R \cdot 2R\sqrt{2} \cdot \frac{1}{3} = \frac{4}{3}R^2\sqrt{2}. \quad \triangleleft$$

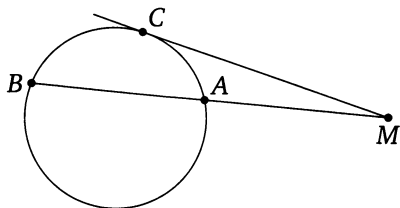
\*\*\*

Этот раздел посвящен теореме о произведении отрезков пересекающихся хорд окружности, теореме о касательной и секущей, а также важному следствию из этих теорем.

**Теорема.** Произведения отрезков пересекающихся хорд окружности равны, т. е. если хорды  $AB$  и  $CD$  окружности пересекаются в точке  $M$ , то  $AM \cdot MB = CM \cdot MD$ .



**Теорема** (о касательной и секущей). Если из точки, лежащей вне окружности, проведены к окружности касательная и секущая, то произведение всей секущей на её внешнюю часть равно квадрату касательной, т. е. если точка  $M$  расположена вне окружности, прямая, проходящая через точку  $M$ , касается окружности в точке  $C$ , а вторая прямая, проходящая через точку  $M$ , пересекает окружность в точках  $A$  и  $B$ , то  $MC^2 = MA \cdot MB$ .



**Следствие.** Для данной точки  $M$ , данной окружности и любой прямой, проходящей через точку  $M$  и пересекающей окружность в точках  $A$  и  $B$ , произведение  $MA \cdot MB$  одно и то же.

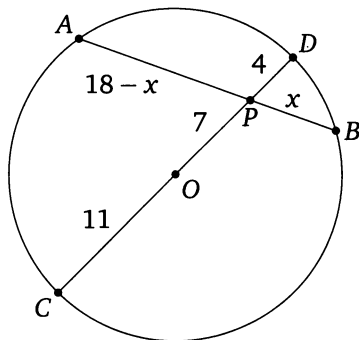
**Пример 1.** Расстояние от точки  $P$  до центра окружности радиуса 11 равно 7. Через точку  $P$  проведена хорда, равная 18. Найдите отрезки, на которые делится хорда точкой  $P$ .

*Ответ:* 12 и 6.

**Решение.** Пусть  $O$  — центр окружности,  $AB$  — данная хорда. Проведём диаметр  $CD$ , содержащий точку  $P$  ( $P$  между  $O$  и  $D$ ). Обозначим  $PB = x$ . Тогда

$$AP = 18 - x, \quad DP = OD - OP = 11 - 7 = 4;$$

$$PC = OP + OC = 7 + 11 = 18.$$

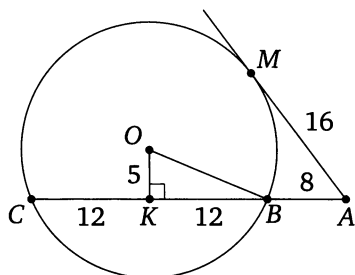


Из теоремы о пересекающихся хордах получаем  $AP \cdot PB = PD \cdot PC$ , или  $(18 - x)x = 4 \cdot 18$ . Из этого уравнения находим, что  $x = 12$  или  $x = 6$ .  $\triangleleft$

**Пример 2.** Из точки  $A$ , лежащей вне окружности, проведены к окружности касательная и секущая. Расстояние от точки  $A$  до точки касания равно 16, а расстояние от точки  $A$  до одной из точек пересечения секущей с окружностью равно 32. Найдите радиус окружности, если расстояние от её центра до секущей равно 5.

*Ответ:* 13.

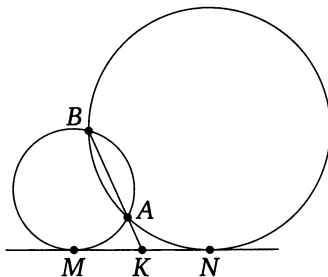
**Решение.** Пусть секущая пересекает окружность в точках  $B$  и  $C$ , а  $M$  — точка касания. Тогда  $AM = 16$ ,  $AC = 32$ ,  $AB + BC = 32$ . По теореме о касательной и секущей  $AM^2 = AC \cdot AB$ , или  $16^2 = 32(32 - BC)$ . Отсюда находим, что  $BC = 24$ .



Пусть  $K$  — проекция центра  $O$  данной окружности на хорду  $BC$ . Радиус окружности находим по теореме Пифагора из прямоугольного треугольника  $OKB$ :  $R = OB = \sqrt{OK^2 + BK^2} = \sqrt{25 + 144} = 13$ .  $\triangleleft$

**Пример 3.** Докажите, что прямая, проходящая через точки пересечения двух окружностей, делит пополам общую касательную к ним.

**Доказательство.** Пусть  $A$  и  $B$  — точки пересечения двух окружностей,  $MN$  — общая касательная ( $M$  и  $N$  — точки касания),  $K$  — точка пересечения прямых  $AB$  и  $MN$  ( $A$  между  $K$  и  $B$ ).



Тогда  $MK^2 = KB \cdot KA$  и  $NK^2 = KB \cdot KA$ . Следовательно,  $MK = NK$ .  $\square$

## Подготовительные задачи

12.1. Точка  $M$  внутри окружности делит хорду этой окружности на отрезки, равные  $a$  и  $b$ . Через точку  $M$  проведена хорда  $AB$ , делящаяся точкой  $M$  пополам. Найдите  $AB$ .

12.2. Диагонали вписанного четырёхугольника  $ABCD$  пересекаются в точке  $K$ . Известно, что  $AB = a$ ,  $BK = b$ ,  $AK = c$ ,  $CD = d$ . Найдите  $AC$ .

12.3. Из точки  $M$ , расположенной вне окружности на расстоянии  $\sqrt{7}$  от центра, проведены касательная  $MA$  ( $A$  — точка касания) и секущая, внутренняя часть которой вдвое меньше внешней и равна радиусу окружности. Найдите радиус окружности.

12.4. Через точку  $M$  проведены две прямые. Одна из них касается некоторой окружности в точке  $A$ , а вторая пересекает эту окружность в точках  $B$  и  $C$ , причём  $BC = 7$  и  $BM = 9$ . Найдите  $AM$ .

12.5. Из точки  $A$  проведены два луча, пересекающие данную окружность: один — в точках  $B$  и  $C$ , другой — в точках  $D$  и  $E$ . Известно, что  $AB = 7$ ,  $BC = 7$ ,  $AD = 10$ . Найдите  $DE$ .

12.6. Точка  $M$  удалена от центра окружности радиуса  $R$  на расстояние  $d$ . Прямая, проходящая через точку  $M$ , пересекает окружность в точках  $A$  и  $B$ . Найдите произведение  $AM \cdot BM$ .

12.7. В квадрат  $ABCD$  со стороной  $a$  вписана окружность, которая касается стороны  $CD$  в точке  $E$ . Найдите хорду, соединяющую точки, в которых окружность пересекается с прямой  $AE$ .

12.8. В прямоугольном треугольнике  $ABC$  угол  $A$  прямой, катет  $AB$  равен  $a$ , радиус вписанной окружности равен  $r$ . Вписанная окружность касается катета  $AC$  в точке  $D$ . Найдите хорду, соединяющую точки пересечения окружности с прямой  $BD$ .

12.9. На боковой стороне равнобедренного треугольника как на диаметре построена окружность, делящая вторую боковую сторону на отрезки, равные  $a$  и  $b$ . Найдите основание треугольника.

12.10. В окружности с центром  $O$  проведены хорды  $AB$  и  $CD$ , пересекающиеся в точке  $M$ , причём  $AM = 4$ ,  $MB = 1$ ,  $CM = 2$ . Найдите угол  $OMC$ .

## Тренировочные задачи

12.11. В окружность вписан четырёхугольник  $ABCD$ , причём  $AB$  — диаметр окружности. Диагонали  $AC$  и  $BD$  пересекаются в точке  $M$ . Известно, что  $BC = 3$ ,  $CM = \frac{3}{4}$ , а площадь треугольника  $ABC$  втрое больше площади треугольника  $ACD$ . Найдите  $AM$ .

**12.12.** Через вершины  $B$  и  $C$  треугольника  $ABC$  проведена окружность, которая пересекает сторону  $AB$  в точке  $K$ , а сторону  $AC$  — в точке  $E$ . Найдите  $AE$ , зная, что  $AK = KB = a$ ,  $\angle BCK = \alpha$ ,  $\angle CBE = \beta$ .

**12.13.** Окружность, построенная на стороне  $AC$  треугольника  $ABC$  как на диаметре, проходит через середину стороны  $BC$  и пересекает в точке  $D$  продолжение стороны  $AB$  за точку  $A$ , причём  $AD = \frac{2}{3}AB$ . Найдите площадь треугольника  $ABC$ , если  $AC = 1$ .

**12.14.** Каждая из боковых сторон  $AB$  и  $BC$  равнобедренного треугольника  $ABC$  разделена на три равные части, и через четыре точки деления на этих сторонах проведена окружность, отсекающая на основании  $AC$  хорду  $DE$ . Найдите отношение площадей треугольников  $ABC$  и  $BDE$ , если  $AB = BC = 3$  и  $AC = 4$ .

**12.15.** Окружность, диаметр которой равен  $\sqrt{10}$ , проходит через соседние вершины  $A$  и  $B$  прямоугольника  $ABCD$ . Длина касательной, проведённой из точки  $C$  к окружности, равна 3,  $AB = 1$ . Найдите сторону  $BC$ .

**12.16.** Окружность проходит через соседние вершины  $M$  и  $N$  прямоугольника  $MNPQ$ . Длина касательной, проведённой из точки  $Q$  к окружности, равна 1,  $PQ = 2$ . Найдите площадь прямоугольника  $MNPQ$ , если диаметр окружности равен  $\sqrt{5}$ .

**12.17.** Точки  $A, B, C, D$  — последовательные вершины прямоугольника. Окружность проходит через  $A$  и  $B$  и касается стороны  $CD$  в её середине. Через  $D$  проведена прямая, которая касается той же окружности в точке  $E$ , а затем пересекает продолжение стороны  $AB$  в точке  $K$ . Найдите площадь трапеции  $BCDK$ , если известно, что  $AB = 10$  и  $KE : KA = 3 : 2$ .

**12.18.** Найдите радиус окружности, которая отсекает на обеих сторонах угла, равного  $\alpha$ , хорды, равные  $a$ , если известно, что расстояние между ближайшими концами этих хорд равно  $b$ .

**12.19.** Сторона квадрата  $ABCD$  равна 1 и является хордой некоторой окружности, причём остальные стороны квадрата лежат вне этой окружности. Касательная  $CK$ , проведённая из вершины  $C$  к этой же окружности, равна 2. Найдите диаметр окружности.

**12.20.** В прямоугольном треугольнике  $ABC$  с катетами  $AB = 3$  и  $BC = 4$  через середины сторон  $AB$  и  $AC$  проведена окружность, касающаяся катета  $BC$ . Найдите длину отрезка гипотенузы  $AC$ , который лежит внутри этой окружности.

**12.21.** В треугольнике  $ABC$  сторона  $BC$  равна 4, а медиана, проведённая к этой стороне, равна 3. Найдите длину общей хорды двух

окружностей, каждая из которых проходит через точку  $A$  и касается  $BC$ , причём одна касается  $BC$  в точке  $B$ , а вторая — в точке  $C$ .

**12.22.** Окружность, проходящая через вершины  $B$ ,  $C$  и  $D$  параллелограмма  $ABCD$ , касается прямой  $AD$  и пересекает прямую  $AB$  в точках  $V$  и  $E$ . Найдите  $AE$ , если  $AD = 4$  и  $CE = 5$ .

**12.23.** Из точки  $A$ , находящейся на расстоянии 5 от центра окружности радиуса 3, проведены две секущие  $AKC$  и  $ALB$ , угол между которыми равен  $30^\circ$  ( $K$ ,  $C$ ,  $L$ ,  $B$  — точки пересечения секущих с окружностью). Найдите площадь треугольника  $AKL$ , если площадь треугольника  $ABC$  равна 10.

**12.24.** На прямой расположены точки  $A$ ,  $B$ ,  $C$  и  $D$ , следующие друг за другом в указанном порядке. Известно, что  $BC = 3$ ,  $AB = 2CD$ . Через точки  $A$  и  $C$  проведена некоторая окружность, а через точки  $B$  и  $D$  — другая. Их общая хорда пересекает отрезок  $BC$  в точке  $K$ . Найдите  $BK$ .

**12.25.** В равнобедренном треугольнике  $ABC$  ( $AB = AC$ ) проведены биссектрисы  $AD$ ,  $BE$ ,  $CF$ . Найдите  $BC$ , если известно, что  $AC = 1$ , а вершина  $A$  лежит на окружности, проходящей через точки  $D$ ,  $E$  и  $F$ .

**12.26.** Окружность касается сторон  $AB$  и  $AD$  прямоугольника  $ABCD$  и проходит через вершину  $C$ . Сторону  $DC$  она пересекает в точке  $N$ . Найдите площадь трапеции  $ABND$ , если  $AB = 9$  и  $AD = 8$ .

**12.27.** На одной из сторон угла, равного  $\alpha$  ( $\alpha < 90^\circ$ ), с вершиной в точке  $O$  взяты точки  $A$  и  $B$ , причём  $OA = a$ ,  $OB = b$ . Найдите радиус окружности, проходящей через точки  $A$  и  $B$  и касающейся другой стороны угла.

**12.28.** На катете  $AC$  прямоугольного треугольника  $ABC$  как на диаметре построена окружность. Она пересекает гипотенузу  $AB$  в точке  $E$ . На стороне  $BC$  взята точка  $G$  так, что отрезок  $AG$  пересекает окружность в точке  $F$ , причём отрезки  $EF$  и  $AC$  параллельны,  $BG = 2CG$  и  $AC = 2\sqrt{3}$ . Найдите  $GF$ .

**12.29.** В параллелограмме  $ABCD$  угол  $BCD$  равен  $150^\circ$ , а сторона  $AD$  равна 8. Найдите радиус окружности, касающейся прямой  $CD$  и проходящей через вершину  $A$ , а также пересекающей сторону  $AD$  на расстоянии 2 от точки  $D$ .

**12.30.** Окружность и прямая касаются в точке  $M$ . Из точек  $A$  и  $B$  этой окружности опущены перпендикуляры на прямую, равные  $a$  и  $b$  соответственно. Найдите расстояние от точки  $M$  до прямой  $AB$ .

**12.31.** Окружность, вписанная в треугольник  $ABC$ , делит медиану  $BM$  на три равные части. Найдите отношение  $BC : CA : AB$ .



**12.32.** Две окружности радиусов  $R$  и  $r$  пересекаются в точках  $A$  и  $B$  и касаются прямой в точках  $C$  и  $D$ ;  $N$  — точка пересечения прямых  $AB$  и  $CD$  ( $B$  между  $A$  и  $N$ ). Найдите:

- 1) радиус окружности, описанной около треугольника  $ACD$ ;
- 2) отношение высот треугольников  $NAC$  и  $NAD$ , опущенных из вершины  $N$ .

**12.33\*** Равнобедренная трапеция с основаниями  $AD$  и  $BC$  ( $AD > BC$ ) описана около окружности, которая касается стороны  $CD$  в точке  $M$ . Отрезок  $AM$  пересекает окружность в точке  $N$ . Найдите отношение  $AD$  к  $BC$ , если  $AN : NM = k$ .

**12.34\*** В трапеции  $ABCD$  с основаниями  $AD$  и  $BC$  угол  $A$  равен  $45^\circ$ , угол  $D$  равен  $60^\circ$ . На диагоналях трапеции как на диаметрах построены окружности, пересекающиеся в точках  $M$  и  $N$ . Хорда  $MN$  пересекает основание  $AD$  в точке  $E$ . Найдите отношение  $AE : ED$ .

**§ 13. Углы, связанные с окружностью. Метод  
вспомогательной окружности.  
Решение задачи 13 из диагностической работы**

13. Окружность  $S_1$  проходит через центр окружности  $S_2$  и пересекает её в точках  $A$  и  $B$ . Хорда  $AC$  окружности  $S_1$  касается окружности  $S_2$  в точке  $A$  и делит первую окружность на дуги, градусные меры которых относятся как 5 : 7. Найдите градусные меры дуг, на которые окружность  $S_2$  делится окружностью  $S_1$ .

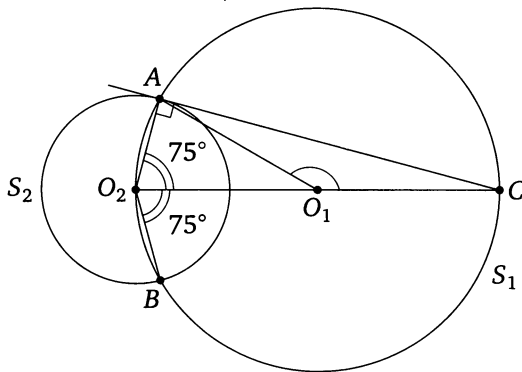
*Ответ:*  $150^\circ$  и  $210^\circ$ .

**Решение.** Пусть  $O_1$  и  $O_2$  — центры окружностей  $S_1$  и  $S_2$  соответственно. Тогда

$$\angle AO_1C = 360^\circ \cdot \frac{5}{5+7} = 150^\circ.$$

Поскольку  $\angle O_2AC = 90^\circ$  (радиус, проведённый в точку касания, перпендикулярен касательной), отрезок  $O_2C$  — диаметр окружности  $S_1$ , поэтому

$$\angle AO_2C = \frac{1}{2}\angle AO_1C = 75^\circ.$$

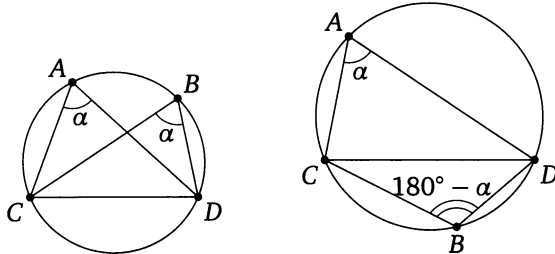


Тогда градусная мера дуги окружности  $S_2$ , заключённой между сторонами угла  $AO_2C$ , равна  $75^\circ$ , а градусная мера дуги  $AB$  окружности  $S_2$ , содержащейся внутри окружности  $S_1$ , равна  $150^\circ$ . Следовательно, дополнительная к ней дуга окружности  $S_2$  равна  $360^\circ - 150^\circ = 210^\circ$ . <

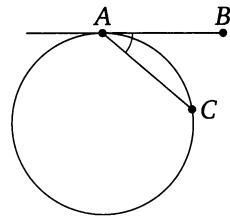
\* \* \*

Напомним, что угловая величина дуги — это угловая величина соответствующего этой дуге центрального угла.

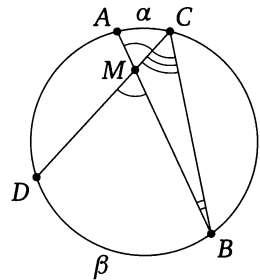
Вписанный угол равен половине угловой величины соответствующего центрального угла (дуги). Отсюда следует, что вписанные углы, опирающиеся на одну и ту же дугу, равны, т. е. если точки  $A$  и  $B$  лежат на окружности по одну сторону от прямой, содержащей хорду  $CD$ , то  $\angle CAD = \angle CBD$ . Если же точки  $A$  и  $B$  лежат по разные стороны от прямой  $CD$ , то  $\angle CAD + \angle CBD = 180^\circ$ .



Угол между касательной и хордой равен половине угловой величины дуги, заключённой между ними, т. е. если прямая касается окружности в точке  $A$ , точка  $B$  лежит на этой прямой, а точка  $C$  — на окружности, причём все три точки различны, то угловая величина угла  $BAC$  равна половине угловой величины дуги  $AC$ , заключённой внутри угла  $BAC$ .



**Пример 1.** Докажите, что угол между пересекающимися хордами равен полусумме угловых величин противоположных дуг, высекаемых на окружности этими хордами, т. е. если хорды  $AB$  и  $CD$  пересекаются в точке  $M$ , лежащей внутри окружности, то угловая величина каждого из углов  $AMC$  и  $BMD$  равна полусумме угловых величин дуг  $AC$  и  $BD$ , заключённых внутри этих углов.



**Доказательство.** Пусть угловые величины дуг  $AC$  и  $BD$ , заключённых внутри углов  $AMC$  и  $BMD$ , равны  $\alpha$  и  $\beta$  соответственно. По теореме о внешнем угле треугольника

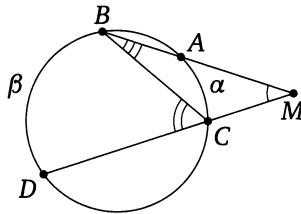
$$\angle AMC = \angle MBC + \angle MCB = \angle ABC + \angle DCB = \frac{\alpha}{2} + \frac{\beta}{2} = \frac{\alpha + \beta}{2}.$$

Что и требовалось доказать. □

**Пример 2.** Докажите, что угол между секущими, проведёнными к окружности из точки, лежащей вне окружности, равен полудуге

угловых величин дуг, содержащихся внутри этого угла, т. е. если точка  $M$  лежит вне окружности, одна прямая, проходящая через эту точку, пересекает окружность последовательно в точках  $A$  и  $B$ , а вторая прямая, проходящая через точку  $M$ , — в точках  $C$  и  $D$ , то угловая величина угла  $BMD$  равна полуразности угловых величин дуг  $BD$  и  $AC$ , заключённых внутри этого угла.

**Доказательство.** Пусть угловые величины дуг  $AC$  и  $BD$ , заключённых внутри углов  $AMC$  и  $BMD$ , равны  $\alpha$  и  $\beta$  соответственно ( $\alpha < \beta$ ).



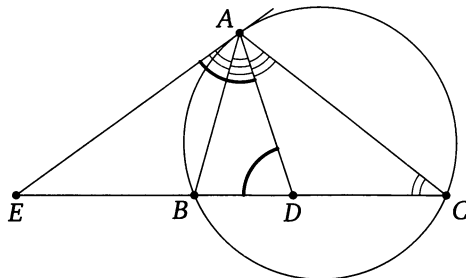
По теореме о внешнем угле треугольника

$$\angle BMD = \angle AMC = \angle BCD - \angle MBC = \angle BCD - \angle ABC = \frac{\beta}{2} - \frac{\alpha}{2} = \frac{\beta - \alpha}{2}. \quad \square$$

**Пример 3.** Касательная в точке  $A$  к описанной окружности треугольника  $ABC$  пересекает прямую  $BC$  в точке  $E$ ;  $AD$  — биссектриса треугольника  $ABC$ . Докажите, что  $AE = ED$ .

**Доказательство.** Пусть точка  $E$  лежит на продолжении стороны  $BC$  за точку  $B$ . Применив теорему об угле между касательной и хордой и теорему о внешнем угле треугольника, получим, что

$$\angle EAD = \angle EAB + \angle BAD = \angle ACB + \angle DAC = \angle EDA.$$



Значит, треугольник  $ADE$  является равнобедренным, следовательно,  $AE = ED$ .  $\square$

**Пример 4.** В круге провели три хорды  $AB$ ,  $BC$ ,  $CD$  и отметили их середины  $M$ ,  $N$  и  $K$  соответственно. Известно, что  $\angle BMN = \alpha$ . Найдите  $\angle NKC$ .

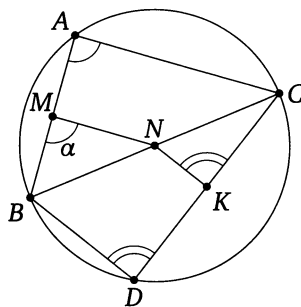
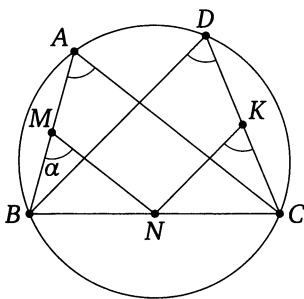
*Ответ:*  $\alpha$  или  $180^\circ - \alpha$ .

**Решение.** Пусть точки  $A$  и  $D$  лежат по одну сторону от прямой  $BC$ . Поскольку  $KN$  и  $MN$  — средние линии треугольников  $BCD$  и  $CBA$ , то  $KN \parallel BD$  и  $MN \parallel AC$ . Поэтому

$$\angle NKC = \angle BDC = \angle BAC = \angle BMN = \alpha.$$

Пусть точки  $A$  и  $D$  лежат по разные стороны от прямой  $BC$ . Поскольку  $KN$  и  $MN$  — средние линии треугольников  $BCD$  и  $CBA$ , то  $KN \parallel BD$  и  $MN \parallel AC$ . Поэтому

$$\angle BMN = \angle BAC, \quad \angle NKC = \angle BDC.$$



Значит,

$$\angle BMN + \angle NKC = \angle BAC + \angle BDC = 180^\circ.$$

Следовательно,

$$\angle NKC = 180^\circ - \angle BMN = 180^\circ - \alpha. \quad \triangleleft$$

\* \* \*

Если при размышлении над задачей удастся заметить, что какие-то четыре точки лежат на одной окружности, то дальнейшие рассуждения сводятся к известным свойствам углов, связанных с окружностью. Этот метод обычно называют методом вспомогательной окружности.

Отметим наиболее известные условия, при которых четыре точки лежат на одной окружности.

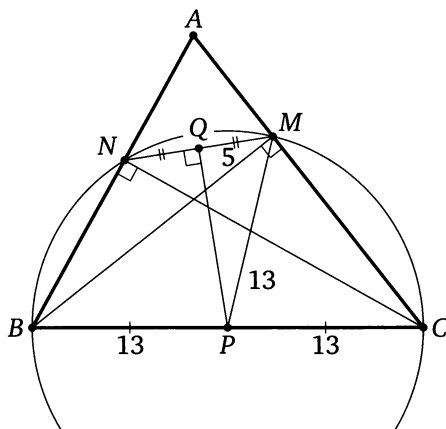
1) Можно указать точку, равноудалённую от рассматриваемых точек  $A$ ,  $B$ ,  $C$  и  $D$ .

- 2) Из точек  $A$  и  $B$  отрезок  $CD$  виден под прямым углом.
- 3) Из точек  $A$  и  $B$ , лежащих по одну сторону от прямой  $CD$ , отрезок  $CD$  виден под одним и тем же углом.
- 4) Точки  $A$  и  $B$  лежат по разные стороны от прямой  $CD$ , и при этом сумма углов  $CAD$  и  $CBD$  равна  $180^\circ$ .
- 5) Точки  $A$  и  $B$  лежат на одной стороне неразвёрнутого угла с вершиной  $O$ , точки  $C$  и  $D$  — на другой, и при этом  $OA \cdot OB = OC \cdot OD$ .
- 6) Отрезки  $AB$  и  $CD$  пересекаются в точке  $O$ , и при этом  $OA \cdot OB = OC \cdot OD$ .

**Пример 5.** Известно, что  $BM$  и  $CN$  — высоты треугольника  $ABC$ , при этом  $MN = 10$  и  $BC = 26$ . Найдите расстояние между серединами отрезков  $MN$  и  $BC$ .

*Ответ:* 12.

**Решение.** Пусть  $P$  и  $Q$  — середины отрезков  $BC$  и  $MN$  соответственно. Из точек  $M$  и  $N$  отрезок  $BC$  виден под прямым углом, значит, эти точки лежат на окружности с диаметром  $BC$ . Точка  $P$  — центр окружности, а  $Q$  — середина хорды  $MN$ , поэтому  $PQ \perp MN$ .



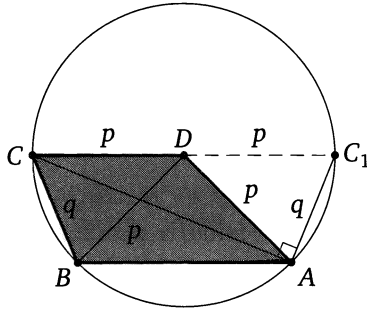
Из прямоугольного треугольника  $PQM$  находим, что

$$PQ = \sqrt{PM^2 - QM^2} = \sqrt{13^2 - 5^2} = 12. \quad \triangleleft$$

**Пример 6.** Основание  $CD$ , диагональ  $BD$  и боковая сторона  $AD$  трапеции  $ABCD$  равны  $p$ . Боковая сторона  $BC$  равна  $q$ . Найдите диагональ  $AC$ .

*Ответ:*  $\sqrt{4p^2 - q^2}$ .

**Решение.** Окружность с центром в точке  $D$  и радиусом  $p$  проходит через точки  $A$ ,  $B$  и  $C$ . Если  $CC_1$  — диаметр окружности, то  $ABCC_1$  — равнобедренная трапеция,  $AC_1 = BC = q$ .



Поскольку  $\angle CAC_1 = 90^\circ$  (точка  $A$  лежит на окружности с диаметром  $CC_1$ ),

$$AC^2 = CC_1^2 - AC_1^2 = 4p^2 - q^2.$$

Следовательно,  $AC = \sqrt{4p^2 - q^2}$ .

◁

## Подготовительные задачи

13.1. Окружность касается сторон угла с вершиной  $A$  в точках  $B$  и  $C$ . Найдите градусные меры дуг, на которые окружность делится точками  $B$  и  $C$ , если  $\angle BAC = 70^\circ$ .

13.2. Пусть  $AB$  и  $AC$  — равные хорды,  $MAN$  — касательная, градусная мера дуги  $BC$ , не содержащей точки  $A$ , равна  $200^\circ$ . Найдите углы  $MAB$  и  $NAC$ .

13.3. Треугольник  $ABC$  равнобедренный. Радиус  $OA$  описанного круга образует с основанием  $AC$  угол  $OAC$ , равный  $20^\circ$ . Найдите угол  $BAC$ .

13.4. Окружность описана около равностороннего треугольника  $ABC$ . На дуге  $BC$ , не содержащей точку  $A$ , расположена точка  $M$ , делящая градусную меру этой дуги в отношении  $1 : 2$ . Найдите углы треугольника  $AMB$ .

13.5. Точки  $A, B, C$  и  $D$  последовательно расположены на окружности. Известно, что градусные меры меньших дуг  $AB, BC, CD$  и  $AD$  относятся как  $1 : 3 : 5 : 6$ . Найдите углы четырёхугольника  $ABCD$ .

13.6. Окружность проходит через вершины  $A$  и  $C$  треугольника  $ABC$ , пересекая сторону  $AB$  в точке  $E$  и сторону  $BC$  в точке  $F$ . Угол  $AEC$  в 5 раз больше угла  $BAF$ , а угол  $ABC$  равен  $72^\circ$ . Найдите радиус окружности, если  $AC = 6$ .

13.7. Из точки  $P$ , расположенной внутри острого угла с вершиной в точке  $A$ , опущены перпендикуляры  $PC$  и  $PB$  на стороны угла  $AB$  и  $AC$ . Известно, что  $\angle CBP = 25^\circ$ . Найдите угол  $CAP$ .

13.8. В окружность вписан прямоугольник  $ABCD$ , сторона  $AB$  которого равна  $a$ . Из конца  $K$  диаметра  $KP$ , параллельного стороне  $AB$ , сторона  $BC$  видна под углом  $\beta$ . Найдите радиус окружности.

13.9. В выпуклом четырёхугольнике  $ABCD$  известно, что  $\angle BCD = 80^\circ$ ,  $\angle ACB = 50^\circ$  и  $\angle ABD = 30^\circ$ . Найдите угол  $ADB$ .

13.10. В выпуклом четырёхугольнике  $ABCD$  известно, что  $\angle ACB = 25^\circ$ ,  $\angle ACD = 40^\circ$  и  $\angle BAD = 115^\circ$ . Найдите угол  $ADB$ .

13.11. В выпуклом четырёхугольнике  $ABCD$  известно, что  $\angle ABC = 116^\circ$ ,  $\angle ADC = 64^\circ$ ,  $\angle CAB = 35^\circ$  и  $\angle CAD = 52^\circ$ . Найдите угол между диагоналями, опирающийся на сторону  $AB$ .

13.12. В четырёхугольнике  $ABCD$  известно, что

$$\angle ABD = \angle ACD = 45^\circ, \quad \angle BAC = 30^\circ, \quad BC = 1.$$

Найдите  $AD$ .



**13.13.** Во вписанном четырёхугольнике  $ABCD$  известны углы:

$$\angle DAB = \alpha, \quad \angle ABC = \beta, \quad \angle BKC = \gamma,$$

где  $K$  — точка пересечения диагоналей. Найдите угол  $ACD$ .

### Тренировочные задачи

**13.14.** Около треугольника  $ABC$ , в котором  $BC = a$ ,  $\angle B = \alpha$ ,  $\angle C = \beta$ , описана окружность. Биссектриса угла  $A$  пересекает эту окружность в точке  $K$ . Найдите  $AK$ .

**13.15.** Треугольники  $ABC$  и  $ADC$  имеют общую сторону  $AC$ ; стороны  $AD$  и  $BC$  пересекаются в точке  $M$ . Углы  $B$  и  $D$  равны по  $40^\circ$ . Расстояние между вершинами  $D$  и  $B$  равно стороне  $AB$ ,  $\angle AMC = 70^\circ$ . Найдите углы треугольников  $ABC$  и  $ADC$ .

**13.16.** Внутри угла с вершиной  $O$  взята некоторая точка  $M$ . Луч  $OM$  образует со сторонами угла углы, один из которых больше другого на  $10^\circ$ ;  $A$  и  $B$  — проекции точки  $M$  на стороны угла. Найдите угол между прямыми  $AB$  и  $OM$ .

**13.17.** Вершина угла величиной  $70^\circ$  служит началом луча, образующего с его сторонами углы  $30^\circ$  и  $40^\circ$ . Из некоторой точки  $M$  на этот луч и на стороны угла опущены перпендикуляры, основания которых —  $A$ ,  $B$  и  $C$ . Найдите углы треугольника  $ABC$ .

**13.18.** В остроугольном треугольнике  $ABC$  из основания  $D$  высоты  $BD$  опущены перпендикуляры  $DM$  и  $DN$  на стороны  $AB$  и  $BC$ . Известно, что  $MN = a$ ,  $BD = b$ . Найдите угол  $ABC$ .

**13.19.** Хорда делит окружность на дуги, градусные меры которых относятся как  $11 : 16$ . Найдите угол между касательными, проведёнными через концы этой хорды.

**13.20.** Расстояние между центрами непересекающихся окружностей равно  $a$ . Докажите, что точки пересечения общих внешних касательных с общими внутренними касательными лежат на одной окружности, и найдите её радиус.

**13.21.** В треугольнике  $ABC$  проведены биссектрисы  $AD$  и  $BE$ , пересекающиеся в точке  $O$ . Известно, что  $OE = 1$ , а вершина  $C$  лежит на окружности, проходящей через точки  $E$ ,  $D$  и  $O$ . Найдите стороны и углы треугольника  $EDO$ .

**13.22.** В треугольнике  $ABC$  угол  $B$  прямой, величина угла  $A$  равна  $\alpha$ , точка  $D$  — середина гипотенузы. Точка  $C_1$  симметрична точке  $C$  относительно прямой  $BD$ . Найдите угол  $AC_1B$ .

**13.23.** На стороне  $AB$  треугольника  $ABC$  во внешнюю сторону построен равносторонний треугольник. Найдите расстояние между его центром и вершиной  $C$ , если  $AB = c$  и  $\angle C = 120^\circ$ .

**13.24.** В четырёхугольнике  $ABCD$  углы  $B$  и  $D$  прямые. Диагональ  $AC$  образует со стороной  $AB$  острый угол  $40^\circ$ , а со стороной  $AD$  — угол  $30^\circ$ . Найдите острый угол между диагоналями  $AC$  и  $BD$ .

**13.25.** В прямоугольном треугольнике  $ABC$  угол при вершине  $A$  равен  $60^\circ$ ,  $O$  — середина гипотенузы  $AB$ ,  $P$  — центр вписанной окружности. Найдите угол  $POC$ .

**13.26.** В параллелограмме  $ABCD$  острый угол равен  $\alpha$ . Окружность радиуса  $r$  проходит через вершины  $A$ ,  $B$ ,  $C$  и пересекает прямые  $AD$  и  $CD$  в точках  $M$  и  $N$ . Найдите площадь треугольника  $BMN$ .

**13.27.** Окружность, проходящая через вершины  $A$ ,  $B$  и  $C$  параллелограмма  $ABCD$ , пересекает прямые  $AD$  и  $CD$  в точках  $M$  и  $N$ . Точка  $M$  удалена от вершин  $B$ ,  $C$  и  $D$  на расстояния 4, 3 и 2 соответственно. Найдите  $MN$ .

**13.28.** В окружность вписан четырёхугольник  $ABCD$ , диагонали которого взаимно перпендикулярны и пересекаются в точке  $E$ . Прямая, проходящая через точку  $E$  и перпендикулярная к  $BC$ , пересекает сторону  $AD$  в точке  $M$ . Докажите, что  $EM$  — медиана треугольника  $AED$ , и найдите её длину, если  $AB = 7$ ,  $CE = 3$ ,  $\angle ADB = \alpha$ .

**13.29.** Дан треугольник  $ABC$ . Из вершины  $A$  проведена медиана  $AM$ , а из вершины  $B$  — медиана  $BP$ . Известно, что угол  $APB$  равен углу  $BMA$ . Косинус угла  $ACB$  равен 0,8 и  $BP = 1$ . Найдите площадь треугольника  $ABC$ .

**13.30.** В треугольнике  $ABC$  угол  $ABC$  равен  $\alpha$ , угол  $BCA$  равен  $2\alpha$ . Окружность, проходящая через точки  $A$ ,  $C$  и центр описанной около треугольника  $ABC$  окружности, пересекает сторону  $AB$  в точке  $M$ . Найдите отношение  $AM$  к  $AB$ .

**13.31.** Точка  $E$  лежит на продолжении стороны  $AC$  равностороннего треугольника  $ABC$  за точку  $C$ . Точка  $K$  — середина отрезка  $CE$ . Прямая, проходящая через точку  $A$  перпендикулярно  $AB$ , и прямая, проходящая через точку  $E$  перпендикулярно  $BC$ , пересекаются в точке  $D$ . Найдите углы треугольника  $BKD$ .

**13.32.** Вне равностороннего треугольника  $ABC$ , но внутри угла  $BAC$  взята точка  $M$ , причём  $\angle CMA = 30^\circ$ , а  $\angle BMA = \alpha$ . Найдите  $\angle ABM$ .

У к а з а н и е. Точка  $M$  лежит на окружности с центром  $B$ , проходящей через точки  $A$  и  $C$ .

**13.33.** В трапеции  $MNPQ$  ( $MQ \parallel NP$ ) угол  $NQM$  в два раза меньше угла  $MPN$ . Известно, что

$$NP = MP = \frac{13}{2}, \quad MQ = 12.$$

Найдите площадь трапеции.

**У к а з а н и е.** Точка  $Q$  лежит на окружности с центром  $P$ , проходящей через точки  $M$  и  $N$ .

**13.34.** Дан угол, равный  $\alpha$ . На его биссектрисе взята точка  $K$ ;  $P$  и  $M$  — проекции  $K$  на стороны угла. На отрезке  $PM$  взята точка  $A$ , причём  $KA = a$ . Прямая, проходящая через  $A$  перпендикулярно  $KA$ , пересекает стороны угла в точках  $B$  и  $C$ . Найдите площадь треугольника  $BKC$ .

**У к а з а н и е.**  $BK = CK$ .

**13.35.** На биссектрисе угла с вершиной  $L$  взята точка  $A$ . Точки  $K$  и  $M$  — основания перпендикуляров, опущенных из точки  $A$  на стороны угла. На отрезке  $KM$  взята точка  $P$  ( $KP < PM$ ), и через неё перпендикулярно отрезку  $AP$  проведена прямая, пересекающая прямую  $KL$  в точке  $Q$  ( $K$  между  $Q$  и  $L$ ), а прямую  $ML$  — в точке  $S$ . Известно, что  $\angle KLM = \alpha$ ,  $KM = a$ ,  $QS = b$ . Найдите  $QK$ .

**13.36.** В выпуклом четырёхугольнике  $ABCD$  проведены диагонали  $AC$  и  $BD$ . Известно, что  $AD = 2$ ,  $\angle ABD = \angle ACD = 90^\circ$ , а расстояние между центрами окружностей, вписанных в треугольники  $ABD$  и  $ACD$ , равно  $\sqrt{2}$ . Найдите  $BC$ .

**У к а з а н и е.** Из центров  $O_1$  и  $O_2$  окружностей, вписанных в треугольники  $ABD$  и  $ACD$ , отрезок  $AD$  виден под одним и тем же углом. Центр окружности, проходящей через точки  $O_1$ ,  $O_2$ ,  $A$  и  $D$ , лежит на описанной окружности четырёхугольника  $ABCD$ .

**13.37\*** В треугольнике  $ABC$  перпендикуляр, проходящий через середину стороны  $AB$ , пересекает прямую  $AC$  в точке  $M$ , а перпендикуляр, проходящий через середину стороны  $AC$ , пересекает прямую  $AB$  в точке  $N$ . Известно, что  $MN = BC$  и прямая  $MN$  перпендикулярна прямой  $BC$ . Найдите углы треугольника  $ABC$ .

**У к а з а н и е.** Рассмотрите два случая: угол  $B$  тупой или острый. Точки  $M$ ,  $N$  и середины сторон  $AB$  и  $AC$  лежат на одной окружности.

**13.38\*** В равносторонний треугольник  $ABC$  вписана полуокружность с центром  $O$  на стороне  $AB$ . Некоторая касательная к полуокружности пересекает стороны  $BC$  и  $AC$  в точках  $M$  и  $N$  соответственно, а прямая, проходящая через точки касания сторон  $AB$  и  $AC$  с полуокружностью, пересекает отрезки  $OM$  и  $ON$  соответственно в точках  $P$  и  $Q$ . Найдите  $PQ$ , если  $MN = 2$ .

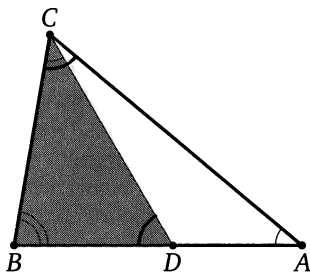
У к а з а н и е. Пусть  $D$  — точка касания полуокружности со стороной  $BC$ . Из точек  $D$  и  $O$  отрезок  $QM$  виден под одним и тем же углом,  $MQ$  — высота треугольника  $MON$ ,  $PQ = \frac{1}{2}MN$ .

## § 14. Вспомогательные подобные треугольники. Решение задачи 14 из диагностической работы

14. На стороне  $AB$  треугольника  $ABC$  отмечена точка  $D$ , причём  $\angle BCD = \angle BAC$ . Известно, что  $BC = a$ ,  $AC = b$ ,  $AB = c$ . Найдите  $CD$ .

Ответ:  $\frac{ab}{c}$ .

Решение. Треугольники  $CBD$  и  $ABC$  подобны по двум углам, т. к.  $\angle BCD = \angle BAC$  по условию, а угол при вершине  $B$  — общий. Значит, соответствующие стороны этих треугольников пропорциональны, т. е.  $\frac{CD}{AC} = \frac{BC}{AB}$ . Следовательно,  $CD = \frac{BC \cdot AC}{AB} = \frac{ab}{c}$ .

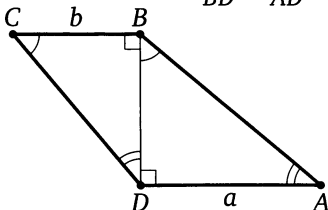


В некоторых, часто непростых, задачах ключевая идея состоит в отыскании пары подобных треугольников. Как правило, в одном из треугольников этой пары либо есть два известных отрезка, либо их легко найти, а в другом — один известный отрезок. Из соответствующей пропорции находят нужный отрезок.

**Пример 1.** В трапеции  $ABCD$  меньшая диагональ  $BD$  перпендикулярна основаниям  $AD$  и  $BC$ , а сумма острых углов при вершинах  $A$  и  $C$  равна  $90^\circ$ . Основания  $AD = a$ ,  $BC = b$ . Найдите боковые стороны трапеции.

Ответ:  $\sqrt{a(a+b)}$ ,  $\sqrt{b(a+b)}$ .

Решение. Каждый из углов  $BCD$  и  $ABD$  в сумме с углом  $A$  составляет  $90^\circ$ , поэтому  $\angle BCD = \angle ABD$ , значит, треугольники  $ABD$  и  $DCB$  подобны по двум углам. Тогда  $\frac{BC}{BD} = \frac{BD}{AD}$ .



Отсюда находим, что  $BD = \sqrt{BC \cdot AD} = \sqrt{ab}$ . Следовательно,

$$CD = \sqrt{BC^2 + BD^2} = \sqrt{b^2 + ab} = \sqrt{b(a+b)},$$

$$AB = \sqrt{BD^2 + AD^2} = \sqrt{a^2 + ab} = \sqrt{a(a+b)}.$$

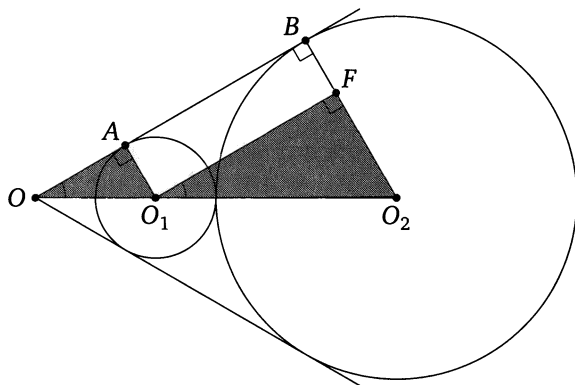
◀

**Пример 2.** К окружностям радиусов  $r$  и  $R$  ( $r < R$ ), касающимся внешним образом, проведены общие внешние касательные. Одна из них касается первой окружности в точке  $A$ , а второй — в точке  $B$ . Касательные пересекаются в точке  $O$ . Найдите  $OA$ .

Ответ:  $OA = \frac{2r\sqrt{rR}}{R-r}$ .

**Решение.** Из центра  $O_1$  первой окружности опустим перпендикуляр  $O_1F$  на радиус  $O_2B$  второй окружности. Тогда

$$O_1F = \sqrt{O_1O_2^2 - O_2F^2} = \sqrt{(r+R)^2 - (R-r)^2} = 2\sqrt{rR}.$$

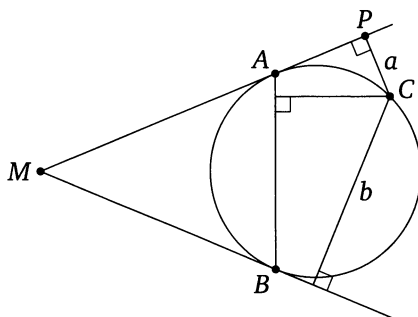


Прямоугольные треугольники  $OAO_1$  и  $O_1FO_2$  подобны, поэтому

$$\frac{O_1A}{OA} = \frac{O_2F}{O_1F}, \quad \text{или} \quad \frac{r}{OA} = \frac{R-r}{2\sqrt{rR}}.$$

Следовательно,  $OA = \frac{2r\sqrt{rR}}{R-r}$ . ◁

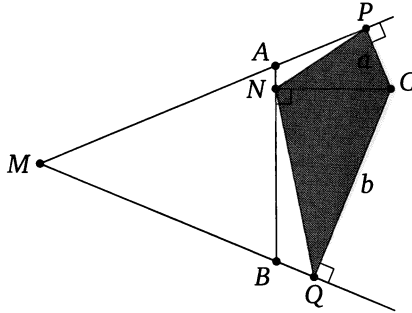
**Пример 3.** Из точки  $M$ , лежащей вне окружности, проведены к этой окружности две касательные. Расстояния от точки  $C$ , лежащей



на окружности, до касательных равны  $a$  и  $b$ . Найдите расстояние от точки  $C$  до прямой  $AB$ , где  $A$  и  $B$  — точки касания.

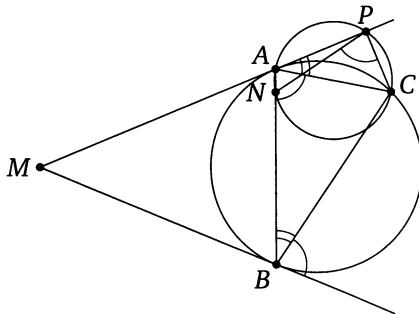
Ответ:  $\sqrt{ab}$ .

Решение. Пусть  $P, Q, N$  — основания перпендикуляров, опущенных из точки  $C$  на прямые  $MA, MB, AB$  соответственно. Докажем, что треугольник  $PCN$  подобен треугольнику  $NCQ$ .



Действительно, отрезок  $AC$  виден из точек  $P$  и  $N$  под прямым углом. Значит, точки  $P$  и  $N$  лежат на окружности с диаметром  $AC$ .

Аналогично точки  $N$  и  $Q$  лежат на окружности с диаметром  $BC$ . Поэтому  $\angle CPN = \angle CAN = \angle CAB$ , а из теоремы об угле между касательной и хордой следует, что  $\angle CAB = \angle CBQ = \angle CNQ$ , значит,  $\angle CPN = \angle CNQ$ . Аналогично  $\angle CNP = \angle CQN$ .



Значит, треугольники  $PCN$  и  $NCQ$  подобны по двум углам. Тогда  $\frac{CN}{CQ} = \frac{CP}{CN}$ , поэтому  $CN^2 = CP \cdot CQ = ab$ . Следовательно,  $CN = \sqrt{ab}$ .  $\triangleleft$

## Подготовительные задачи

14.1. Боковая сторона треугольника разделена на пять равных частей; через точки деления проведены прямые, параллельные основанию. Найдите отрезки этих прямых, заключённые между боковыми сторонами, если основание равно 20.

14.2. Точка  $M$  расположена на боковой стороне  $AB$  трапеции  $ABCD$ , причём  $AM : BM = 2 : 1$ . Прямая, проходящая через точку  $M$  параллельно основаниям  $AD$  и  $BC$ , пересекает боковую сторону  $CD$  в точке  $N$ . Найдите  $MN$ , если  $AD = 18$ ,  $BC = 6$ .

14.3. На боковых сторонах  $AB$  и  $CD$  трапеции  $ABCD$  отмечены точки  $M$  и  $N$  соответственно, причём  $\frac{AM}{MB} = \frac{DN}{NC} = \frac{3}{2}$ . Найдите  $MN$ , если  $BC = a$  и  $AD = b$ .

14.4. На диагоналях  $AC$  и  $BD$  трапеции  $ABCD$  взяты соответственно точки  $M$  и  $N$ , причём  $AM : MC = DN : NB = 1 : 4$ . Найдите  $MN$ , если основания  $AD = a$ ,  $BC = b$ , ( $a > b$ ).

14.5. В прямоугольный треугольник с катетами 6 и 8, вписан квадрат, имеющий с треугольником общий прямой угол. Найдите сторону квадрата.

14.6. В прямоугольном треугольнике  $ABC$  катет  $AB$  равен 21, а катет  $BC$  равен 28. Окружность, центр  $O$  которой лежит на гипотенузе  $AC$ , касается обоих катетов. Найдите радиус окружности.

14.7. Точка  $M$  лежит на боковой стороне  $AC$  равнобедренного треугольника  $ABC$  с основанием  $BC$ , причём  $BM = BC$ . Найдите  $MC$ , если  $BC = 1$  и  $AB = 2$ .

14.8. Точка  $D$  лежит на стороне  $AC$  треугольника  $ABC$ , причём  $\angle ABD = \angle BCA$ . Найдите отрезки  $AD$  и  $DC$ , если  $AB = 2$  и  $AC = 4$ .

14.9. Диагонали выпуклого четырёхугольника  $ABCD$  равны 12 и 18 и пересекаются в точке  $O$ . Найдите стороны четырёхугольника с вершинами в точках пересечения медиан треугольников  $AOB$ ,  $BOC$ ,  $COD$  и  $AOD$ .

## Тренировочные задачи

14.10. В круге проведены две хорды  $AB$  и  $CD$ , пересекающиеся в точке  $M$ ;  $K$  — точка пересечения биссектрисы угла  $BMD$  с хордой  $BD$ . Найдите отрезки  $BK$  и  $KD$ , если  $BD = 3$ , а площади треугольников  $CMB$  и  $AMD$  относятся как 1 : 4.



**14.11.** В прямоугольной трапеции основания равны 17 и 25, а большая боковая сторона равна 10. Через середину  $M$  этой стороны проведён к ней перпендикуляр, пересекающий продолжение второй боковой стороны в точке  $P$ . Найдите  $MP$ .

**14.12.** В трапеции  $ABCD$  даны основания  $AD = 12$  и  $BC = 8$ . На продолжении стороны  $BC$  отложен отрезок  $CM = 2,4$ . В каком отношении прямая  $AM$  делит площадь трапеции  $ABCD$ ?

**14.13.** Через точку пересечения диагоналей трапеции проведена прямая, параллельная основаниям. Найдите длину отрезка этой прямой, заключённого внутри трапеции, если основания трапеции равны  $a$  и  $b$ .

**14.14.** В угол вписаны касающиеся внешним образом окружности радиусов  $r$  и  $R$  ( $r < R$ ). Первая из них касается сторон угла в точках  $A$  и  $B$ . Найдите  $AB$ .

**14.15.** Основания трапеции равны  $a$  и  $b$ . Прямая, параллельная основаниям, разбивает трапецию на две трапеции, площади которых относятся как  $2 : 3$ . Найдите длину отрезка этой прямой, заключённого внутри трапеции.

**14.16.** Около окружности описана равнобедренная трапеция. Боковая сторона трапеции равна 4, отрезок, соединяющий точки касания боковых сторон с окружностью, равен 1. Найдите диаметр окружности.

**14.17.** В некоторый угол вписана окружность радиуса 5. Хорда, соединяющая точки касания, равна 8. К окружности проведены две касательные, параллельные хорде. Найдите стороны полученной трапеции.

**14.18.** Расстояние от центра  $O$  окружности, описанной около треугольника  $ABC$ , до стороны  $BC$  равно 1. Найдите расстояние от точки пересечения высот до вершины  $A$ .

**14.19.** Через точку  $C$  проведены две прямые, касающиеся заданной окружности в точках  $A$  и  $B$ . На большей из дуг  $AB$  взята точка  $D$ , для которой  $CD = 2$  и  $\sin \angle ACD \cdot \sin \angle BCD = \frac{1}{3}$ . Найдите расстояние от точки  $D$  до хорды  $AB$ .

**14.20.** В трапеции  $ABCD$  основание  $AB = a$ , основание  $CD = b$  ( $a < b$ ). Окружность, проходящая через вершины  $A$ ,  $B$  и  $C$ , касается стороны  $AD$ . Найдите диагональ  $AC$ .

**14.21.** Точка пересечения медиан треугольника  $ABC$ , вершина  $A$  и середины сторон  $AB$  и  $AC$  лежат на одной окружности. Найдите медиану, проведённую из вершины  $A$ , если  $BC = a$ .

**14.22.** Из вершины тупого угла  $A$  треугольника  $ABC$  опущена высота  $AD$ . Проведена окружность с центром в точке  $D$  радиусом, равным  $AD$ . Она пересекает стороны треугольника  $AB$  и  $AC$  в точках  $M$  и  $N$  соответственно. Найдите сторону  $AC$ , если известно, что  $AB = c$ ,  $AM = m$  и  $AN = n$ .

**14.23.** В треугольнике  $ABC$  угол  $C$  — тупой,  $D$  — точка пересечения прямой  $DB$ , перпендикулярной к  $AB$ , и прямой  $DC$ , перпендикулярной к  $AC$ . Высота треугольника  $ADC$ , проведённая из вершины  $C$ , пересекает  $AB$  в точке  $M$ . Известно, что  $AM = a$ ,  $MB = b$ . Найдите  $AC$ .

**14.24.** Через центр окружности, описанной около треугольника  $ABC$ , проведены прямые, перпендикулярные сторонам  $AC$  и  $BC$ . Эти прямые пересекают высоту  $CH$  треугольника или её продолжение в точках  $P$  и  $Q$ . Известно, что  $CP = p$ ,  $CQ = q$ . Найдите радиус окружности, описанной около треугольника  $ABC$ .

**14.25.** Через центр  $O$  окружности, описанной вокруг остроугольного треугольника  $ABC$ , проведена прямая, перпендикулярная  $BO$  и пересекающая отрезок  $AB$  в точке  $P$  и продолжение отрезка  $BC$  за точку  $C$  в точке  $Q$ . Найдите  $BP$ , если известно, что  $AB = c$ ,  $BC = a$  и  $BQ = p$ .

**14.26.** Четырёхугольник  $ABCD$  вписан в окружность. Диагональ  $AC$  является биссектрисой угла  $BAD$  и пересекается с диагональю  $BD$  в точке  $K$ . Найдите  $KC$ , если  $BC = 4$ , а  $AK = 6$ .

**14.27.** Продолжение медианы треугольника  $ABC$ , проведённой из вершины  $A$ , пересекает описанную около треугольника  $ABC$  окружность в точке  $D$ . Найдите  $BC$ , если  $AC = DC = 1$ .

**14.28.** Радиус окружности, описанной около треугольника  $KLM$ , равен  $R$ . Через вершину  $L$  проведена прямая, перпендикулярная стороне  $KM$ . Эту прямую пересекают в точках  $A$  и  $B$  серединные перпендикуляры к сторонам  $KL$  и  $LM$ . Известно, что  $AL = a$ . Найдите  $BL$ .

**14.29.** В окружности проведены диаметр  $MN$  и хорда  $AB$ , параллельная диаметру  $MN$ . Касательная к окружности в точке  $M$  пересекает прямые  $NA$  и  $NB$  соответственно в точках  $P$  и  $Q$ . Известно, что  $MP = p$ ,  $MQ = q$ . Найдите  $MN$ .

**14.30.** В трапеции  $ABCD$  с основаниями  $AD$  и  $BC$  диагонали  $AC$  и  $BD$  пересекаются в точке  $E$ . Вокруг треугольника  $ECB$  описана окружность, а касательная к этой окружности, проведённая в точке  $E$ , пересекает прямую  $AD$  в точке  $F$  таким образом, что точки  $A$ ,  $D$  и  $F$  лежат последовательно на этой прямой. Известно, что  $AF = a$ ,  $AD = b$ . Найдите  $EF$ .

У к а з а н и е. Треугольники  $AEF$  и  $EDF$  подобны.

**14.31\*** Боковая сторона  $AB$  трапеции  $ABCD$  перпендикулярна основаниям  $AD$  и  $BC$ . Прямая, перпендикулярная стороне  $CD$ , пересекает сторону  $AB$  в точке  $M$ , а сторону  $CD$  — в точке  $N$ . Известно также, что  $MC = a$ ,  $BN = b$ , а расстояние от точки  $D$  до прямой  $MC$  равно  $c$ . Найдите расстояние от точки  $A$  до прямой  $BN$ .

У к а з а н и е. Пусть  $AK$  и  $DL$  — высоты треугольников  $ABN$  и  $DCM$ . С помощью метода вспомогательной окружности докажите подобие этих треугольников.

**14.32\*** В треугольник  $ABC$  со сторонами  $AB = 6$ ,  $BC = 5$ ,  $AC = 7$  вписан квадрат, две вершины которого лежат на стороне  $AC$ , одна на стороне  $AB$  и одна на стороне  $BC$ . Через середину  $D$  стороны  $AC$  и центр квадрата проведена прямая, которая пересекается с высотой  $BH$  треугольника  $ABC$  в точке  $M$ . Найдите площадь треугольника  $DMC$ .

У к а з а н и е. Точка  $M$  — середина высоты  $BH$ .

**14.33\*** Две окружности касаются друг друга внутренним образом в точке  $A$ . Хорда  $BC$  в большей окружности касается меньшей в точке  $D$ . Прямая  $AD$  вторично пересекает большую окружность в точке  $M$ . Найдите  $MB$ , если  $MA = a$ ,  $MD = b$ .

У к а з а н и е.  $AM$  — биссектриса угла  $BAC$ , треугольники  $ABM$  и  $BDM$  подобны.

**14.34\*** Пятиугольник  $ABCDE$  вписан в окружность. Расстояния от точки  $A$  до прямых  $BC$ ,  $DC$  и  $DE$  равны соответственно  $a$ ,  $b$  и  $c$ . Найдите расстояние от вершины  $A$  до прямой  $BE$ .

У к а з а н и е. Пусть точки  $K$ ,  $L$ ,  $M$  и  $N$  — основания перпендикуляров, опущенных из вершины  $A$  на прямые  $BC$ ,  $DC$ ,  $DE$  и  $BE$  соответственно. Треугольники  $AKL$  и  $ANM$  подобны.

## § 15. Некоторые свойства высот и точки их пересечения.

### Решение задачи 15 из диагностической работы

15. Углы при вершинах  $A$  и  $C$  треугольника  $ABC$  равны  $45^\circ$  и  $60^\circ$  соответственно;  $AM$ ,  $BN$  и  $CK$  — высоты треугольника. Найдите отношение  $\frac{MN}{KN}$ .

Ответ:  $\frac{\sqrt{3}}{2}$ .

Решение. Из прямоугольных треугольников  $BNC$  и  $AMC$  находим, что

$$CN = BC \cos 60^\circ = \frac{1}{2}BC, \quad CM = AC \cos 60^\circ = \frac{1}{2}AC,$$

поэтому

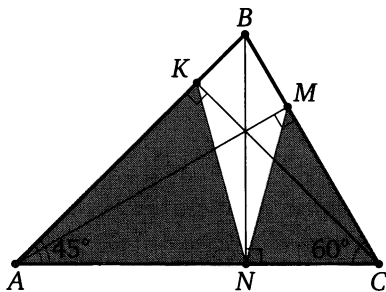
$$\frac{CN}{CM} = \frac{\frac{1}{2}BC}{\frac{1}{2}AC} = \frac{BC}{AC}.$$

Значит, треугольник  $CMN$  подобен треугольнику  $CAB$  по двум сторонам и углу между ними (угол  $C$  — общий), причём коэффициент подобия равен  $\frac{CM}{AC} = \frac{1}{2}$ . Следовательно,  $MN = \frac{1}{2}AB$ .

Аналогично получим, что треугольник  $AKN$  подобен треугольнику  $ACB$ , причём коэффициент подобия равен  $\frac{\sqrt{2}}{2}$ . Значит,  $KN = \frac{\sqrt{2}}{2}BC$ .

По теореме синусов

$$\frac{AB}{BC} = \frac{\sin 60^\circ}{\sin 45^\circ} = \frac{\sqrt{3}}{2} : \frac{\sqrt{2}}{2} = \frac{\sqrt{3}}{\sqrt{2}}.$$



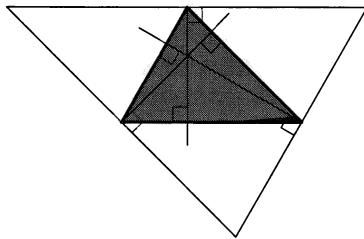
Следовательно,

$$\frac{MN}{KN} = \frac{\frac{1}{2}AB}{\frac{\sqrt{2}}{2}BC} = \frac{\sqrt{2}}{2} \cdot \frac{AB}{BC} = \frac{\sqrt{2}}{2} \cdot \frac{\sqrt{3}}{\sqrt{2}} = \frac{\sqrt{3}}{2}.$$

◁

\* \* \*

Известно, что серединные перпендикуляры к сторонам треугольника пересекаются в одной точке. Отсюда можно вывести, что прямые, на которых лежат высоты треугольника, также пересекаются в одной точке. Это можно сделать так. Через вершины данного треугольника проведём прямые, параллельные противоположным сторонам. Рассмотрим треугольник с вершинами в точках пересечения проведённых прямых. Высоты исходного треугольника лежат на серединных перпендикулярах построенного. Поэтому содержащие их прямые пересекаются в одной точке.



Отметим некоторые важные свойства высот и точки их пересечения — ортоцентра треугольника ( $AA_1$ ,  $BB_1$  и  $CC_1$  — высоты непрямоугольного треугольника  $ABC$ ,  $H$  — ортоцентр треугольника).

1) Точки  $B$ ,  $C$ ,  $B_1$  и  $C_1$  лежат на одной окружности, причём  $BC$  — её диаметр.

2) Треугольник  $ABB_1$  подобен треугольнику  $ACC_1$ .

3)  $\angle AB_1C_1 = \angle ABC$ .

4) Треугольник  $AB_1C_1$  подобен треугольнику  $ABC$ , причём коэффициент подобия равен  $|\cos \angle A|$ .

5) Расстояние от точки  $H$  до вершины треугольника вдвое больше расстояния от центра  $O$  описанной окружности до стороны, противоположной этой вершине.

6)  $\angle BAN = \angle CAO$ .

7)  $OA \perp B_1C_1$ .

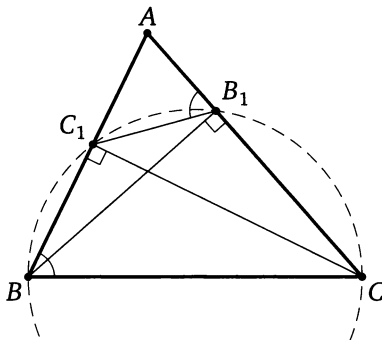
8) Точки, симметричные ортоцентру  $H$  относительно сторон треугольника, лежат на описанной окружности треугольника.

Докажем эти свойства для остроугольного треугольника. С некоторыми несущественными изменениями это доказательство годится и для тупоугольного.

**Доказательство.** Рассмотрим остроугольный треугольник  $ABC$ . Из точек  $B_1$  и  $C_1$  сторона  $BC$  видна под прямым углом, значит, эти точки лежат на окружности с диаметром  $BC$ .

Прямоугольные треугольники  $ABB_1$  и  $ACC_1$  подобны по двум углам. Противоположные углы  $CBC_1$  и  $CB_1C_1$  вписанного четырёхугольника  $BC_1B_1C$  в сумме составляют  $180^\circ$ , поэтому

$$\angle ABC = \angle C_1BC = 180^\circ - \angle CB_1C_1 = \angle AB_1C_1.$$

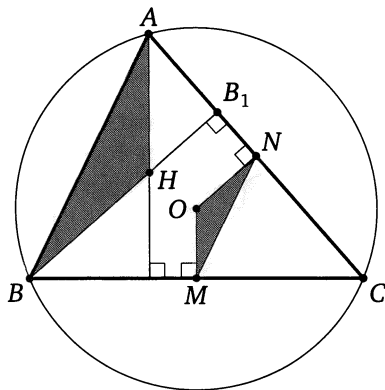


Треугольник  $AB_1C_1$  подобен треугольнику  $ABC$  по двум углам. Пусть  $k$  — коэффициент подобия. Тогда

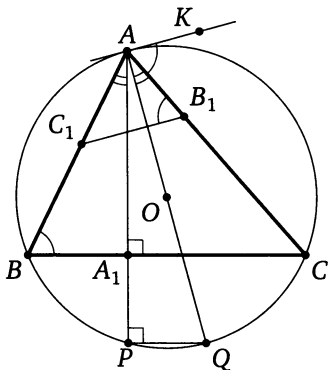
$$k = \frac{AC_1}{AC} = \cos \angle BAB_1 = \cos \angle BAC$$

( $AC_1$  и  $AC$  — соответствующие стороны подобных треугольников  $AB_1C_1$  и  $ABC$ , т. к. они лежат против равных углов, а  $\frac{AC_1}{AC}$  — отношение прилежащего к углу  $CAC_1$  катета к гипотенузе в прямоугольном треугольнике  $ACC_1$ ).

Перпендикуляры  $OM$  и  $ON$ , опущенные из центра  $O$  описанной окружности на стороны соответственно  $BC$  и  $AC$ , проходят через середины этих сторон. Тогда  $MN$  — средняя линия треугольника  $ABC$ .

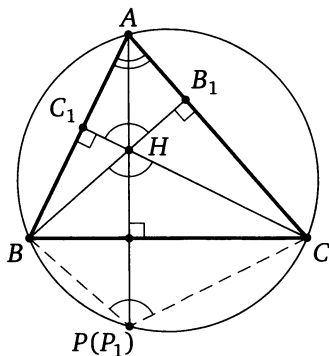


Значит,  $MN \parallel AB$  и  $MN = \frac{1}{2}AB$ , а т.к.  $OM \perp BC$  и  $AH \perp BC$ , то  $OM \parallel AH$ . Аналогично,  $ON \parallel BH$ . Треугольник  $AHB$  подобен треугольнику  $MON$  по двум углам, причём коэффициент подобия  $\frac{AB}{MN}$  равен 2. Следовательно,  $AH = 2OM$ .



Пусть лучи  $AA_1$  и  $AO$  пересекают описанную окружность в точках  $P$  и  $Q$  соответственно. Тогда  $\angle APQ = 90^\circ$ , поскольку точка  $P$  лежит на окружности с диаметром  $AQ$ . Хорды  $PQ$  и  $BC$  параллельны, т.к. они перпендикулярны одной и той же прямой  $AP$ , значит, заключённые между ними дуги  $CQ$  и  $BP$  равны. Тогда равны и опирающиеся на эти дуги вписанные углы  $CAQ$  и  $BAP$ . Следовательно,  $\angle BAN = \angle CAO$ .

На касательной к описанной окружности треугольника  $ABC$ , проведённой через точку  $A$ , отметим такую точку  $K$ , что точки  $K$  и  $B$  лежат по разные стороны от прямой  $AC$ . Из теоремы об угле между касательной и хордой следует, что  $\angle KAC = \angle ABC$ . По ранее доказанному  $\angle ABC = \angle AB_1C_1$ , значит,  $\angle KAC = \angle AB_1C_1$ . Следовательно,  $AK \parallel B_1C_1$ , а поскольку  $OA \perp AK$ , получаем  $OA \perp B_1C_1$ .

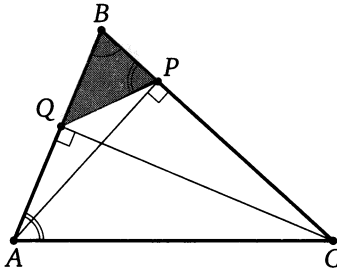


Заметим, что  $\angle BHC = \angle B_1HC_1 = 180^\circ - \angle BAC$ . Пусть  $P_1$  — точка, симметричная ортоцентру  $H$  относительно прямой  $BC$ . Тогда  $\angle BP_1C = \angle BHC$ , поэтому  $\angle BP_1C = \angle BHC = 180^\circ - \angle BAC$ . Значит, четырёхугольник  $ABP_1C$  — вписанный. Тогда точка  $P_1$  лежит на описанной окружности треугольника  $ABC$ , а значит, совпадает с точкой  $P$ . Что и требовалось доказать.  $\square$

**Пример 1.** В остроугольном треугольнике  $ABC$  из вершин  $A$  и  $C$  опущены высоты  $AP$  и  $CQ$  на стороны  $BC$  и  $AB$ . Известно, что площадь треугольника  $ABC$  равна 18, площадь треугольника  $BPQ$  равна 2, а  $PQ = 2\sqrt{2}$ . Найдите радиус окружности, описанной около треугольника  $ABC$ .

Ответ:  $\frac{9}{2}$ .

**Решение.** Треугольники  $BPQ$  и  $BAC$  подобны по двум углам. Поскольку отношение их площадей равно  $\frac{2}{18} = \frac{1}{9}$ , то коэффициент подобия равен  $\frac{1}{3}$ . Значит,  $AC = 3PQ = 6\sqrt{2}$ .



С другой стороны, коэффициент подобия равен  $\frac{BP}{AB} = \cos \angle B$ . Поэтому  $\cos \angle B = \frac{1}{3}$ . Тогда  $\sin \angle B = \frac{2\sqrt{2}}{3}$ . Если  $R$  — радиус описанной окружности треугольника  $ABC$ , то по теореме синусов

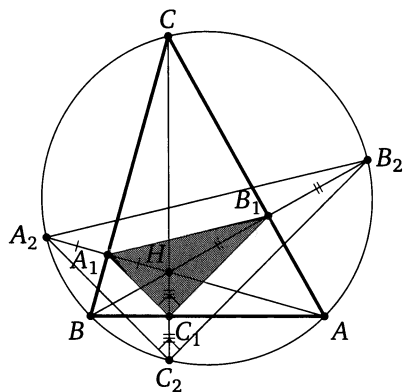
$$R = \frac{AC}{2 \sin \angle B} = 6\sqrt{2} : \left(2 \cdot \frac{2\sqrt{2}}{3}\right) = \frac{9}{2}. \quad \triangleleft$$

**Пример 2.** Отрезки, соединяющие основания высот остроугольного треугольника, образуют прямоугольный треугольник с гипотенузой, равной 10. Найдите радиус окружности, описанной около исходного треугольника.

Ответ: 10.

**Решение.** Пусть  $H$  — точка пересечения высот  $AA_1$ ,  $BB_1$ ,  $CC_1$  треугольника  $ABC$ ,  $\angle A_1C_1B_1 = 90^\circ$ ,  $A_1B_1 = 10$ ;  $A_2, B_2, C_2$  — точки пересечения продолжений высот соответственно  $AA_1, BB_1, CC_1$  с окружностью, описанной около треугольника  $ABC$ .



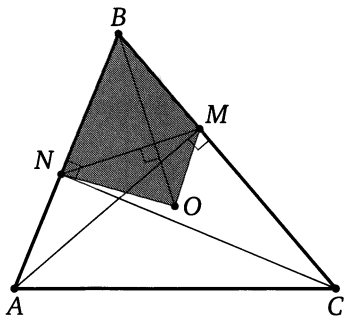


Тогда  $A_1, B_1, C_1$  — середины отрезков  $HA_2, HB_2, HC_2$ . Значит,  $A_1B_1, B_1C_1, A_1C_1$  — средние линии треугольников  $A_2HB_2, B_2HC_2, A_2HC_2$ , поэтому стороны треугольника  $A_2B_2C_2$  соответственно параллельны сторонам треугольника  $A_1B_1C_1$ , причём  $A_2B_2 = 2A_1B_1, A_2C_2 = 2A_1C_1, B_2C_2 = 2B_1C_1$ . Следовательно, треугольник  $A_2B_2C_2$  также прямоугольный, а его гипотенуза  $A_2B_2$  вдвое больше  $A_1B_1$ , т. е. равна 20. Следовательно, радиус окружности, описанной около треугольника  $A_2B_2C_2$  (а значит, и около треугольника  $ABC$ ), равен 10.  $\triangleleft$

**Пример 3.** В остроугольном треугольнике  $ABC$  проведены высоты  $AM$  и  $CN$ ,  $O$  — центр описанной около треугольника  $ABC$  окружности. Известно, что  $\angle ABC = \beta$ , а площадь четырёхугольника  $NOMB$  равна  $S$ . Найдите  $AC$ .

*Ответ:*  $2\sqrt{S \operatorname{ctg} \beta}$ .

**Решение.** Пусть  $OB = R$  — радиус описанной окружности треугольника  $ABC$ . Тогда  $OB \perp MN$  и  $OB = R = \frac{AC}{2 \sin \beta}$ .



Следовательно,

$$S = \frac{1}{2}MN \cdot OB = \frac{1}{2}AC \cos \beta \cdot \frac{AC}{2 \sin \beta} = \frac{1}{4}AC^2 \operatorname{ctg} \beta.$$

Отсюда находим, что  $AC = 2\sqrt{S \operatorname{tg} \beta}$ .

◁

## Подготовительные задачи

15.1. Сторона треугольника равна  $\sqrt{2}$ , углы, прилежащие к ней, равны  $75^\circ$  и  $60^\circ$ . Найдите отрезок, соединяющий основания высот, проведённых из вершин этих углов.

15.2. На стороне  $BC$  треугольника  $ABC$  как на диаметре построена окружность, пересекающая стороны  $AB$  и  $AC$  в точках  $M$  и  $N$ . Найдите площадь треугольника  $AMN$ , если площадь треугольника  $ABC$  равна  $S$ , а угол  $BAC$  равен  $\alpha$ .

15.3. Точка  $M$ , лежащая вне круга с диаметром  $AB$ , соединена с точками  $A$  и  $B$ . Отрезки  $MA$  и  $MB$  пересекают окружность в точках  $C$  и  $D$  соответственно. Площадь круга, вписанного в треугольник  $AMB$ , в четыре раза больше, чем площадь круга, вписанного в треугольник  $CMD$ . Найдите углы треугольника  $AMB$ , если известно, что один из них в два раза больше другого.

15.4. Отрезок  $AB$  — диаметр окружности, а точка  $C$  лежит вне окружности. Отрезки  $AC$  и  $BC$  пересекаются с окружностью в точках  $D$  и  $M$  соответственно. Найдите угол  $CBD$ , если площади треугольников  $DCM$  и  $ABC$  относятся как  $1:4$ .

15.5. В треугольнике  $ABC$  на средней линии  $DE$ , параллельной  $AB$ , как на диаметре построена окружность, пересекающая стороны  $AC$  и  $BC$  в точках  $M$  и  $N$ . Найдите  $MN$ , если  $BC = a$ ,  $AC = b$ ,  $AB = c$ .

15.6. В треугольнике  $ABC$  известно, что  $AB = c$ ,  $BC = a$ ,  $\angle ABC = 120^\circ$ . Найдите расстояние между основаниями высот, проведённых из вершин  $A$  и  $C$ .

15.7. В треугольнике  $ABC$  проведены высоты  $AD$  и  $CE$ . Найдите  $AC$ , если  $BC = a$ ,  $AB = b$ ,  $\frac{DE}{AC} = k$ .

15.8. Высоты  $BM$  и  $CN$  остроугольного неравностороннего треугольника  $ABC$  пересекаются в точке  $H$ . Сторону  $BC$  продолжили до пересечения с прямой  $MN$  в точке  $K$ . Сколько пар подобных треугольников при этом получилось?

## Тренировочные задачи

15.9. В остроугольном треугольнике  $ABC$  с углом  $C$ , равным  $30^\circ$ , высоты пересекаются в точке  $M$ . Найдите площадь треугольника  $AMB$ , если расстояние от центра окружности, описанной около треугольника  $ABC$ , до сторон  $BC$  и  $AC$  соответственно равны  $\sqrt{2}$  и  $\frac{\sqrt{3}}{3}$ .

15.10. В треугольнике  $ABC$  проведены высоты  $BM$  и  $CN$ ,  $O$  — центр вписанной окружности. Известно, что  $BC = 24$ ,  $MN = 12$ . Найдите радиус окружности, описанной около треугольника  $BOC$ .

15.11. Высоты треугольника  $ABC$  пересекаются в точке  $H$ . Известно, что отрезок  $CH$  равен радиусу окружности, описанной около треугольника. Найдите угол  $ACB$ .

15.12. Высоты треугольника  $ABC$  пересекаются в точке  $H$ . Известно, что  $CH = AB$ . Найдите угол  $ACB$ .

15.13. В треугольнике  $ABC$  известно, что  $AB = 2$ ,  $AC = 5$ ,  $BC = 6$ . Найдите расстояние от вершины  $B$  до точки пересечения высот.

15.14. На стороне  $AB$  треугольника  $ABC$  как на диаметре построена окружность, пересекающая стороны  $AC$  и  $BC$  в точках  $D$  и  $E$  соответственно. Прямая  $DE$  делит площадь треугольника пополам и образует с прямой  $AB$  угол  $15^\circ$ . Найдите углы треугольника  $ABC$ .

15.15. В остроугольном треугольнике  $ABC$  проведены высоты  $CM$  и  $AN$ . Известно, что  $AC = 2$ , а площадь круга, описанного около треугольника  $MBN$ , равна  $\frac{\pi}{3}$ . Найдите угол между высотой  $CM$  и стороной  $BC$ .

15.16. В остроугольном треугольнике  $ABC$  из вершин  $A$  и  $C$  на стороны  $BC$  и  $AB$  опущены высоты  $AP$  и  $CQ$ . Найдите сторону  $AC$ , если известно, что периметр треугольника  $ABC$  равен 15, периметр треугольника  $BPQ$  равен 9, а радиус окружности, описанной около треугольника  $BPQ$ , равен  $\frac{9}{5}$ .

15.17. Отрезки, соединяющие основания высот остроугольного треугольника, равны 5, 12 и 13. Найдите радиус описанной около треугольника окружности.

У к а з а н и е. Продлите высоты треугольника до пересечения с описанной окружностью. Получится треугольник, подобный данному с коэффициентом 2.

15.18. Отрезки, соединяющие основания высот остроугольного треугольника, равны 8, 15 и 17. Найдите площадь треугольника.

15.19. Продолжения высот  $AM$  и  $CN$  остроугольного треугольника  $ABC$  пересекают описанную около него окружность в точках  $P$  и  $Q$ . Найдите радиус описанной окружности, если  $AC = a$ ,  $PQ = \frac{6a}{5}$ .

У к а з а н и е. Пусть  $H$  — точка пересечения высот треугольника  $ABC$ . Тогда  $M$  — середина  $HP$ ,  $N$  — середина  $HQ$ , а треугольник  $BMN$  подобен треугольнику  $BAC$  с коэффициентом  $\cos \angle B$ .

**15.20.** В остроугольном треугольнике  $PQR$  ( $PQ > QR$ ) проведены высоты  $PT$  и  $RS$ ;  $QN$  — диаметр окружности, описанной около треугольника  $PQR$ . Известно, что острый угол между высотами  $PT$  и  $RS$  равен  $\alpha$ ,  $PR = a$ . Найдите площадь четырёхугольника  $NSQT$ .

У к а з а н и е.  $QN \perp ST$ .

**15.21\*** В треугольнике  $ABC$  проведены высота  $AH$ , равная  $h$ , медиана  $AM$ , равная  $m$ , и биссектриса  $AN$ . Точка  $N$  — середина отрезка  $MH$ . Найдите расстояние от вершины  $A$  до точки пересечения высот треугольника  $ABC$ .

У к а з а н и е. Пусть  $F$  — точка пересечения высот,  $O$  — центр описанной окружности треугольника  $ABC$ ,  $N_1$  — точка пересечения с этой окружностью продолжения биссектрисы  $AN$ . Тогда  $AF = 2OM$ ,  $N$  — середина  $AN_1$ , а треугольник  $ONN_1$  прямоугольный.

## Диагностическая работа 1

1. Около треугольника со сторонами 6, 8 и 10 описана окружность  $S$ . Найдите радиус окружности, касающейся меньшей стороны треугольника и окружности  $S$ .

2. Дан треугольник со сторонами  $AB = BC = 17$ ,  $AC = 30$ . Найдите общую хорду окружностей с диаметрами  $AB$  и  $AC$ .

3. В выпуклом четырёхугольнике  $ABCD$  известно, что  $\angle CBD = 58^\circ$ ,  $\angle ABD = 44^\circ$ ,  $\angle ADC = 78^\circ$ . Найдите угол  $CAD$ .

4. Окружность касается сторон  $AB$  и  $AD$  прямоугольника  $ABCD$  и пересекает сторону  $DC$  в единственной точке  $F$ , а сторону  $BC$  — в единственной точке  $E$ . Найдите площадь трапеции  $AFCB$ , если  $AB = 32$ ,  $AD = 40$  и  $BE = 1$ .

5. В треугольнике  $ABC$  проведены высоты  $AA_1$ ,  $BB_1$  и  $CC_1$ . Известно, что  $\angle BAC = 120^\circ$  и  $AA_1 = 6$ . Найдите высоту  $AP$  треугольника  $AB_1C_1$ .

6. Центр окружности, вписанной в четырёхугольник, лежит на его диагонали, равной 5. Известно, что периметр четырёхугольника равен 14, а площадь равна 12. Найдите вторую диагональ и стороны четырёхугольника.

## Диагностическая работа 2

1. Две стороны треугольника равны 10 и 12, а медиана, проведённая к третьей стороне, равна 5. Найдите третью сторону и площадь треугольника.

2. Окружности с центрами  $O_1$  и  $O_2$  касаются внешним образом. Кроме того, обе эти окружности касаются внутренним образом окружности радиуса  $R$  с центром  $O$ . Найдите периметр треугольника  $OO_1O_2$ .

3. Точки  $D$  и  $E$  расположены на стороне  $AC$  треугольника  $ABC$ . Прямые  $BD$  и  $BE$  разбивают медиану  $AM$  треугольника  $ABC$  на три равных отрезка. Найдите площадь треугольника  $BDE$ , если площадь треугольника  $ABC$  равна 1.

4. Сторона  $AB$  правильного шестиугольника  $ABCDEF$  равна  $\sqrt{3}$  и является хордой некоторой окружности, причём остальные стороны шестиугольника лежат вне этой окружности. Прямая, проходящая через вершину  $C$ , касается окружности в точке  $M$ . Известно, что  $CM = 3$ . Найдите диаметр окружности.

5. Центр окружности радиуса 6, касающейся сторон  $AB$ ,  $BC$  и  $CD$  равнобедренной трапеции  $ABCD$ , лежит на её большем основании  $AD$ . Основание  $BC$  равно 4. Найдите расстояние между точками, в которых окружность касается боковых сторон  $AB$  и  $CD$  этой трапеции.

6. Углы при вершинах  $A$  и  $B$  треугольника  $ABC$  равны  $75^\circ$  и  $45^\circ$  соответственно, отрезки  $AA_1$  и  $BB_1$  — высоты треугольника. Касательная к окружности, описанной около треугольника  $A_1B_1C$ , пересекается с прямой  $AA_1$  в точке  $K$ . Известно, что  $CK = a$ . Найдите радиус окружности, описанной около треугольника  $ABC$ .

### Диагностическая работа 3

1. Медиана и высота прямоугольного треугольника, проведённые из вершины прямого угла, равны 5 и 4. Найдите катеты.

2. Найдите периметр треугольника, один из углов которого равен  $\alpha$ , а радиусы вписанной и описанной окружностей равны  $r$  и  $R$  соответственно.

3. В треугольник  $ABC$  со сторонами  $AB = 18$  и  $BC = 12$  вписан параллелограмм  $BKLM$ , причём точки  $K$ ,  $L$  и  $M$  лежат на сторонах  $AB$ ,  $AC$  и  $BC$  соответственно. Известно, что площадь параллелограмма составляет  $\frac{4}{9}$  площади треугольника  $ABC$ . Найдите стороны параллелограмма.

4. Около прямоугольного треугольника  $ABC$  описана окружность. Расстояния от концов гипотенузы  $AB$  до прямой, касающейся окружности в точке  $C$ , равны  $a$  и  $b$  соответственно. Найдите катеты  $AC$  и  $BC$ .

5. В прямоугольном треугольнике  $ABC$  с прямым углом при вершине  $C$  сторона  $CA = 4$ . На катете  $BC$  взята точка  $D$ , причём  $CD = 1$ . Окружность радиуса  $\frac{\sqrt{5}}{2}$  проходит через точки  $C$  и  $D$  и касается в точке  $S$  окружности, описанной около треугольника  $ABC$ . Найдите площадь треугольника  $ABC$ .

6. На сторонах прямоугольного треугольника с катетами  $a$  и  $b$  построены квадраты, лежащие вне треугольника. Найдите площадь треугольника с вершинами в центрах квадратов.



## Диагностическая работа 4

1. На сторонах  $AB$ ,  $BC$  и  $AC$  треугольника  $ABC$ , площадь которого равна 75, расположены точки  $M$ ,  $N$  и  $K$  соответственно. Известно, что  $M$  — середина  $AB$ , площадь треугольника  $BMN$  равна 15, а площадь треугольника  $AMK$  равна 25. Найдите площадь треугольника  $CNK$ .

2. Окружность  $S$  с центром в вершине прямого угла прямоугольного треугольника касается окружности, вписанной в этот треугольник. Найдите радиус окружности  $S$ , если известно, что катеты треугольника равны 5 и 12.

3. Катеты прямоугольного треугольника равны 3 и 4. Найдите площадь треугольника с вершинами в точках касания вписанной окружности со сторонами треугольника.

4. Через середину боковой стороны равнобедренного треугольника со сторонами 12, 18, 18 проведена прямая, разбивающая треугольник на части, площади которых относятся как 1 : 2. Найдите длину отрезка этой прямой, заключённого внутри треугольника.

5. Окружность с центром  $O$ , вписанная в треугольник  $ABC$ , касается его сторон  $AB$  и  $AC$  в точках  $M$  и  $N$ . Окружность с центром  $Q$  вписана в треугольник  $AMN$ . Найдите  $OQ$ , если  $AB = 13$ ,  $BC = 15$  и  $AC = 14$ .

6. Биссектрисы внутренних углов треугольника продолжены до пересечения с описанной около треугольника окружностью. В результате попарного соединения этих точек получился новый треугольник. Известно, что углы исходного треугольника равны  $30^\circ$ ,  $60^\circ$  и  $90^\circ$ , а его площадь равна 2. Найдите площадь нового треугольника.

## Диагностическая работа 5

1. На катете  $BC$  прямоугольного треугольника  $ABC$  как на диаметре построена окружность, пересекающая гипотенузу  $AB$  в точке  $D$ , причём  $AD : BD = 1 : 3$ . Высота, опущенная из вершины  $C$  прямого угла на гипотенузу, равна 3. Найдите катет  $BC$ .

2. Диагональ равнобедренной трапеции делит её тупой угол пополам. Меньшее основание трапеции равно 3, периметр равен 42. Найдите площадь трапеции.

3. Окружности радиусов  $r$  и  $R$  касаются внешним образом в точке  $K$ . Прямая касается этих окружностей в различных точках  $A$  и  $B$ . Найдите площадь треугольника  $AKB$ .

4. Найдите косинус угла при основании равнобедренного треугольника, если известно, точка пересечения высот треугольника лежит на его вписанной окружности.

5. Точка  $M$  делит среднюю линию треугольника  $ABC$ , параллельную стороне  $BC$ , на отрезки, один из которых в три раза длиннее другого. Точка  $N$  также делит сторону  $BC$  на отрезки, один из которых в три раза длиннее другого. В каком отношении прямая  $MN$  делит площадь треугольника  $ABC$ ?

6. Площадь ромба  $ABCD$  равна 2. В треугольник  $ABD$  вписана окружность, которая касается стороны  $AB$  в точке  $K$ . Через точку  $K$  проведена прямая  $KL$ , параллельная диагонали  $AC$  ромба (точка  $L$  лежит на стороне  $BC$ ). Известно, что площадь треугольника  $KLB$  равна  $\frac{1}{3}$ . Найдите косинус угла  $BAD$ .

## Диагностическая работа 6

1. Найдите радиус окружности, касающейся двух concentрических (имеющих один и тот же центр) окружностей радиусов 3 и 5.

2. Окружность, построенная как на диаметре на меньшей боковой стороне прямоугольной трапеции, касается большей боковой стороны, равной  $a$ . Найдите среднюю линию трапеции.

3. Точка  $D$  делит основание  $BC$  равнобедренного треугольника  $ABC$  на два отрезка, один из которых на 4 больше другого. Найдите расстояние между точками, в которых вписанные окружности треугольников  $ABD$  и  $ACD$  касаются отрезка  $AD$ .

4. Диагонали  $AC$  и  $BD$  вписанного в окружность четырёхугольника  $ABCD$  пересекаются в точке  $Q$  под прямым углом. Прямые  $AB$  и  $CD$  пересекаются в точке  $P$ . Известно, что  $BC = 5$ ,  $AD = 10$ ,  $BQ = 3$ . Найдите  $AP$ .

5. Прямая, параллельная стороне  $AB$  треугольника  $ABC$ , касается его вписанной окружности. Отрезок этой прямой, заключённый внутри треугольника, равен 2,4. Найдите сторону  $AB$ , если известно, что периметр треугольника  $ABC$  равен 20.

6. Дан равнобедренный треугольник  $ABC$  с основанием  $AC$ . Окружность радиуса  $R$  с центром в точке  $O$  проходит через точки  $A$  и  $B$  и пересекает прямую  $BC$  в точке  $M$ , отличной от  $B$  и  $C$ . Найдите расстояние от точки  $O$  до центра окружности, описанной около треугольника  $ACM$ .

## Приложение. Список полезных фактов

1. а) Биссектрисы смежных углов перпендикулярны.
- б) Биссектрисы внутренних односторонних углов при двух параллельных прямых и секущей перпендикулярны.
2. а) Если биссектрисы, проведённые из вершин  $B$  и  $C$  треугольника  $ABC$ , пересекаются в точке  $O$ , то  $\angle BOC = 90^\circ + \frac{1}{2}\angle A$ .
- б) Если биссектрисы внешних углов при вершинах  $B$  и  $C$  треугольника  $ABC$  пересекаются в точке  $Q$ , то  $\angle BQC = 90^\circ - \frac{1}{2}\angle A$ .
3. а) Если медиана треугольника равна половине стороны, к которой она проведена, то треугольник прямоугольный.
- б) Медиана прямоугольного треугольника, проведённая из вершины прямого угла, равна половине гипотенузы.
4. а) Отрезок, соединяющий середины диагоналей трапеции, равен полуразности оснований.
- б) Если сумма углов при одном из оснований трапеции равна  $90^\circ$ , то отрезок, соединяющий середины оснований трапеции, равен их полуразности.
5. Проекция боковой стороны равнобедренной трапеции на основание равна полуразности оснований, а проекция диагонали — сумме оснований.
6. Свойства окружности.
  - а) Диаметр, перпендикулярный хорде, делит её пополам.
  - б) Диаметр, проходящий через середину хорды, не являющейся диаметром, перпендикулярен этой хорде.
  - в) Серединный перпендикуляр к хорде проходит через центр окружности.
  - г) Равные хорды удалены от центра окружности на равные расстояния.
  - д) Хорды окружности, удалённые от центра на равные расстояния, равны.
  - е) Окружность симметрична относительно центра и относительно любого своего диаметра.
  - ж) Дуги окружности, заключённые между параллельными хордами, равны.
7. а) *Замечательное свойство окружности.* Геометрическое место точек  $M$ , из которых отрезок  $AB$  виден под прямым углом ( $\angle AMB = 90^\circ$ ), есть окружность с диаметром  $AB$  без точек  $A$  и  $B$ .

б) Геометрическое место точек  $M$ , из которых отрезок  $AB$  виден под острым углом ( $\angle AMB < 90^\circ$ ), есть внешность круга с диаметром  $AB$  без точек прямой  $AB$ .

в) Геометрическое место точек  $M$ , из которых отрезок  $AB$  виден под тупым углом ( $\angle AMB > 90^\circ$ ), есть внутренность круга с диаметром  $AB$  без точек отрезка  $AB$ .

г) Геометрическое место точек, из которых отрезок  $AB$  виден под данным углом, есть две дуги равных окружностей с общей хордой  $AB$ , лежащие по разные стороны от прямой  $AB$ , без точек  $A$  и  $B$ .

8. а) Линия центров двух пересекающихся окружностей перпендикулярна их общей хорде и делит её пополам.

б) Линия центров двух касающихся окружностей проходит через точку касания.

9. а) Радиус окружности, вписанной в прямоугольный треугольник с катетами  $a$ ,  $b$  и гипотенузой  $c$ , равен  $\frac{a+b-c}{2}$ .

б) Если  $M$  — точка касания со стороной  $AC$  окружности, вписанной в треугольник  $ABC$ , то  $AM = p - BC$ , где  $p$  — полупериметр треугольника.

в) Если окружность касается стороны  $BC$  треугольника  $ABC$  и продолжений сторон  $AB$  и  $AC$ , то расстояние от вершины  $A$  до точки касания окружности с прямой  $AB$  равно полупериметру треугольника  $ABC$ .

г) Если окружность, вписанная в треугольник  $ABC$ , касается сторон  $AB$ ,  $BC$  и  $AC$  соответственно в точках  $K$ ,  $L$  и  $M$ , а  $\angle BAC = \alpha$ , то  $\angle KLM = 90^\circ - \frac{\alpha}{2}$ .

д) Если прямые, проходящие через точку  $A$ , касаются окружности  $S$  в точках  $B$  и  $C$ , то центр вписанной окружности треугольника  $ABC$  лежит на окружности  $S$ .

е) Если расстояние между центрами окружностей радиусов  $r$  и  $R$  равно  $a$  и  $a > R + r$ , то отрезки общих внешних и общих внутренних касательных, заключённые между точками касания, равны соответственно

$$\sqrt{a^2 - (R-r)^2} \quad \text{и} \quad \sqrt{a^2 - (R+r)^2}.$$

10. Если окружности радиусов  $r$  и  $R$  с центрами  $O_1$  и  $O_2$  касаются внешним образом в точке  $K$ , а прямая касается этих окружностей в различных точках  $A$  и  $B$  и пересекается с общей касательной, проходящей через точку  $K$ , в точке  $C$ , то  $\angle AKB = 90^\circ$  и  $\angle O_1CO_2 = 90^\circ$ , а отрезок  $AB$  общей внешней касательной окружностей равен отрезку общей внутренней касательной, заключённому между общими внешними. Оба эти отрезка равны  $2\sqrt{Rr}$ .

11. а) Угол между касательной и хордой, проведённой через точку касания, равен половине угловой величины дуги, заключённой между ними.

б) Угол между пересекающимися хордами равен полусумме противоположных дуг, отсекаемых хордами.

в) Угол между двумя секущими равен полуразности дуг, отсекаемых секущими на окружности.

12. а) Если прямая, проходящая через точку  $A$  и центр  $O$  вписанной окружности треугольника  $ABC$ , вторично пересекает описанную окружность треугольника в точке  $M$ , то треугольники  $BOM$  и  $SOM$  равнобедренные.

б) *Формула Эйлера.* Если  $O_1, O_2$  — центры вписанной и описанной окружностей треугольника  $ABC$ , а  $r$  и  $R$  — радиусы этих окружностей то  $O_1O_2 = \sqrt{R^2 - 2rR}$ .

13. а) Если четырёхугольник можно вписать в окружность, то сумма его противоположных углов равна  $180^\circ$ .

б) Если сумма противоположных углов четырёхугольника равна  $180^\circ$ , то около него можно описать окружность.

14. а) Если в четырёхугольник можно вписать окружность, то суммы его противоположных сторон равны.

б) Если суммы противоположных сторон выпуклого четырёхугольника равны, то в него можно вписать окружность.

15. а) Если в трапецию можно вписать окружность, то боковая сторона трапеции видна из центра окружности под прямым углом.

б) Если окружность вписана в равнобедренную трапецию, то боковая сторона трапеции равна её средней линии.

в) Если в трапецию можно вписать окружность, то радиус окружности есть среднее пропорциональное (среднее геометрическое) отрезков, на которые точка касания делит боковую сторону.

16. а) *Замечательное свойство трапеции.* Точка пересечения диагоналей трапеции, точка пересечения продолжений боковых сторон и середины оснований лежат на одной прямой.

б) Отрезок прямой, параллельной основаниям трапеции, заключённый внутри трапеции, разбивается её диагоналями на три части. Тогда отрезки, прилегающие к боковым сторонам, равны.

в) Если через точку пересечения диагоналей трапеции с основаниями  $a$  и  $b$  проведена прямая, параллельная основаниям, то отрезок этой прямой, заключённый между боковыми сторонами трапеции, равен  $\frac{2ab}{a+b}$ .

г) Если трапеция разделена прямой, параллельной её основаниям, равным  $a$  и  $b$ , на две равновеликие трапеции, то отрезок этой прямой, заключённый между боковыми сторонами, равен  $\sqrt{\frac{a^2 + b^2}{2}}$ .

д) Если трапеция разделена прямой, параллельной её основаниям, равным  $a$  и  $b$ , на две подобные трапеции, то отрезок этой прямой, заключённый между боковыми сторонами, равен  $\sqrt{ab}$ .

17. а) Если  $BM$  и  $CN$  — высоты треугольника  $ABC$ , то треугольник  $AMN$  подобен треугольнику  $ABC$ , причём коэффициент подобия равен  $|\cos \angle A|$ .

б) Если  $H$  — точка пересечения высот треугольника  $ABC$ , а  $O$  — центр его описанной окружности, то отрезок  $AH$  вдвое больше расстояния от точки  $O$  до середины стороны  $BC$ .

в) Точки  $O$ ,  $H$  и точка  $M$  пересечения медиан треугольника  $ABC$  лежат на одной прямой (*прямая Эйлера*), причём точка  $M$  лежит на отрезке  $OH$  и  $OM : MH = 1 : 2$ .

г) Если  $BM$  и  $CN$  — высоты треугольника  $ABC$ , а  $O$  — центр описанной окружности, то  $OA \perp MN$ .

д) Точки, симметричные точке пересечения высот (ортоцентру) треугольника  $ABC$  относительно прямых  $AB$ ,  $AC$  и  $BC$ , лежат на описанной окружности треугольника  $ABC$ .

е) Точки, симметричные точке пересечения высот треугольника  $ABC$  относительно середин его сторон, лежат на описанной окружности треугольника  $ABC$ .

ж) Если  $AK$ ,  $BM$  и  $CN$  — высоты остроугольного треугольника  $ABC$ , то биссектрисы треугольника  $KMN$  (ортотреугольника треугольника  $ABC$ ) лежат на прямых  $AK$ ,  $BM$  и  $CN$ . Если же треугольник  $ABC$  тупоугольный, то на этих прямых лежат биссектрисы двух внешних и третьего внутреннего углов треугольника  $KMN$ .

18. а) Произведения отрезков пересекающихся хорд окружности равны.

б) *Теорема о касательной и секущей и следствие из неё.* Если из одной точки проведены к окружности касательная и секущая, то произведение всей секущей на её внешнюю часть равно квадрату касательной.

Произведение всей секущей на её внешнюю часть для данной точки и данной окружности постоянно.

в) Прямая, проходящая через точки пересечения двух окружностей, делит пополам общую касательную к ним.

г) Общие хорды (или их продолжения) трёх попарно пересекающихся окружностей проходят через одну точку либо параллельны.

19. Средние пропорциональные в прямоугольном треугольнике. Высота прямоугольного треугольника, проведённая из вершины прямого угла, есть среднее пропорциональное (среднее геометрическое) проекций катетов на гипотенузу, а каждый катет есть среднее пропорциональное гипотенузы и своей проекции на гипотенузу.

20. а) Следствие из теоремы косинусов. Сумма квадратов диагоналей параллелограмма равна сумме квадратов всех его сторон.

б) Формула для медианы треугольника. Если  $m_c$  — медиана треугольника, проведённая к стороне  $c$ , то  $m_c = \frac{1}{2}\sqrt{2a^2 + 2b^2 - c^2}$ , где  $a$  и  $b$  — остальные стороны треугольника.

21. Формулы для биссектрисы треугольника. Если  $a$  и  $b$  — стороны треугольника,  $\gamma$  — угол между ними,  $l$  — биссектриса треугольника, проведённая из вершины этого угла, а  $a'$  и  $b'$  — отрезки, на которые биссектриса делит третью сторону треугольника, то

$$l = \frac{2ab \cos \frac{\gamma}{2}}{a+b}, \quad l^2 = ab - a'b'.$$

22. Формулы для площади треугольника. Если  $a$ ,  $b$  и  $c$  — стороны треугольника,  $\alpha$ ,  $\beta$  и  $\gamma$  — противолежащие им углы,  $h_a$ ,  $h_b$  и  $h_c$  — высоты, проведённые из вершин этих углов,  $p$  — полупериметр треугольника,  $R$  — радиус описанной окружности,  $r$ ,  $r_a$ ,  $r_b$  и  $r_c$  — радиусы вписанной и невписанных окружностей, касающихся сторон  $a$ ,  $b$  и  $c$  соответственно, а  $S$  — площадь треугольника, то

$$S = \frac{1}{2}ah_a, \quad S = \frac{1}{2}ab \sin \gamma, \quad S = \frac{abc}{4R}, \quad S = pr, \quad S = (p-a)r_a,$$

$$S = \sqrt{p(p-a)(p-b)(p-c)} \quad (\text{формула Герона}),$$

$$S = 2R^2 \sin \alpha \sin \beta \sin \gamma, \quad S = \frac{a^2 \sin \beta \sin \gamma}{2 \sin(\beta + \gamma)}, \quad S = \frac{h_b h_c}{2 \sin \alpha}, \quad S = \sqrt{r r_a r_b r_c}.$$

23. а) Площадь четырёхугольника с перпендикулярными диагоналями равна половине произведения диагоналей.

б) Площадь любого четырёхугольника равна половине произведения диагоналей на синус угла между ними.

24. а) Медиана разбивает треугольник на два равновеликих.

б) Три медианы разбивают треугольник на шесть равновеликих.

в) Если площадь треугольника равна  $S$ , то площадь треугольника, составленного из его медиан, равна  $\frac{3}{4}S$ .

г) Если точка  $M$  лежит на стороне  $BC$  треугольника  $ABC$  или на её продолжении, то  $\frac{S_{\triangle AMB}}{S_{\triangle AMC}} = \frac{BM}{MC}$ .



д) Если точки  $P$  и  $Q$  лежат на сторонах  $AB$  и  $AC$  или на их продолжениях, то  $\frac{S_{\Delta APQ}}{S_{\Delta ABC}} = \frac{AP}{AB} \cdot \frac{AQ}{AC}$ .

25. а) Середины сторон любого четырёхугольника являются вершинами параллелограмма, причём площадь параллелограмма вдвое меньше площади четырёхугольника.

б) Середины двух противоположных сторон любого четырёхугольника и середины его диагоналей либо являются вершинами параллелограмма, либо лежат на одной прямой.

26. Диагонали четырёхугольника перпендикулярны тогда и только тогда, когда суммы квадратов противоположных сторон равны.

27. Если диагонали  $AC$  и  $BD$  четырёхугольника  $ABCD$ , вписанного в окружность радиуса  $R$  с центром  $O$ , пересекаются в точке  $P$  и перпендикулярны, то

а) расстояние от точки  $P$  до стороны  $AB$  вдвое меньше стороны  $CD$ ;

б) медиана  $PM$  треугольника  $APD$  перпендикулярна стороне  $BC$ ;

в)  $AB^2 + CD^2 = AD^2 + BC^2 = 8R^2$ ,  $PA^2 + PB^2 + PC^2 + PD^2 = 4R^2$ ;

г) площадь четырёхугольника  $ABCD$  равна  $\frac{1}{2}(AB \cdot CD + BC \cdot AD)$ , причём для любого другого четырёхугольника  $ABCD$  с теми же сторонами площадь меньше, чем  $\frac{1}{2}(AB \cdot CD + BC \cdot AD)$ .

28. Две окружности касаются внутренним образом в точке  $M$ . Если  $AB$  — хорда большей окружности, касающаяся меньшей окружности в точке  $T$ , то  $MT$  — биссектриса угла  $AMB$ .

29. Если вписанная окружность касается сторон  $AB$  и  $AC$  треугольника  $ABC$  в точках  $M$  и  $N$ , а  $P$  — точка пересечения прямой  $MN$  с биссектрисой угла  $B$ , то  $\angle BPC = 90^\circ$ .

30. *Окружность Аполлония.* Геометрическое место точек, расстояния от каждой из которых до двух данных точек относятся как  $m : n$  ( $m \neq n$ ), есть окружность.

31. *Теорема Птолемея.* Сумма произведений противоположных сторон вписанного четырёхугольника равна произведению его диагоналей.

## Литература

1. *Атанасян Л. С., Бутузов В. Ф., Кадомцев С. Б., Позняк Э. Г., Юдина И. И.* Геометрия. Учебник для общеобразовательных учреждений. М.: Просвещение, 2009.
2. *Гордин Р. К.* Геометрия. Планиметрия. 7—9 классы. М.: МЦНМО, 2008.
3. *Гордин Р. К.* Это должен знать каждый матшкольник. М.: МЦНМО, 2008.
4. *Погорелов А. В.* Геометрия 7—9. М.: Просвещение, 2009.
5. *Прасолов В. В.* Задачи по планиметрии. М.: МЦНМО, 2007.
6. Сборник задач по математике для поступающих в вузы / Под ред. М. И. Сканави. М.: ОНИКС 21 век, АЛЬЯНС-В, 2000.
7. *Смирнов В. А., Смирнова И. М.* Геометрия 7—9. М.: Мнемозина, 2009.
8. *Смирнов В. А., Смирнова И. М.* Геометрия 10—11. Учебник для общеобразовательных учреждений. М.: Мнемозина, 2009.
9. *Ткачук В. В.* Математика — абитуриенту. М.: МЦНМО, 2008.
10. *Шарыгин И. Ф.* Факультативный курс по математике. Решение задач. М.: Просвещение, 1989.

## ОТВЕТЫ

### Диагностическая работа

1.  $\frac{c}{2}$ ;  $\frac{c}{2} \cdot \sqrt{1+3\cos^2\alpha}$ ;  $\frac{c}{2} \cdot \sqrt{1+3\sin^2\alpha}$ . 2.  $\frac{1}{2}$ . 3.  $\sqrt{21}$ . 4. 37,2. 5.  $2\sqrt{3}$ . 6.  $\frac{1}{4}$ .  
7. 60. 8. 2R. 9.  $45^\circ$ . 10.  $\frac{12}{5}$ . 11. 16,9; 2,4; 14,3. 12.  $\frac{4}{3}R^2\sqrt{2}$ . 13.  $150^\circ$   
и  $210^\circ$ . 14.  $\frac{ab}{c}$ . 15.  $\frac{\sqrt{3}}{2}$ .

### §1. Подготовительные задачи

- 1.1. 2. 1.2.  $2m, m, m\sqrt{3}$ . 1.3. 3; 4; 5. 1.4.  $\frac{4}{5}$ . 1.5.  $30^\circ, 60^\circ$ . 1.6.  $30^\circ, 60^\circ$ .  
1.7.  $\frac{b^2(b^2-a^2)}{a^2+b^2}$ . 1.8.  $\frac{4}{\sqrt{17}}$ . 1.9.  $\frac{a\sqrt{2(1\pm\sin\alpha)}}{\cos\alpha} = \frac{a}{\sin\left(45^\circ \pm \frac{\alpha}{2}\right)}$ .

### Тренировочные задачи

- 1.10.  $\sqrt{2mn} - m, \sqrt{2mn} - n, n + m - \sqrt{2mn}$ . 1.11.  $5\sqrt{2}$ . 1.12.  $\frac{5\sqrt{13}}{12}$ .  
1.13.  $2\sqrt{\frac{22-12\sqrt{3}}{3}}$ . 1.14.  $\frac{3\sqrt{6}-2}{4}$ . 1.15.  $\frac{15\sqrt{3}}{2}$ . 1.16. 5; 3. 1.17.  $9\sqrt{5}$ .  
1.18.  $\frac{1}{2}(1 + 2\cos 2\alpha)^2 \operatorname{tg} 2\alpha$ . 1.19. 40. 1.20.  $30^\circ, 60^\circ$ . 1.21.  $\frac{2bc}{b+c}$ .  
1.22.  $90^\circ, 30^\circ, 60^\circ$ . 1.23.  $15\sqrt{3}$ . 1.24\*  $75^\circ$ . 1.25\*  $\frac{25\sqrt{7}}{12}a^2$ . 1.26\*  $110^\circ$ .

### §2. Подготовительные задачи

- 2.1.  $\frac{2m \sin \beta}{\sin(\alpha + \beta)}, \frac{2m \sin \alpha}{\sin(\alpha + \beta)}$ . 2.2.  $30^\circ$ . 2.3. 270. 2.4.  $\frac{19}{2}$ . 2.5. 30. 2.6.  $\sqrt{10}$ .  
2.7. 6. 2.8.  $60^\circ$ . 2.9.  $\arccos \frac{4m^2 - c^2 - b^2}{2cb}$ .

### Тренировочные задачи

- 2.10. 48. 2.11. 8. 2.12. 64. 2.13.  $48\sqrt{6}$ . 2.14.  $\frac{245}{8}$ . 2.15.  $\frac{1323}{20}$ .  
2.16\*  $\frac{1}{2}\sqrt{2b^2 - 4a^2}$ .

### §3. Подготовительные задачи

- 3.1. 20. 3.2.  $\sqrt{2}$ . 3.3.  $ab$ . 3.4. 4; 8; 4; 8. 3.5. 1. 3.6.  $\frac{\sqrt{b^2 - a^2}}{2}$ . 3.7. 2.

**Тренировочные задачи**

- 3.8.  $4\sqrt{2}$ , 18. 3.9.  $|a - b|$ . 3.10. 14. 3.11. 48. 3.12.  $\frac{ab}{4}$ . 3.13. 5. 3.14.  $\frac{ab}{2}$ .  
 3.15.  $\frac{1}{2}\sqrt{c^2 + d^2 \pm cd\sqrt{2}}$ . 3.16.  $\sqrt{42}$ . 3.17.  $60^\circ$ ,  $120^\circ$ . 3.18. 5. 3.19.  $a + b$ .  
 3.20.  $\frac{a+b}{\sqrt{2}}$ . 3.21.  $90^\circ$ . 3.22.  $\sqrt{\frac{13}{3}}$  или  $\sqrt{\frac{19}{3}}$ . 3.23. 4. 3.24\* 4.

**§ 4. Подготовительные задачи**

- 4.1. 450. 4.2. 54. 4.3. 024. 4.4. 25. 4.5. 39 или 9. 4.6. 5. 4.7.  $90^\circ$ . 4.8. 9.  
 4.9.  $120^\circ$ . 4.10.  $\frac{a-b}{2}$ . 4.11.  $\frac{a^2-b^2}{4}$ .

**Тренировочные задачи**

- 4.12. 4 : 3. 4.13.  $\sqrt{\frac{S}{\sin \alpha}}$ . 4.14.  $\sqrt{ab}$ . 4.15.  $\frac{10}{3}R$ ,  $4R$ ,  $2R$ . 4.16.  $\sqrt{b^2 + \frac{a^2}{4}}$ .  
 4.17. 4;  $\frac{5\sqrt{41}}{4}$ . 4.18.  $\frac{1}{2}\sqrt{a^2 + 6ab + b^2}$ . 4.19. 900 или 780. 4.20.  $\frac{ab}{4}$ .  
 4.21.  $8\sqrt{5}$ ,  $4\sqrt{5}$ . 4.22.  $\frac{h}{\sqrt{3}}$ . 4.23.  $40^\circ$  или  $80^\circ$ . 4.24. 14; 12,5; 29,4; 16,9.  
 4.25.  $\frac{63\sqrt{3}}{4}$ . 4.26. 13. 4.27.  $\frac{3\sqrt{3}}{2}$ . 4.28. 28 или  $2\sqrt{181}$ . 4.29.  $\frac{3}{4}ab$ .  
 4.30.  $\sqrt{\frac{a^2+b^2}{2}}$ . 4.31. 22. 4.32.  $\frac{3}{2}S$  или  $\frac{1}{2}S$ . 4.33.  $75^\circ$ ,  $75^\circ$ ,  $105^\circ$ ,  $105^\circ$ .  
 4.34.  $30^\circ$ ,  $30^\circ$ ,  $150^\circ$ ,  $150^\circ$ . 4.35.  $\frac{1}{2}\sqrt{m^2 + n^2}$ . 4.36\*  $45^\circ$ ,  $135^\circ$ . 4.37\* 3 : 29.  
 4.38\*  $\sqrt{5}$ .

**§ 5. Подготовительные задачи**

- 5.1. 9,6. 5.2. 2. 5.3.  $\sqrt{5}$ . 5.4. 8. 5.5.  $\frac{ab}{a+b}$ . 5.6.  $\frac{ab\sqrt{2}}{a+b}$ . 5.7.  $\frac{24\sqrt{3}}{7}$ .  
 5.8. 4,8.

**Тренировочные задачи**

- 5.9.  $\frac{\sqrt{2S \sin \alpha \sin \beta \sin \gamma}}{\sin \alpha}$ ;  $\frac{\sqrt{2S \sin \alpha \sin \beta \sin \gamma}}{\sin \beta}$ ;  $\frac{\sqrt{2S \sin \alpha \sin \beta \sin \gamma}}{\sin \gamma}$ . 5.10.  $\frac{29}{5}$ .  
 5.11. 13,44. 5.12. 75. 5.13.  $\frac{a^3b}{2(a^2+b^2)}$ . 5.14.  $\frac{a^3b^3}{(a^2+b^2)^2}$ . 5.15. 6.  
 5.16.  $d\sqrt{2 + \frac{d}{c}}$ . 5.17.  $\frac{24}{\sqrt{145}}$ . 5.18.  $\frac{mn(m+n)}{m^2+n^2}$ . 5.19.  $\frac{\sqrt{3}}{4}$ ; 7. 5.20. 5.  
 5.21.  $\frac{4\sqrt{6}}{5}$ . 5.22.  $CD = \sqrt{6}$ ,  $CE = \frac{8}{5}$ ,  $DE = \frac{\sqrt{34}}{5}$ ,  $\rho = 2\sqrt{\frac{2}{5}}$ . 5.23.  $\frac{2 \cos \frac{\alpha}{3} + 3}{6 \cos \frac{\alpha}{3} + 1}$ .  
 5.24. 2;  $S = \operatorname{tg} 72^\circ = \sqrt{5 + 2\sqrt{5}}$ . 5.25\*  $ab - 2a$ .

## § 6. Подготовительные задачи

- 6.1. 1:7, считая от  $C$ . 6.2. 2:1, считая от точки  $B$ . 6.3. 5:24. 6.4. 8:13.  
 6.5. 20:21; 6:35. 6.6. 5:6; 8:25. 6.7. 1:2. 6.8. 1:6, считая от точки  $A$ .  
 6.9. 1:3, считая от точки  $A$ . 6.10.  $\frac{a+b}{c}$ .

## Тренировочные задачи

- 6.11.  $n:m$ . 6.12. 3:1, считая от вершины  $A$ . 6.13. 1:1. 6.14. 4. 6.15. 10.  
 6.16.  $2\sqrt{6}$ . 6.17. 1:3. 6.18. 3:1. 6.19. 1:4. 6.20.  $\sqrt{13}$ . 6.21\*: 1:2.  
 6.22\*: 4:3.

## § 7. Подготовительные задачи

- 7.1. 1. 7.2.  $\frac{13}{20}$ . 7.3.  $\frac{2}{15}$ . 7.4.  $\frac{1}{3}$ . 7.5.  $\frac{1}{3}$ . 7.6.  $18\sqrt{2}$ . 7.7.  $\frac{S}{2}$ .

## Тренировочные задачи

- 7.8.  $2\sqrt{S_1 S_2}$ . 7.9.  $\frac{1}{4}$ . 7.10.  $\frac{2mn}{(m+n)^2}$ . 7.11.  $\frac{S_1+S_2}{2}$ . 7.12. 120.  
 7.13.  $(\sqrt{s_1} + \sqrt{s_2})^2$ . 7.14.  $\frac{10}{3}$ . 7.15.  $\frac{S}{2}$ . 7.16.  $2S$ . 7.17.  $\frac{ab}{(a+b)^2}$ . 7.18.  $\frac{1}{5}$ .  
 7.19.  $\frac{b(3a+b)S}{2(a+b)(2a+b)}$ . 7.20. 2:1. 7.21.  $\frac{1}{3}d$ . 7.22.  $45^\circ, 90^\circ, 45^\circ$ . 7.23.  $9\sqrt{\frac{2}{7}}$ .  
 7.24.  $(\sqrt{S_1} + \sqrt{S_2} + \sqrt{S_3})^2$ . 7.25.  $\frac{2\sqrt{S_2(S_1+S_2)}}{\sqrt{4S_1^2 - S_2^2}}$ . 7.26. 3. 7.27.  $\frac{abc}{kmc + nma + knb}$ .  
 7.28.  $\frac{(l \sin \gamma + m \sin \alpha + n \sin \beta)^2}{2 \sin \alpha \sin \beta \sin \gamma}$ . 7.29.  $2\sqrt{pq}$ . 7.30. 13:23. 7.31.  $1 + 3k$ .  
 7.32.  $\frac{1}{7}$ .

## § 8. Подготовительные задачи

- 8.1.  $45^\circ$ . 8.2.  $80^\circ$ . 8.3. 12 и 20. 8.4. 1:3, считая от точки  $O$ . 8.5. 9.  
 8.6. 24. 8.7.  $2(r+R)$  или  $2(R-r)$ . 8.8.  $\frac{a}{2 \cos \frac{\alpha}{2}}$ . 8.9.  $90^\circ$ . 8.10.  $r^2(2\sqrt{3}+3)$ .  
 8.11.  $\frac{a+b}{2}$ . 8.12. 8 и 15.

## Тренировочные задачи

- 8.13. 2. 8.14.  $\frac{20}{3}$ . 8.15. 48 и 30. 8.16. 14. 8.17. 10. 8.18. 15 или 3.  
 8.19.  $\frac{4a}{7}, \frac{5a}{7}$ . 8.20.  $\frac{a \sin \beta}{\sin \alpha} \operatorname{ctg} \frac{\alpha + \beta}{2}$ . 8.21.  $\frac{120}{17}$ . 8.22.  $\sqrt{2ar}$ . 8.23.  $90^\circ, 45^\circ$ ,

45° или 90°,  $\arctg 3$ ,  $\text{arcctg } 3$ . 8.24.  $\sin 2\alpha$ . 8.25.  $2\sqrt{9+6\sqrt{2}}$ . 8.26.  $\frac{150}{7}$ .  
8.27.  $\frac{7}{3\sqrt{3}}$ . 8.28. 8.

### § 9. Подготовительные задачи

9.1.  $R$ , 60°, 60°, 60°. 9.2. 9. 9.3. 84. 9.4. 4. 9.5. 24. 9.6. 55.  
9.7.  $R(\sqrt{2} + 1)$ . 9.8. 2. 9.9.  $\frac{|R^2 - a^2|}{2R}$ . 9.10. 60°. 9.11.  $3r$ . 9.12. 1 : 3.  
9.13.  $6r\sqrt{3}$ . 9.14.  $R(2\sqrt{3} - 3)$ . 9.15.  $\frac{a+b}{2}$ .

### Тренировочные задачи

9.16. 8. 9.17.  $3\sqrt{2}$ . 9.18.  $\frac{a^2 + 4r^2}{4r}$ . 9.19. 3 : 2 или 1 : 2. 9.20.  $\frac{a}{4} \text{tg } \alpha$ ,  $\frac{a}{4} \text{ctg } \alpha$ .  
9.21. 7. 9.22.  $\frac{2rR}{r+R}$ . 9.23.  $\frac{ar}{2r+a}$ . 9.24. 8. 9.25. 30°. 9.26. 3 : 2. 9.27. 3.  
9.28.  $2\sqrt{Rr}$ ,  $2r\sqrt{\frac{R}{R+r}}$ ,  $2R\sqrt{\frac{r}{R+r}}$ . 9.29.  $\frac{Rr}{(\sqrt{R} \pm \sqrt{r})^2}$ . 9.30. 6. 9.31.  $\frac{15}{4}$ ;  $\frac{20}{3}$ .  
9.32. 1. 9.33. 12. 9.34.  $\frac{9}{4}$  или  $\frac{9}{2}$ . 9.35.  $\frac{9}{20}$  или  $\frac{9}{10}$ . 9.36.  $2 \pm \frac{4}{3}\sqrt{2}$ .  
9.37.  $2\sqrt{21} - 9$  или  $3 + 2\sqrt{3}$ . 9.38.  $\frac{rR\sqrt{3}}{\sqrt{r^2 - rR + R^2}}$ . 9.39.  $a\sqrt{1 \pm \frac{r}{R}}$ .  
9.40.  $b\sqrt{k^2 \pm k}$ . 9.41.  $\frac{\sqrt{5}}{2}$ . 9.42.  $2\sqrt{2}$ . 9.43.  $12\pi$ . 9.44.  $\frac{R\sqrt{3}}{4}$ . 9.45.  $2r\sqrt{5}$ .  
9.46.  $\frac{4(2 \pm \sqrt{3})}{3}$ . 9.47\*:  $\frac{a}{2}$ . 9.48\*:  $\frac{2rR}{R-r}$ .

### § 10. Подготовительные задачи

10.1. 24. 10.2.  $\frac{a\sqrt{2}}{\sqrt{3}+1}$ ,  $\frac{2a}{\sqrt{3}+1}$  или  $\frac{a\sqrt{2}}{\sqrt{3}-1}$ ,  $\frac{2a}{\sqrt{3}-1}$ . 10.3.  $2\sqrt{3}$ . 10.4.  $a$ .  
10.5.  $\frac{a+b}{2}$  или  $\frac{|a-b|}{2}$ . 10.6.  $\frac{b}{2}$ .

### Тренировочные задачи

10.7.  $\frac{384}{25}$ . 10.8.  $\frac{3\sqrt{5}}{5}$ . 10.9.  $\frac{6}{\sqrt{5}}$ . 10.10.  $\frac{n-m}{2m}$ . 10.11.  $a \cos \alpha$ .  
10.12.  $|\text{ctg } \alpha| \sqrt{a^2 + b^2 - 2ab \cos \alpha}$ . 10.13.  $\frac{5 + \sqrt{15}}{4}$ .

## § 11. Подготовительные задачи

- 11.1. 4. 11.2.  $30^\circ$  или  $150^\circ$ . 11.3.  $R^2 \operatorname{tg} \alpha$ . 11.4.  $\frac{a+b-c}{2}$ . 11.5.  $\frac{5}{2}, 1, 6, 3, 2$ .  
 11.6.  $\frac{169}{24}, \frac{10}{3}, \frac{15}{2}, 12, 12$ . 11.7.  $\frac{65}{8}, 4, \frac{21}{2}, 12, 14$ . 11.8.  $\frac{b-a}{2}$ . 11.9.  $\sqrt{\frac{a^2+b^2}{2}}$ .  
 11.10.  $\frac{85}{8}$ .

## Тренировочные задачи

- 11.11. Вне;  $\frac{3\sqrt{14}}{5}$ . 11.12.  $\operatorname{arctg} \frac{3}{4}, \operatorname{arcctg} \frac{3}{4}$ . 11.13.  $2R\sqrt{2}$ . 11.14.  $\sqrt{3}$ .  
 11.15.  $\sqrt{3}, 2\sqrt{3}$  или  $2\sqrt{3}, \sqrt{3}$ . 11.16.  $165^\circ$  или  $105^\circ$ . 11.17.  $\frac{b}{2\cos \frac{\alpha}{2}}$ .  
 11.18.  $\frac{a^2}{\sqrt{4a^2-b^2}}$ . 11.19.  $2\sqrt{\frac{34}{15}}$ . 11.20.  $\frac{br}{c}$ . 11.21.  $36^\circ, 36^\circ, 108^\circ$ .  
 11.22.  $\operatorname{tg} \frac{\varphi}{2} \sin 2\varphi$ . 11.23.  $\frac{1}{2}(p-a)^2 \operatorname{tg} \frac{\alpha}{2}$ . 11.24.  $\frac{1}{2}p(p-a) \operatorname{tg} \frac{\alpha}{2}$ . 11.25. 13 и 15.  
 11.26. 5. 11.27. 16. 11.28.  $4\sqrt{3}$ . 11.29. 1. 11.30. 2. 11.31.  $b+p$ . 11.32.  $\frac{4R^3}{S}$ .  
 11.33. 9:14. 11.34. 2. 11.35.  $30^\circ, 90^\circ$ . 11.36.  $\operatorname{ctg}^2 \alpha$ . 11.37.  $\frac{9\sqrt{3}}{4}$ . 11.38.  $\frac{8}{5}R^2$ .  
 11.39.  $\sqrt{3}$ . 11.40.  $45^\circ$ .

## § 12. Подготовительные задачи

- 12.1.  $2\sqrt{ab}$ . 12.2.  $\frac{ac+bd}{a}$ . 12.3. 1. 12.4. 12 или  $3\sqrt{2}$ . 12.5. 0,2. 12.6.  $|R^2-d^2|$ .  
 12.7.  $\frac{2a}{\sqrt{5}}$ . 12.8.  $\frac{2ar}{\sqrt{r^2+a^2}}$ . 12.9.  $\sqrt{2a(a+b)}$  или  $\sqrt{2b(a+b)}$ . 12.10.  $90^\circ$ .

## Тренировочные задачи

- 12.11.  $\frac{17}{4}$ . 12.12.  $\frac{a}{2\sin \alpha} (\sqrt{\sin^2 \beta + 8\sin^2 \alpha} - \sin \beta)$ . 12.13.  $\frac{\sqrt{5}}{6}$ . 12.14.  $\sqrt{2}$ .  
 12.15.  $\frac{3}{2}(\sqrt{5} \pm 1)$ . 12.16.  $\sqrt{5} \pm 1$ . 12.17. 210. 12.18.  $\frac{\sqrt{a^2+b^2+2ab \sin \frac{\alpha}{2}}}{2\cos \frac{\alpha}{2}}$ .  
 12.19.  $\sqrt{10}$ . 12.20.  $\frac{11}{10}$ . 12.21.  $\frac{5}{3}$ . 12.22.  $\frac{16}{5}$ . 12.23.  $\frac{8}{5}$ . 12.24. 2.  
 12.25.  $\frac{\sqrt{17}-1}{2}$ . 12.26. 40. 12.27.  $\frac{a+b-2\sqrt{ab}\cos \alpha}{2\sin \alpha}$ . 12.28. 1. 12.29.  $2(5 \pm 2\sqrt{3})$ .  
 12.30.  $\sqrt{ab}$ . 12.31. 5:10:13. 12.32.  $\sqrt{rR}, \sqrt{\frac{r}{R}}$ . 12.33\*:  $8k-1$ . 12.34\*:  $\sqrt{3}$ .

§ 13. Подготовительные задачи

- 13.1.  $110^\circ$  и  $250^\circ$ . 13.2.  $\angle MAB = \angle NAC = 40^\circ$  или  $\angle MAB = \angle NAC = 140^\circ$ .  
 13.3.  $35^\circ$  или  $55^\circ$ . 13.4.  $40^\circ, 80^\circ, 60^\circ$  или  $60^\circ, 20^\circ, 100^\circ$ . 13.5.  $96^\circ, 132^\circ, 84^\circ, 48^\circ$ . 13.6. 3. 13.7.  $25^\circ$ . 13.8.  $\frac{a}{2|\cos\beta|}$ . 13.9.  $50^\circ$ . 13.10.  $25^\circ$ . 13.11.  $81^\circ$ .  
 13.12.  $\sqrt{2}$ . 13.13.  $\frac{\beta + \gamma - \alpha}{2}$ .

Тренировочные задачи

- 13.14.  $\frac{a \cos \frac{\beta - \alpha}{2}}{\sin(\beta + \alpha)}$ . 13.15.  $\angle BAC = 110^\circ, \angle BCA = 30^\circ, \angle DCA = 60^\circ, \angle DAC = 80^\circ$ .  
 13.16.  $80^\circ$ . 13.17.  $30^\circ, 40^\circ, 110^\circ$ . 13.18.  $\arcsin \frac{a}{b}$ . 13.19.  $\frac{5}{27}\pi$ . 13.20.  $\frac{a}{2}$ .  
 13.21. 1; 1;  $\sqrt{3}$ ;  $120^\circ$ ;  $30^\circ$ ;  $30^\circ$ . 13.22.  $90^\circ + \alpha$ , если  $\alpha \leq 45^\circ$ ;  $90^\circ - \alpha$ , если  $\alpha > 45^\circ$ . 13.23.  $\frac{c\sqrt{3}}{3}$ . 13.24.  $80^\circ$ . 13.25.  $15^\circ$ . 13.26.  $2r^2 \sin^2 \alpha \sin 2\alpha$ .  
 13.27.  $\frac{8}{3}$ . 13.28.  $\frac{\sqrt{49 - 9\text{tg}^2 \alpha}}{2\sin \alpha}$ . 13.29.  $\frac{2}{3}$ . 13.30.  $\frac{1}{4\cos^2 \alpha}$ . 13.31.  $90^\circ, 60^\circ, 30^\circ$ .  
 13.32.  $180^\circ - 2\alpha$ . 13.33.  $\frac{185}{8}$ . 13.34.  $a^2 \text{ctg} \frac{\alpha}{2}$ . 13.35.  $\frac{\sqrt{b^2 - a^2}}{2\cos \frac{\alpha}{2}}$ . 13.36.  $\sqrt{3}$ .  
 13.37\*:  $\angle A = 60^\circ, \angle B = 15^\circ, \angle C = 105^\circ$  или  $\angle A = 60^\circ, \angle B = 105^\circ, \angle C = 15^\circ$ . 13.38\*: 1.

§ 14. Подготовительные задачи

- 14.1. 4, 8, 12, 16. 14.2. 10. 14.3.  $\frac{3a+2b}{5}$ . 14.4.  $\frac{4a-b}{5}$ . 14.5.  $\frac{24}{7}$ . 14.6. 12.  
 14.7.  $\frac{1}{2}$ . 14.8. 1 и 3. 14.9. 4, 6, 4, 6.

Тренировочные задачи

- 14.10. 1 и 2. 14.11. 35. 14.12. 1 : 1. 14.13.  $\frac{2ab}{a+b}$ . 14.14.  $\frac{4r\sqrt{rR}}{R+r}$ .  
 14.15.  $\sqrt{\frac{3a^2+2b^2}{5}}$  или  $\sqrt{\frac{2a^2+3b^2}{5}}$ . 14.16. 2. 14.17. 5, 20,  $\frac{25}{2}, \frac{25}{2}$ . 14.18. 2.  
 14.19.  $\frac{2\sqrt{3}}{3}$ . 14.20.  $\sqrt{ab}$ . 14.21.  $\frac{a\sqrt{3}}{2}$ . 14.22.  $\frac{mc}{n}$ . 14.23.  $\sqrt{a(a+b)}$ .  
 14.24.  $\sqrt{pq}$ . 14.25.  $\frac{ap}{c}$ . 14.26. 2. 14.27.  $\sqrt{2}$ . 14.28.  $\frac{R^2}{a}$ . 14.29.  $\sqrt{pq}$ .  
 14.30.  $\sqrt{a(a-b)}$ . 14.31\*:  $\frac{bc}{a}$ . 14.32\*:  $\frac{3\sqrt{6}}{2}$ . 14.33\*:  $\sqrt{ab}$ . 14.34\*:  $\frac{ac}{b}$ .

§ 15. Подготовительные задачи

- 15.1. 1. 15.2.  $S \cos^2 \alpha$ . 15.3.  $60^\circ, 40^\circ, 80^\circ$ . 15.4.  $30^\circ$ . 15.5.  $\frac{c(a^2+b^2-c^2)}{4ab}$ .  
 15.6.  $\frac{1}{2}\sqrt{a^2+c^2+ac}$ . 15.7.  $\sqrt{a^2+b^2 \pm 2abk}$ . 15.8. 10.



**Тренировочные задачи**

- 15.9.  $\frac{\sqrt{6}}{3}$ . 15.10.  $8\sqrt{3}$  или 24. 15.11.  $60^\circ$  или  $120^\circ$ . 15.12.  $45^\circ$  или  $135^\circ$ .  
 15.13.  $\frac{25}{\sqrt{39}}$ . 15.14.  $45^\circ, 75^\circ, 60^\circ$ . 15.15.  $30^\circ$ . 15.16.  $\frac{24}{5}$ . 15.17. 13. 15.18. 340.  
 15.19.  $\frac{5a}{8}$ . 15.20.  $\frac{1}{2}a^2 \operatorname{ctg} \alpha$ . 15.21\*  $\frac{m^2 - h^2}{2h}$ .

**Диагностическая работа 1**

1.  $\frac{1}{2}$  или  $\frac{9}{2}$ . 2.  $\frac{240}{17}$ . 3.  $58^\circ$ . 4. 1180. 5. 3. 6.  $\frac{24}{5}; 3; 4; 3; 4$ .

**Диагностическая работа 2**

1.  $2\sqrt{97}, 48$ . 2.  $2R$ . 3. 0,3. 4.  $2\sqrt{3}$ . 5.  $\frac{36}{5}$ . 6.  $a$ .

**Диагностическая работа 3**

1.  $2\sqrt{5}, 4\sqrt{5}$ . 2.  $2(r \operatorname{ctg} \frac{\alpha}{2} + 2R \sin \alpha)$ . 3. 8, 6 или 4, 12. 4.  $\sqrt{a(a+b)}, \sqrt{b(a+b)}$ .  
 5. 4. 6.  $\frac{(a+b)^2}{4}$ .

**Диагностическая работа 4**

1. 15. 2.  $2(\sqrt{2} \pm 1)$ . 3.  $\frac{6}{5}$ . 4.  $\sqrt{97}$  или  $\sqrt{57}$ . 5. 4. 6.  $1 + \sqrt{3}$ .

**Диагностическая работа 5**

1. 6. 2. 96. 3.  $\frac{2rR\sqrt{rR}}{r+R}$ . 4.  $\frac{2}{3}$ . 5.  $\frac{1}{3}$  или  $\frac{9}{11}$ . 6.  $\frac{1}{3}$ .

**Диагностическая работа 6**

1. 1 или 4. 2.  $\frac{a}{2}$ . 3. 2. 4.  $\frac{20\sqrt{5}}{3}$ . 5. 6 или 4. 6.  $R$ .

## Содержание

Предисловие . . . . .	3
Диагностическая работа . . . . .	5
§ 1. Медиана прямоугольного треугольника. Решение задачи 1 из диагностической работы . . . . .	7
Подготовительные задачи . . . . .	10
Тренировочные задачи . . . . .	10
§ 2. Удвоение медианы. Решение задачи 2 из диагностической работы . . . . .	13
Подготовительные задачи . . . . .	17
Тренировочные задачи . . . . .	17
§ 3. Параллелограмм. Средняя линия треугольника. Решение задачи 3 из диагностической работы . . . . .	19
Подготовительные задачи . . . . .	23
Тренировочные задачи . . . . .	23
§ 4. Трапеция. Решение задачи 4 из диагностической работы . . . . .	26
Подготовительные задачи . . . . .	30
Тренировочные задачи . . . . .	30
§ 5. Как находить высоты и биссектрисы треугольника? Решение задачи 5 из диагностической работы . . . . .	34
Подготовительные задачи . . . . .	39
Тренировочные задачи . . . . .	39
§ 6. Отношение отрезков. Решение задачи 6 из диагностической работы . . . . .	42
Подготовительные задачи . . . . .	46
Тренировочные задачи . . . . .	46
§ 7. Отношение площадей. Решение задачи 7 из диагностической работы . . . . .	49
Подготовительные задачи . . . . .	52
Тренировочные задачи . . . . .	52

---

§ 8. Касательная к окружности.	
Решение задачи 8 из диагностической работы . . . . .	56
Подготовительные задачи . . . . .	60
Тренировочные задачи . . . . .	61
§ 9. Касающиеся окружности.	
Решение задачи 9 из диагностической работы . . . . .	63
Подготовительные задачи . . . . .	67
Тренировочные задачи . . . . .	68
§ 10. Пересекающиеся окружности.	
Решение задачи 10 из диагностической работы . . . . .	73
Подготовительные задачи . . . . .	76
Тренировочные задачи . . . . .	76
§ 11. Окружности, связанные с треугольником и четырёхугольником. Решение задачи 11 из диагностической работы . . . . .	78
Подготовительные задачи . . . . .	86
Тренировочные задачи . . . . .	86
§ 12. Пропорциональные отрезки в окружности.	
Решение задачи 12 из диагностической работы . . . . .	90
Подготовительные задачи . . . . .	93
Тренировочные задачи . . . . .	93
§ 13. Углы, связанные с окружностью. Метод вспомогательной окружности. Решение задачи 13 из диагностической работы . . . . .	97
Подготовительные задачи . . . . .	103
Тренировочные задачи . . . . .	104
§ 14. Вспомогательные подобные треугольники.	
Решение задачи 14 из диагностической работы . . . . .	108
Подготовительные задачи . . . . .	111
Тренировочные задачи . . . . .	111
§ 15. Некоторые свойства высот и точки их пересечения.	
Решение задачи 15 из диагностической работы . . . . .	115
Подготовительные задачи . . . . .	122
Тренировочные задачи . . . . .	122
Диагностическая работа 1 . . . . .	125

---

Диагностическая работа 2 . . . . .	126
Диагностическая работа 3 . . . . .	127
Диагностическая работа 4 . . . . .	128
Диагностическая работа 5 . . . . .	129
Диагностическая работа 6 . . . . .	130
Приложение. Список полезных фактов . . . . .	131
Литература . . . . .	137
Ответы . . . . .	138
Тренировочные задачи . . . . .	138

*Гордин Рафаил Калманович*

МАТЕМАТИКА. ЗАДАЧА С4.

Под редакцией А. Л. Семенова и И. В. Яценко

Подписано в печать 02.02.2009 г. Формат  $60 \times 90 \frac{1}{16}$ . Бумага офсетная.  
Печать офсетная. Печ. л. 9,5. Тираж 7 000 экз. Заказ № 173.

Издательство Московского центра  
непрерывного математического образования.  
119002, Москва, Большой Власьевский пер., д. 11. Тел. (499) 241-74-83

Отпечатано с готовых диапозитивов в ППП «Типография „Наука“».  
121099, Москва, Шубинский пер., 6.

---

Книги издательства МЦНМО можно приобрести в магазине «Математическая книга»,  
Большой Власьевский пер., д. 11. Тел. (499) 241-72-85. E-mail: biblio@mccme.ru

---

Книгу можно купить  
в магазине «Математическая книга»  
в здании Московского центра  
непрерывного математического образования.

**МЦНМО**

Адрес магазина: 119002, Москва, Бол. Власьевский пер., 11.  
Проезд до станции метро «Смоленская» или «Кропоткинская»,  
далее пешком.

Магазин работает ежедневно кроме воскресенья  
с 11:00 до 20:00.

e-mail: [biblio@mccme.ru](mailto:biblio@mccme.ru)

Адрес в Интернете: [www.biblio.mccme.ru](http://www.biblio.mccme.ru)

Книга – почтой: [biblio@mccme.ru](mailto:biblio@mccme.ru)



(499) 241-7285

(495) 745-8031



(495) 229-6759

КНИГОТОРГОВАЯ  
КОМПАНИЯ



Оптовые заказы: [abrisd@textbook.ru](mailto:abrisd@textbook.ru)

Розничные заказы: в интернет-магазине [UMLIT.RU](http://UMLIT.RU)

# ЕГЭ 2010

## Математика

ISBN 978-5-94057-594-8



9 785940 575948 >